



SMP Ceria

Tahun Ajaran

2023/2024




# LEMBAR KERJA PESERTA DIDIK


NAMA:



<b>CAPAIAN PEMBELAJARAN</b>	<b>TUJUAN PEMBELAJARAN</b>
Di akhir fase D, peserta didik dapat merumuskan pertanyaan, mengumpulkan, menyajikan, dan menganalisis data untuk menjawab pertanyaan. Mereka dapat menggunakan diagram batang dan diagram lingkaran untuk menyajikan dan menginterpretasi data.	<ul style="list-style-type: none"> <li>● Peserta didik dapat menyajikan dan menafsirkan data dalam bentuk tabel, diagram garis, diagram batang, dan diagram lingkaran.</li> <li>● Peserta didik dapat menyelesaikan masalah yang berkaitan dengan perhitungan data yang disajikan dalam tabel, diagram garis, diagram batang dan diagram lingkaran.</li> </ul>
<b>PETUNJUK Pengerjaan</b>	
1. Bacalah LKPD ini dengan teliti dan seksama	
2. Kerjakan semua instruksi dan soal-soal yang ada	
3. Berdo'alah sebelum belajar, semoga mendapatkan ilmu yang bermanfaat.	



SILAHKAN SIMAK VIDEO DI BAWAH INI 😊






**SETELAH MENYIMAK VIDEO SEBELUMNYA, SILAHKAN MENERJAKAN SOAL-SOAL DI BAWAH INI !!**

**1. Isilah kotak kosong di bawah sesuai dengan pengertian yang tepat pada tabel, dengan cara memilih jawaban yang benar sesuai pilihan yang ada**

<b>Cara</b>	<b>Teknik</b>	<b>Data yang</b>	<b>Cara</b>
<b>mengumpulkan</b>	<b>pengumpulan</b>	<b>diperoleh</b>	<b>mengumpulkan</b>
<b>data dengan</b>	<b>data yang</b>	<b>secara</b>	<b>data dengan</b>
<b>memberi</b>	<b>dilakukan</b>	<b>langsung</b>	<b>mengajukan</b>
<b>seperangkat</b>	<b>dengan</b>	<b>dari</b>	<b>pertanyaan</b>
<b>pertanyaan</b>	<b>melakukan</b>	<b>sumbernya</b>	<b>secara</b>
<b>atau</b>	<b>pengamatan</b>		<b>langsung</b>
<b>pernyataan</b>			<b>kepada</b>
<b>tertulis kepada</b>			<b>narasumber.</b>
<b>narasumber</b>			
<b>untuk dijawab</b>			




2. Berikut data ukuran sepatu siswa kelas VIIA SMP Ceria:

35 38 34 36 37 38 35 36 37 37

38 37 34 38 36 35 35 38 37 38

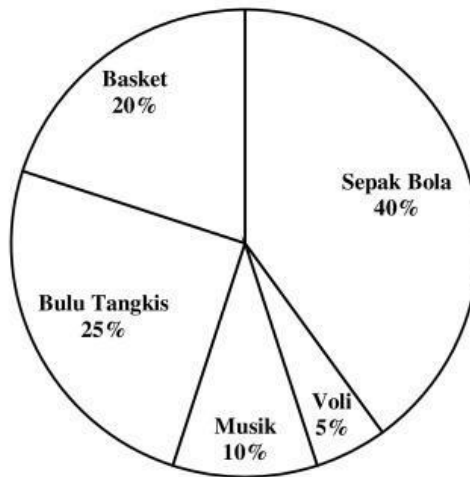
Hubungkan tabel dibawah sesuai data di atas dengan.....

UKURAN SEPATU	JUMLAH SISWA
34	4
35	2
36	3
37	6
38	5



**Diagram berikut untuk soal no 3 s.d 5**

**Hobi Siswa Kelas VII**



**3. Jika banyak siswa kelas VII ada 200, banyak siswa yang memiliki hobi sepak bola adalah ....**

**A. 40**

**C. 120**

**B. 80**

**D. 160**

**4. Untuk persiapan lomba bulu tangkis, banyak siswa yang bisa dipersiapkan untuk ikut lomba ada .... anak**

**A. 10**

**C. 25**

**B. 20**

**D. 50**

**5. Banyak siswa yang memiliki hobi selain basket adalah ....**

**A. 40**

**C. 180**

**B. 160**

**D. 200**

**SELAMAT MENERJAKAN 😊**

