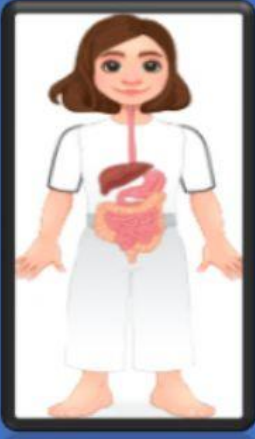

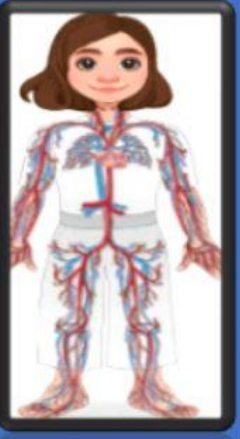
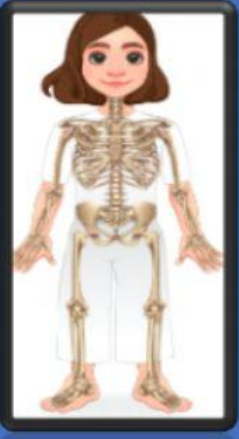


NAMA :

KELAS :

1. Perhatikan dan namakan gambarajah sistem di bawah dengan betul dan tepat.

- Sistem rangka
- Sistem peredaran darah
- Sistem pencernaan
- Sistem pernafasan

Gambarajah sistem				
Nama Sistem				

2. Lengkapkan pernyataan berikut berdasarkan jawapan yang diberi.

- bernafas
- pencernaan
- udara
- pernafasan
- trakea
- esofagus

Seseorang yang tercekik makanan akan menyebabkan sistem _____ terganggu di bahagian esofagus. Makanan yang terperangkap di _____ akan menghalang _____ memasuki _____ dan akan menyebabkan sistem _____ terganggu kerana mengalami kesukaran _____.