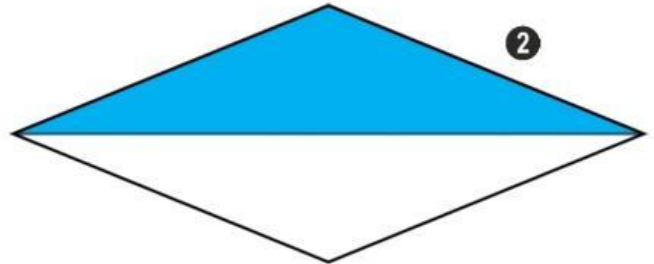
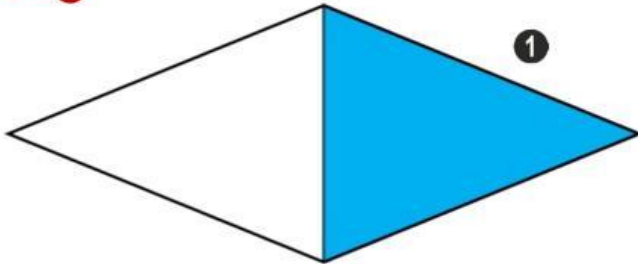





Qué rombo tiene mayor área coloreada? ¿Por qué?




Si cada rombo del pavimento tiene unas diagonales de 10 y 20 cm, ¿qué área tendrá cada estrella de seis puntas?

Área de la estrella



Si las diagonales fueran el doble de largas, ¿el área de los rombos sería también el doble? Compruébalo calculando el área de esos nuevos rombos.

Área de la estrella doble



Calcula el área de estos rombos:

ROMBO UNO

Diagonal mayor: 10 dm

Diagonal menor: la mitad de la mayor.

ROMBO DOS

Diagonal mayor: 35 cm más que la menor.

Diagonal menor: 12 cm