

Imię i nazwisko.....

Zad. Wpisz odpowiedź

Wśród dzieci przeprowadzono ankietę, dotyczącą ich ulubionego polskiego owocu. Wyniki ankiety przedstawiono na diagramie obok.



a) Ile procent ankietowanych najbardziej lubi jabłka?

b) Wymień dwa najrzadziej wskazywane owoce.

c) Jaki owoc wybrała ponad $\frac{1}{4}$ ankietowanych?**Zad.** Połącz linią procenty z rysunkami:

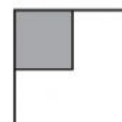

80%

60%

25%

75%

ok.83%

**Zad.** Uzupełnij i

Oblicz:

a) 25% kwoty 280 zł

b) 30% masy 700 t

Zad. Zamień na procenty

Oceń prawdziwość zdań. Wstaw znak X w odpowiednią kratkę.

10% kwoty 140 zł to 14 zł.

 prawda fałsz

5% masy 80 kg to 4 kg.

 prawda fałsz150% objętości 40 dm³ to 600 dm³. prawda fałsz

50% trasy o długości 18,5 km to mniej niż 9 km.

 prawda fałsz

Zad. Zamalowana część wszystkich figur to:

- A. 20%
- B. 80%
- C. 2%
- D. 8%



Zad. 25% kwoty 120 zł to:

- A. 30zł
- B. 40zł
- C. 60zł
- D. 90 zł

Zad.

Bluzka kosztuje 50 zł. Ile będzie kosztowała po podwyżce o 10%? Zapisz obliczenia.

Zad. Liczba o 80% mniejsza od 400 to:

- A. 320
- B. 80
- C. 720
- D. 480

Zad. Przeciągnij i upuść.

40%	700%	50%	100%	75%	25%	20%
<input type="text"/>	<input type="text"/>	<input type="text"/>	<input type="text"/>	<input type="text"/>	<input type="text"/>	<input type="text"/>
<input type="text" value="1/4"/>	<input type="text" value="1/2"/>	<input type="text" value="0,4"/>	<input type="text" value="3/4"/>	<input type="text" value="1/5"/>	<input type="text" value="7"/>	<input type="text" value="1"/>

Zad.

Dokończ zdania. Wybierz właściwe odpowiedzi spośród A lub B oraz C lub D.

Kwota o 30% mniejsza od 600 zł to

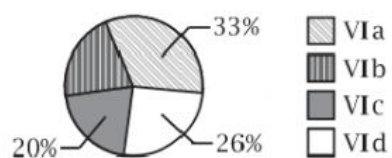
- A. 420 zł
- B. 570 zł

Kwota o 30% większa od 210 zł to

- C. 240 zł
- D. 273 zł

Zad.

Uczniowie klas szóstych wzięli udział w akcji zbierania nakrętek. Diagram przedstawia, jaki procent uzbiętych nakrętek stanowiły nakrętki zebrane przez poszczególne klasy. Oceń prawdziwość zdań. Wstaw znak X w odpowiednią kratkę.



Klasy VIa i VIb zebrały razem więcej niż połowę nakrętek.

prawda fałsz

Co piąta nakrętka została przyniesiona przez ucznia klasy VI d.

prawda fałsz