

UJIAN SEKOLAH (US)

TAHUN PELAJARAN 2023 / 2024

UTAMA

SD/MI

**Seni Budaya dan Prakarya
(SBdP)**

...., 2024 (07.30 – 09.30)

DINAS PENDIDIKAN KABUPATEN SINJAI

MATA PELAJARAN

Mata Pelajaran : Seni Budaya dan Prakarya (SBdP)

Jenjang : SD/MI

WAKTU PELAKSANAAN

Hari/ Tanggal :

Waktu : 90 Menit

PETUNJUK UMUM

1. Isikan identitas anda ke dalam Lembar Jawaban Ujian Sekolah (LJUS) yang tersedia dengan menggunakan pulpen.
2. Jumlah soal sebanyak 40 butir soal pilihan ganda.
3. Periksa dan bacalah soal-soal sebelum menjawabnya.
4. Laporkan kepada pengawas apabila terdapat lembar soal yang kurang jelas, rusak, atau tidak lengkap.
5. Tersedia waktu 90 menit untuk mengerjakan paket soal tersebut.
6. Tidak diizinkan menggunakan kalkulator, HP, atau alat hitung lainnya.
7. Periksalah pekerjaannya sebelum diserahkan kepada pengawas ujian.
8. Lembar soal tidak boleh dicoret-coret.

******Selamat Bekerja******

PILIHAN GANDA

Berilah tanda silang (X) pada pilihan jawaban A, B, C, atau D yang kamu anggap paling tepat!

1. Cermati gambar berikut!



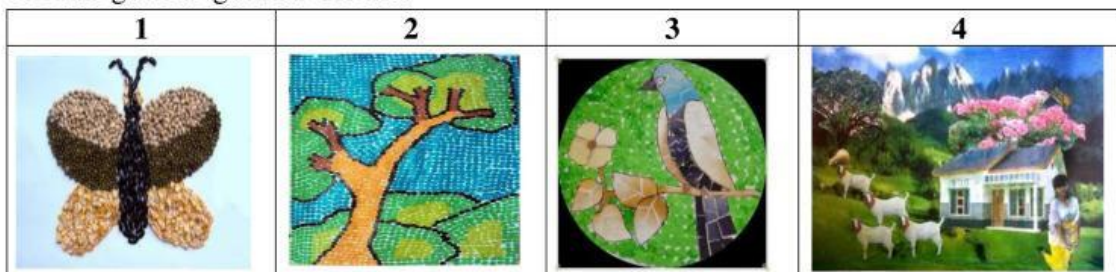
Tarian tersebut merupakan jenis tarian tunggal yang berasal dari daerah

- Sulawesi Selatan
 - Sulawesi Tengah
 - Sulawesi Utara
 - Sulawesi Barat
2. Tanda tempo pada lagu adalah tanda yang menunjukkan cepat atau lambatnya lagu dinyanyikan. Pernyataan tanda tempo berikut yang tepat adalah
- allegro : sangat lambat dan luhur
 - grave : sangat cepat
 - moderato : sedang
 - andante : cepat
3. Perhatikan tabel berikut!

Nama Tarian	Asal Daerah
1. Tari Kabasaran	A. Sulawesi Barat
2. Tari Kipas Pakarena	B. Sulawesi Selatan
3. Tari Mangaru	C. Sulawesi Tenggara
4. Tari Sasambo	D. Sulawesi Tengah
5. Tari Pattennung	E. Sulawesi Tengah

Nama dan asal daerah tarian yang tepat berdasarkan tabel tersebut adalah

- 1A – 2B – 3C
 - 3C – 4D – 5E
 - 2B – 3C – 4D
 - 2C – 3D – 4E
4. Cermati gambar-gambar berikut!



Yang termasuk hasil karya seni *montase* adalah

- 1
- 2
- 3
- 4

5. Cermati gambar-gambar berikut!



Gambar tiga dimensi dan bentuknya yang tepat adalah

- A. 1 – mozaik
- B. 2 – keramik
- C. 3 – montase
- D. 4 – kriya

6. Cermati lirik lagu berikut!

*Padamu negeri kami berjanji
Padamu negeri kami berbakti
Padamu negeri kami mengabdikan
Bagimu negeri jiwa raga kami*

Tempo yang tepat untuk lagu tersebut adalah

- A. Allegro
- B. Moderato
- C. Allegretto
- D. Presto

7. Perhatikan tabel berikut ini!

1. Potong-potong kertas origami/koran atau majalah bekas sesuai warna yang diinginkan dengan menggunakan gunting.
2. Menyiapkan alat dan bahan untuk pembuatan mozaik
3. Tutup pola secara menyeluruh dengan kertas warna- warni sesuai dengan keinginan.
4. Buatlah sketsa atau gambar pola pada buku gambar sesuai dengan keinginan

Langkah-langkah yang tepat dalam membuat karya seni mozaik adalah

- A. 4 – 2 – 3 – 1
- B. 3 – 1 – 2 – 4
- C. 2 – 4 – 1 – 3
- D. 1 – 2 – 3 – 4

8. Perhatikan pernyataan berikut!


Bersifat riang gembira, bersemangat, biasanya diawali dan diakhiri dengan nada *do* dan mempunyai pola interval.

Pernyataan tersebut merupakan ciri -ciri dari tangga nada

- A. minor
- B. mayor

- C. diatonis
D. pentatonis

9. Perhatikan gambar berikut!



Corak gambar ilustrasi di atas yang berfungsi untuk memberikan kritikan dan saran dengan karakter yang lucu dan aneh ditunjukkan oleh gambar

- A. 4
B. 3
C. 2
D. 1
10. Perhatikan gambar berikut!



Media yang digunakan untuk mewarnai gambar cerita di atas adalah

- A. cat minyak dan krayon
B. krayon dan pulpen
C. pensil dan spidol
D. cat air dan spidol
11. Bacalah teks berikut dan perhatikan gambarnya!

Membuat Cerita Bergambar

Udin pandai membuat cerita bergambar atau komik. Kepandaian Udin membuat cerita bergambar karena gemar membaca. Saat liburan sekolah, Udin menggunakan waktunya untuk membuat cerita bergambar. Adapun langkah-langkah yang dilakukan Udin dalam membuat cerita bergambar ditunjukkan oleh gambar berikut.



1



2



3

Sumber : Buku Siswa Tema 2 Kelas 5

Berdasarkan gambar di atas, urutan langkah–langkah dalam membuat gambar cerita yang tepat adalah

- A. 1 - 2 - 3
- B. 1 - 3 - 2
- C. 2 - 1 - 3
- D. 2 - 3 - 1

12. Perhatikan bacaan berikut ini!

Tangga nada berhubungan erat dengan karakter lagu. Tangga nada mayor, yaitu tangga nada yang mempunyai jarak atau interval $1 - 1 - 1/2 - 1 - 1 - 1 - 1/2$. Keunikan dari tangga nada mayor berada pada jumlah notasi. Pada tangga nada ini, terdapat 8 notasi yang tersusun sesuai dengan nilai jarak nada antar notasinya.

Berdasarkan bacaan di atas, lagu berikut yang menggunakan tangga nada tersebut adalah

- A. Hymne Guru
- B. Gugur Bunga
- C. Halo-Halo Bandung
- D. Mengheningkan Cipta

13. Perhatikan susunan nada berikut ini!

do – mi – fa – sol – si

Berdasarkan pernyataan di atas, lagu berikut yang menggunakan tangga nada tersebut adalah

- A. pelog
- B. mayor
- C. minor
- D. slendro

14. Perhatikan teks lagu berikut ini!

GUGUR BUNGA

by: Nacangla-muik.blogspot.com

3 | : 6 6 6 7 1 2 3 | 4 3 . 1 6 1 | 7 . 7 5 6 4 | 3 . .

Be tapa ha ti ku takkan rindu telah gu gur pahlawan ku

a pa kini pe lipur lara nan seti a dan perwi ra

0 3 | 2 2 2 3 4 3 2 7 | 2 1 1 7 6 7 6 | 5 . 4 6 | 5 . . 3 :

Be tapa hati ku tak akan sedih hamba ditinggal sendir ri Si

Si a pa kah kini pahlawan hati pembela bang-

5 . 7 2 | 1 . . 3 | 5 . 4 3 4 2 4 | 3 . . 1 | 2 . 1 7 1

sa se ja ti Te lah gugur pahlawanku, tu nai sudah jan-

6 7 | 1 . . 3 | 5 . 4 3 4 2 4 | 3 . . 1 | 2 . 1 7 1 6 7

ji bak ti Gu gur satu tumbuh seribu Ta nah a ir ja ya pas-

1 . . 3 | 6 6 6 7 1 2 3 | 4 3 . 1 6 1 | 7 . 7 5 6 4 | 3 .

ti Gu gur bungaku ditaman bakti di hari ba an Perti wi

0 3 | 2 2 2 3 4 3 2 7 | 2 1 1 7 6 7 6 | 5 . 7 2 | 1 . . |

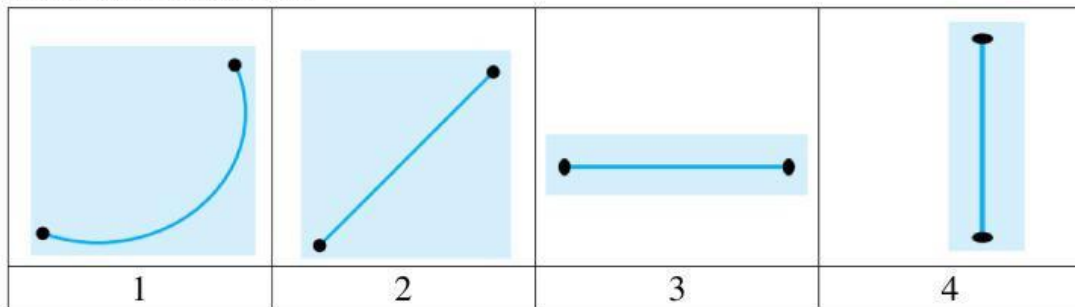
Ha rum semerbak menambahkan sari Tanah a ir ja ya sakti

Teks lagu nasional di atas memiliki jenis tangga nada diatonis dengan ciri-ciri

- A. bersemangat
- B. bersifat riang gembira
- C. mempunyai pola interval 1-1-1/2-1-1-1-1/2

D. biasanya diawali dan diakhiri nada *la*, namun tidak menutup kemungkinan diawali nada *mi* dan diakhiri nada *la*


15. Perhatikan gambar berikut!



Pola lantai merupakan garis yang dilalui penari pada saat melakukan gerak tari. Berdasarkan gambar di atas, yang merupakan pola lantai garis diagonal ditunjukkan pada gambar nomor

- A. 1
- B. 2
- C. 3
- D. 4

16. Perhatikan ilustrasi gambar berikut ini!



Pada gambar di atas, tarian yang menggunakan pola lantai melengkung ditunjukkan nomor

- A. 1 dan 4
- B. 1 dan 2
- C. 2 dan 4
- D. 3 dan 4

17. Perhatikan pernyataan berikut!

Nana, Lani, Siti, dan Dayu sedang berlatih menari tarian daerah. Nana berlatih Tari Saman, Lani berlatih Tari Kipas Pakarena, Siti berlatih Tari Piring, dan Dayu berlatih Tari Bosara.

Berdasarkan pernyataan di atas, yang merupakan tarian daerah yang berasal dari daerah Sulawesi Selatan adalah

- A. Tari Kipas Pakarena dan Tari Saman
- B. Tari Kipas Pakarena dan Tari Bosara
- C. Tari Kipas Pakarena dan Tari Piring
- D. Tari Piring dan Tari Bosara

18. Perhatikan gambar berikut!



Nama motif batik yang ditampilkan pada gambar tersebut adalah

- A. Batik Cirebon Pekalongan
- B. Batik Solo Parang Kusumo
- C. Batik Cirebon Mega Mendung
- D. Batik Kulon Progo Geblek Renteng

19. Perhatikan pernyataan berikut!

Seni kriya merupakan seni kerajinan dalam membuat benda-benda pakai berdasarkan kegunaan dan keindahannya dalam kehidupan sehari-hari.

Berikut ini yang merupakan contoh karya seni berdasarkan pernyataan di atas adalah

- A. batik, songket, dan tenun
- B. patung, lukisan, dan batik
- C. lukisan, songket, dan tenun
- D. kaligrafi, patung, dan lukisan

20. Perhatikan pernyataan berikut!

- 1. Sebagai media untuk mengekspresikan jiwa.
- 2. Sebagai media hiburan (*refreshing*).
- 3. Sebagai media pendidikan.
- 4. Sebagai media keagamaan.

Dari pernyataan di atas, yang **tidak** termasuk fungsi sosial karya seni rupa daerah adalah

- A. 1
- B. 2
- C. 3
- D. 4

21. Perhatikan tabel berikut!

Pernyataan	
1	Singkat dan jelas
2	Menarik dan mencolok
3	Jujur
4	Dilakukan berulang

Pernyataan pada tabel di atas merupakan ciri-ciri dari

- A. reklame
- B. cergam
- C. cover
- D. logo

22. Cermati gambar berikut!



Yang termasuk reklame non komersial pada gambar di atas adalah

- A. (1)

B. (2)

C. (3)

D. (4)

23. Cermati gambar berikut!



Berdasarkan sifatnya, gambar tersebut termasuk....

A. reklame layanan sosial

B. reklame penerangan

C. reklame komersial

D. reklame ajakan

24. Perhatikan ilustrasi berikut!


Musim hujan sedang melanda sedang melanda kota Makassar, sehingga mengakibatkan banjir di berbagai daerah. Dina mendapat tugas untuk membuat reklame bertemakan bencana banjir.

Berikut reklame yang sesuai dengan ilustrasi adalah


A.



B.



C.



D.



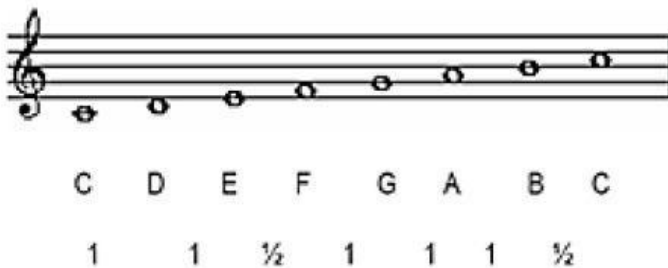
25. Perhatikan gambar berikut!



Kalimat iklan yang tepat untuk gambar di atas adalah

- A. Floridina minuman yang menyegarkan!
- B. Minuman pengganti ion tubuh hanya floridina!
- C. Floridina, minuman segar yang terbuat dari bulir jeruk asli!
- D. Yuuuk minum Floridina, rasakan kesegarannya setiap hari!

26. Perhatikan gambar berikut!



Interval nada C - G disebut kuint murni, memiliki jarak

- A. 3
- B. 4
- C. 3 ½
- D. 4 ½

27. Perhatikan potongan lagu berikut!

Ambilkan bulan, Bu
 Ambilkan bulan, Bu
 Yang s'lalu bersinar di langit

 Di langit, bulan benderang
 Cah'yanya sampai ke bintang

 Ambilkan bulan, Bu
 Untuk menerangi

.....

Lanjutan dari lirik lagu di atas adalah

- A. Tidurku yang lelap di malam gelap


- B. Cahyanya sampai ke bintang
- C. Di langit bulan benderang
- D. Yang selalu bersinar

28. Perhatikan gambar!



Jenis tangga nada pada gambar di atas adalah....

- A. tangga nada minor harmonis
 - B. tangga nada mayor diatonik
 - C. tangga nada mayor melodis
 - D. tangga nada minor asli
29. Perhatikan tangga nada lagu berikut!



<http://notangka-musik.blogspot.com>

Judul lagu yang tepat pada tangga nada di atas adalah

- A. Aku Ingin ke Desa
 - B. Selalu Kurindukan
 - C. Desaku yang Permai
 - D. Desaku yang Kucinta
30. Berikut ini adalah ciri-ciri tangga nada!

- 1. Terdiri dari 7 nada
- 2. Selalu bersemangat
- 3. Biasanya diawali dan diakhiri dengan nada la = A
- 4. Terdiri dari 8 nada

Ciri-ciri tangga nada minor terdapat pada nomor

- A. 1 dan 4
 - B. 1 dan 2
 - C. 2 dan 4
 - D. 3 dan 4
31. Perhatikan pernyataan berikut!

Pada beberapa tarian, terutama tari kelompok, para penari membentuk posisi tertentu dalam tarian. Salah satu unsur yang membentuk keindahan suatu tarian adalah pola lantai.

Pengertian pola lantai adalah

- A. garis yang dilalui penari pada saat melakukan gerak tari
- B. garis yang digambar penari pada saat menari
- C. garis yang membatasi penonton dan penari
- D. garis yang berpotongan

32. Perhatikan tabel berikut!

Nama Tarian	Asal Daerah
1. Tari Jaipong	P. Sumatera Barat
2. Tari Legong	Q. Aceh
3. Tari Indang	R. Bali
4. Tari Seudati	S. Jawa Barat

Pasangan yang tepat nama tarian dan asal daerahnya adalah

- A. 1 – P
- B. 2 – R
- C. 3 – Q
- D. 4 – S

33. Perhatikan tabel berikut!

No.	Pernyataan
1	Gerak
2	Penonton
3	Nama tarian
4	Busana
5	Iringan tari
6	Tata rias

Dari tabel tersebut, yang termasuk unsur tari adalah nomor

- A. 3, 4, dan 5
- B. 1, 2, dan 4
- C. 4, 5, dan 6
- D. 1, 3, dan 4

34. Perhatikan gambar berikut!



Tarian pada gambar tersebut merupakan jenis tarian

- A. tunggal
- B. gabungan

- C. berpasangan
D. berkelompok
35. Perhatikan gambar berikut!



- Tarian tersebut menggunakan pola lantai
A. vertikal
B. diagonal
C. melingkar
D. horizontal
36. Perhatikan pernyataan berikut!
- Berdasarkan jumlah penari, tarian dapat dikelompokkan menjadi tarian tunggal, tarian berpasangan, dan tarian berkelompok.
- Berikut ini yang termasuk tarian berpasangan adalah
A. Tari Jaipong
B. Tari Legong
C. Tari Zapin
D. Tari Merak
37. Perhatikan tabel berikut ini!

No.	Bahan
1	Air
2	Tanah liat
3	Lilin
4	Cat
5	Batu
6	Kayu jati

- Dari tabel tersebut, yang termasuk bahan pembuatan patung adalah
A. 1, 2, dan 5
B. 2, 3, dan 4
C. 3, 5, dan 6
D. 4, 5, dan 6
38. Perhatikan gambar!



Manfaat dari patung tersebut adalah

- A. mengenang sejarah
- B. menghias bangunan
- C. sarana ritual keagamaan
- D. sarana penyampaian nilai budaya

39. Cermatilah kalimat-kalimat berikut!

1. Sapukan cat pada patung secara merata.
2. Campurkan warna cat yang ingin digunakan dengan air secukupnya di dalam palet.
3. Aduk cat dan air hingga merata.
4. Biarkan cat kering. Patung sudah jadi.

Berdasarkan kalimat di atas, urutan mewarnai patung yang benar adalah

- A. 4-3-2-1
- B. 3-4-1-2
- C. 2-3-1-4
- D. 1-2-3-4

40. Perhatikan gambar!



Patung tersebut terbuat dari bahan

- A. bubur kertas
- B. plastisin
- C. keramik
- D. kayu

Selamat Bekerja