


Nombre: \_\_\_\_\_ Fecha: \_\_\_\_\_

1. Escribe las partes del cuerpo:



1. Selecciona la respuesta correcta para cada sentido:

El órgano del sentido del gusto es:

Ojos	Lengua	Piel
------	--------	------

El órgano del sentido del olfato es:

Nariz	Ojos	Lengua
-------	------	--------

El órgano del sentido de la vista es:

Oídos	Ojos	Nariz
-------	------	-------

El órgano del sentido del tacto es:

Piel	Nariz	Lengua
------	-------	--------

El órgano del sentido de la audición es:

Olfato	Lengua	Oído
--------	--------	------

2. Selecciona la carita según corresponda:

a. Hacer deporte hace bien a tu cuerpo



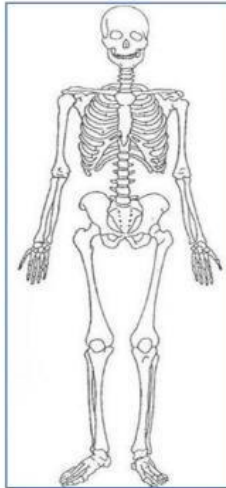
b. Comer solo hamburguesas hace bien a tu cuerpo



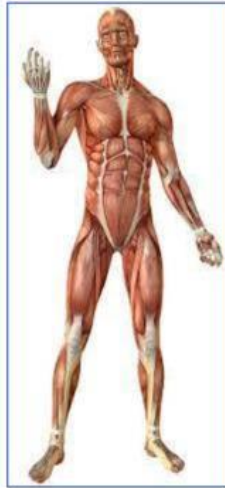
c. El aseo personal es bueno para el cuerpo



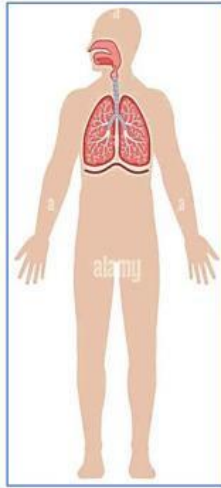
3. Identifica cada sistema del cuerpo humano: Escribe sus nombres:



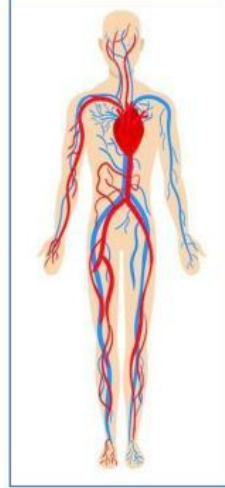
Sistema \_\_\_\_\_



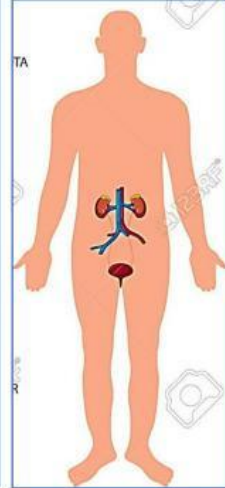
Sistema \_\_\_\_\_



Sistema \_\_\_\_\_



Sistema \_\_\_\_\_

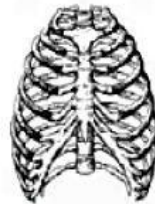


Sistema \_\_\_\_\_

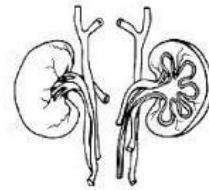
4. Escribe el nombre del sistema al que pertenece cada órgano



**corazón**  
sistema \_\_\_\_\_



**caja torácica**  
sistema \_\_\_\_\_



**Riñones**  
Sistema \_\_\_\_\_



**cráneo**  
sistema \_\_\_\_\_



**pulmones**  
sistema \_\_\_\_\_



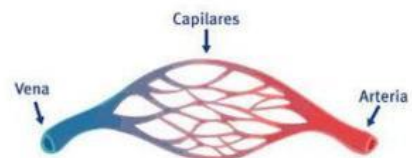
**bíceps**  
sistema \_\_\_\_\_



**nariz**  
sistema \_\_\_\_\_



**gemelos**  
sistema \_\_\_\_\_



**capilares, venas y arterias**  
sistema \_\_\_\_\_