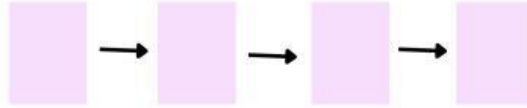


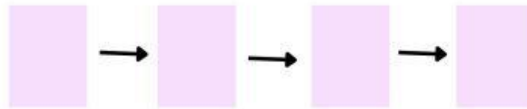
Porządkowanie ułamków

Uporządkuj zbiór ułamków. Przesuń je i umieść w kratkach od największego do najmniejszego.

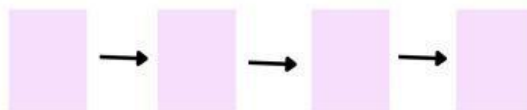
$$\frac{2}{5} \quad \frac{1}{5} \quad \frac{4}{5} \quad \frac{3}{5}$$




$$\frac{6}{8} \quad \frac{4}{8} \quad \frac{7}{8} \quad \frac{1}{8}$$



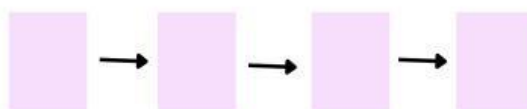
$$\frac{4}{6} \quad \frac{1}{6} \quad \frac{2}{6} \quad \frac{5}{6}$$



$$\frac{5}{9} \quad \frac{3}{9} \quad \frac{7}{9} \quad \frac{8}{9}$$

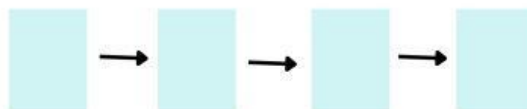


$$\frac{3}{10} \quad \frac{5}{10} \quad \frac{8}{10} \quad \frac{1}{10}$$

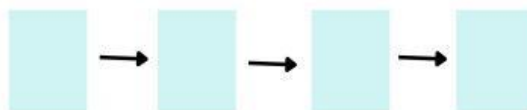


Sprowadź ułamki do wspólnego mianownika. Następnie uporządkuj je przesuwając i umieszczając w kratkach od najmniejszego do największego.

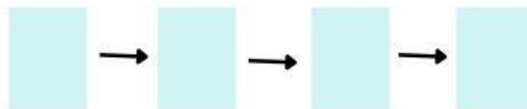
$$\frac{3}{8} \quad \frac{4}{5} \quad \frac{3}{4} \quad \frac{5}{6}$$



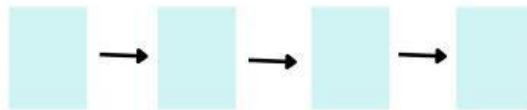
$$\frac{2}{5} \quad \frac{1}{2} \quad \frac{2}{3} \quad \frac{3}{4}$$



$$\frac{6}{7} \quad \frac{2}{3} \quad \frac{4}{5} \quad \frac{5}{6}$$



$$\frac{5}{6} \quad \frac{1}{2} \quad \frac{3}{4} \quad \frac{3}{5}$$



$$\frac{7}{8} \quad \frac{4}{5} \quad \frac{9}{10} \quad \frac{1}{2}$$

