



MATEMATIKA


“WAKTU”

FASE A KELAS 1 SEKOLAH DASAR



Nama:

Kelas:

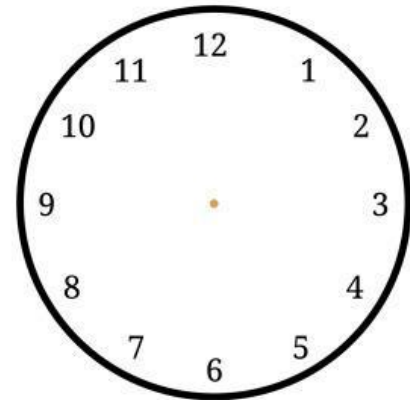


WAKTU AKTIVITASKU

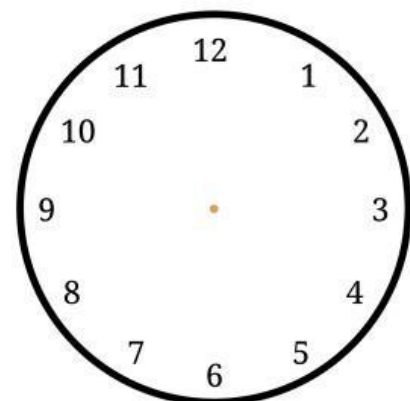


Waktu Aktivitasku

Tuliskan waktu di kotak dan berilah garis pada gambar jam yang telah disediakan sesuai dengan aktivitas yang kamu lakukan.



Aku tidur pada pukul



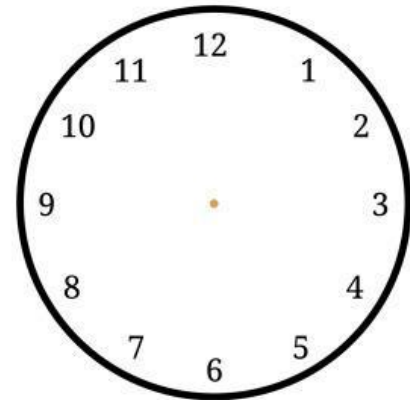
Aku bangun tidur
pada pukul

Waktu Aktivitasku

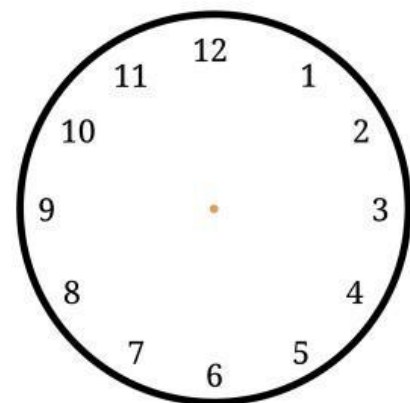
Tuliskan waktu di kotak dan berilah garis pada gambar jam yang telah disediakan sesuai dengan aktivitas yang kamu lakukan.



Aku sarapan pukul



Aku mandi pada
pukul

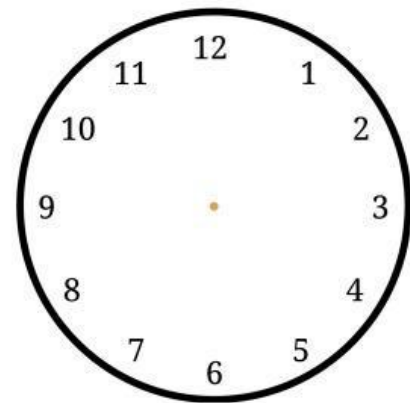


Waktu Aktivitasku

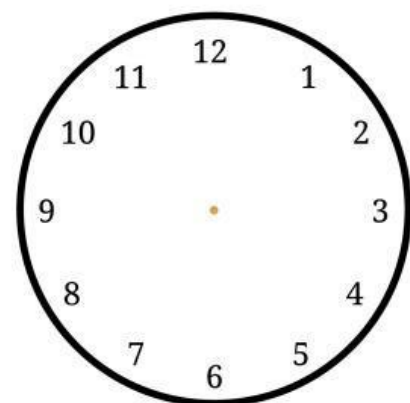
Tuliskan waktu di kotak dan berilah garis pada gambar jam yang telah disediakan sesuai dengan aktivitas yang kamu lakukan.



Aku belajar pada
pukul



Aku menonton tv
pada pukul



Nama: _____

Kelas: _____



WAKTU

Lingkarilah penulisan waktu yang tepat sesuai gambar



12:00

2:00

12:10



2:00

3:00

3:15



4:00

4:20

12:00



12:00

7:00

05:00



7:00

2:00

7:15

Nama:

Kelas:

WAKTU




Gambarkan waktu yang sesuai pada tiap jamnya


Contoh




03:00




07:30




04:00




11:00



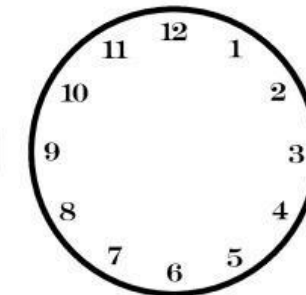
18:00




20:00




14:30




22:00




05:30



09:00



12:00



01:30

Nama:

Kelas:




Aku Jam

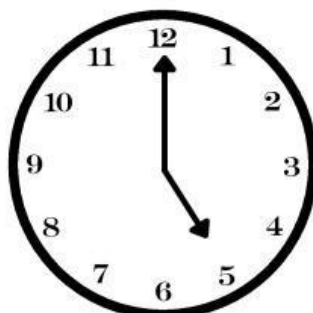

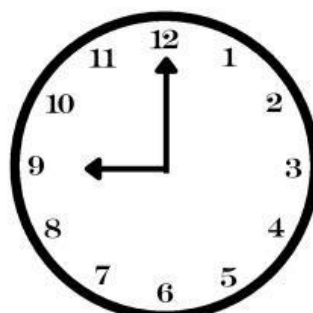

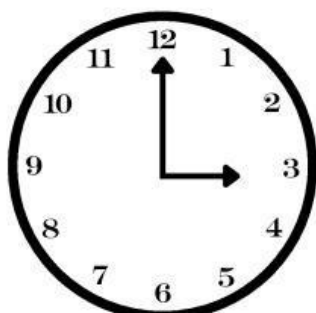
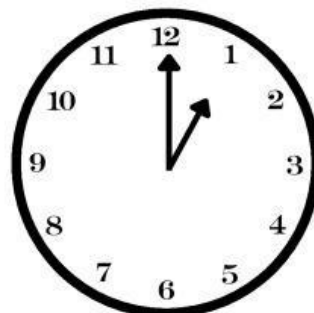


Tulislah jam yang sesuai dengan gambar.

Contoh



04:00



Nama :
.....
Kelas :
.....



waktu

Hubungkan pasangan yang tepat dengan sebuah garis.

1 tahun

48 jam

60 detik

3600 detik

14 hari

12 bulan

180 menit

3 jam

2 hari

1 menit

1 jam

2 minggu