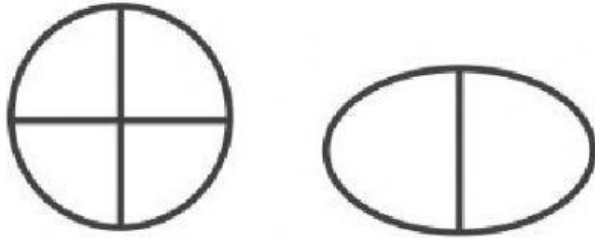


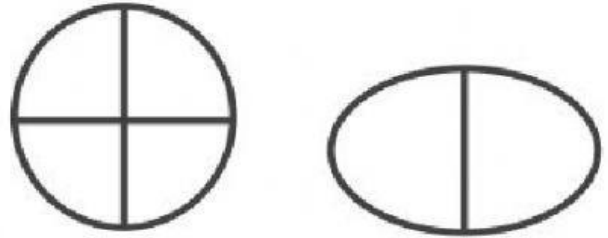
Nombre: \_\_\_\_\_

## Fracciones

Selecciona la figura que está dividida en **2 partes iguales**.



Selecciona la figura que está dividida en **4 partes iguales**.




¿Qué palabras describen esta figura?



Un medio

Un cuarto

¿Qué palabras describen esta figura?



Un medio

Un cuarto

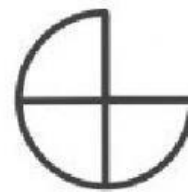
Si compartes una manzana con un amigo, ¿Cuántos pedazos deberías recibir?



Un medio

Un cuarto

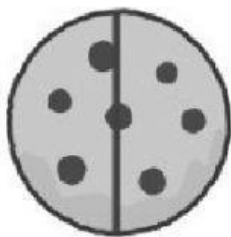
¿Cuántos pedazos de la torta me comí?



Un medio

Un cuarto

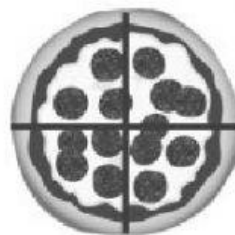
Me comí la galleta **entera**. ¿Cuántos pedazos me comí?



Un medio

2 medios

María se comió la pizza **entera**. ¿Cuántos pedazos de pizza se come María?



Un cuarto

2 cuartos

3 cuartos

4 cuartos

Mira el chocolate. ¿Se encuentra dividido en mitades o cuartos?



Mitades

Cuartos

Mira el chocolate. ¿Se encuentra dividido en mitades o cuartos?



Mitades

Cuartos