

Unidades de medida de longitud

Cartusel

La unidad principal para medir la longitud es el metro. Para medir longitudes mayores están los múltiplos (decámetro, hectómetro, kilómetro) y para medir longitudes menores están los submúltiplos (decímetro, centímetro, milímetro).

La longitud determina la distancia que hay entre dos puntos, es decir longitud es la cantidad de espacio que hay entre dos puntos. Por ejemplo, la distancia que hay entre mi casa y la escuela, o la distancia de un extremo de la mesa al otro.

Observa la siguiente regla:



Cada espacio de la regla se llama centímetro.

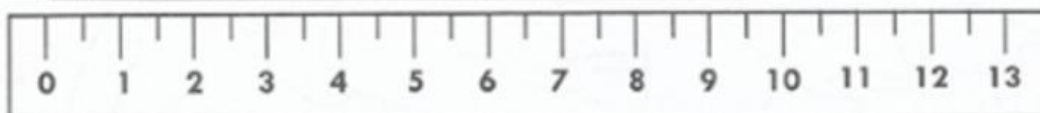

La regla anterior tiene 15 centímetros.

Actividades

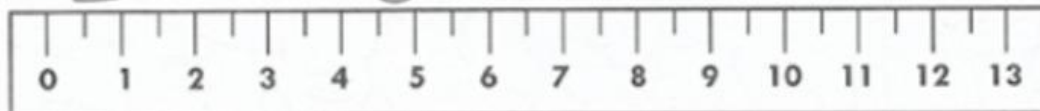
- Mido la distancia que hay entre la casa del mono hasta la escuela, con la regla:



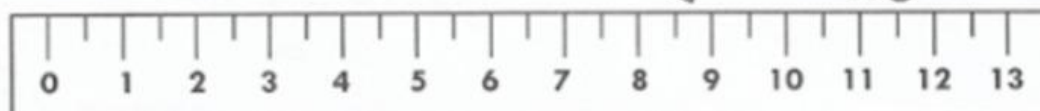
- Mido cada uno de los siguientes objetos que necesitan para la fiesta del elefante.



() Centímetros



() Centímetros



() Centímetros

¿Cuánta cinta se necesita para la decoración de la fiesta?


Un gran problema se les presentó.

Los elefantes hermanos compraron la cinta de decoración y viene separada en metros. Pero ellos midieron en centímetros. Y quieren saber cuántos metros necesitan de cinta para recortar, según las medidas que hicieron.

La jirafa muy sabia les enseña, que en 1 metro hay 100 centímetros.

Los elefantes muy contentos se pusieron a trabajar.

Estas fueron las medidas que hicieron.



- Completo la cantidad en metros de cinta, que necesitan los elefantes.

| Medidas en centímetros | Medidas en metros |
|---|-------------------|
| La pared del salón mide 100 centímetros. | _____ |
| La pared del escenario mide 200 centímetros | _____ |
| El techo del ranchito mide 300 centímetros. | _____ |

- Completemos la información para que los elefantes puedan trabajar más rápido.

¿Cuántos centímetros hay en 5 metros de cinta? _____

¿Cuántos centímetros hay en 4 metros de cinta? _____

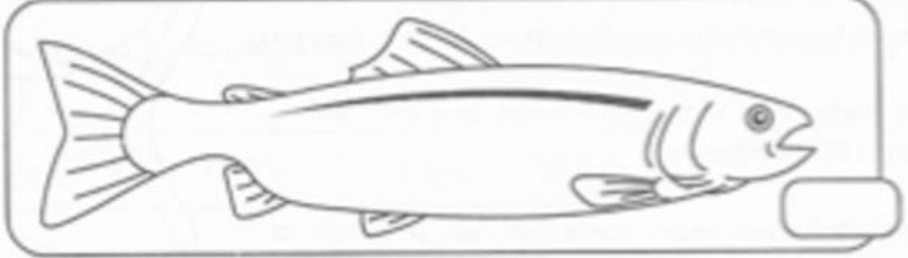
¿Cuántos centímetros hay en 3 metros de cinta? _____

¿Cuántos centímetros hay en 7 metros de cinta? _____

¿Cuántos centímetros hay en 8 metros de cinta? _____

¿Cuántos centímetros hay en 9 metros de cinta? _____

- Mido con una regla la longitud de cada uno de los siguientes peces, del lago de la selva.



- Dibujo cada cinta que se necesita para la decoración, del tamaño que se le indica.

10 cm



8 cm



6 cm



3 cm

