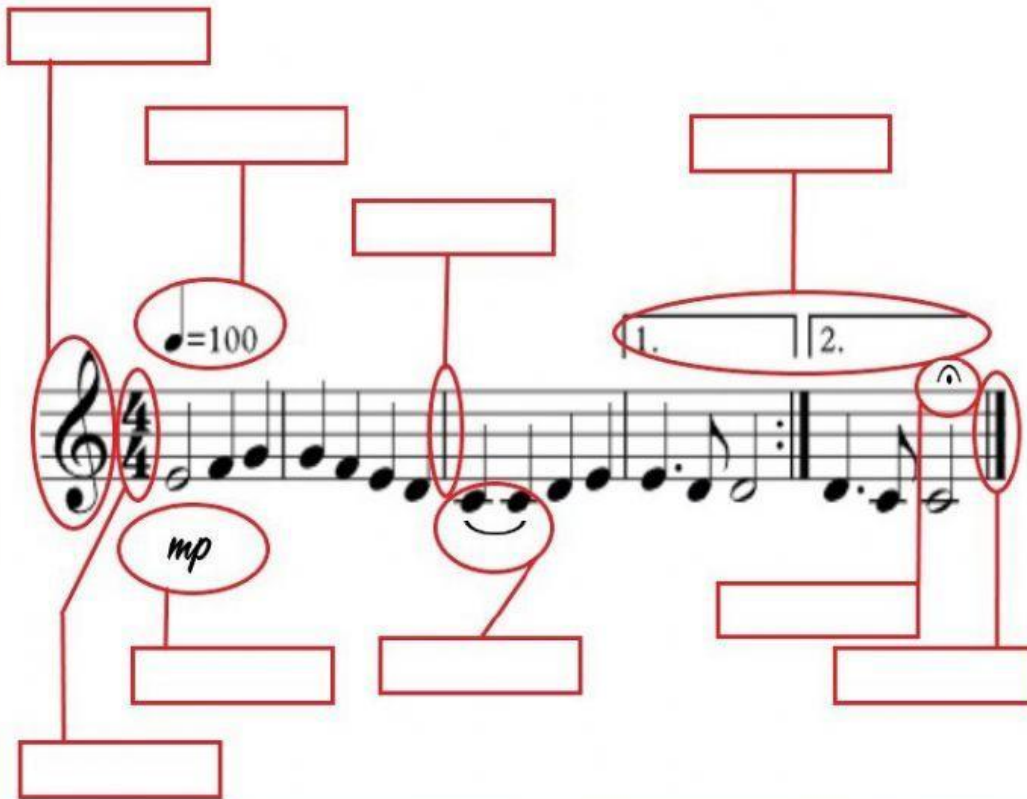



MÚSICA

Completa los recuadros con los nombres correctos.




Escribe el nombre de las notas y responde las preguntas.



Escribe el nombre debajo de cada una de las notas.

RESPONDE:

- ¿Cuántos pentagramas hay?
- ¿Cuántos compases hay?
- ¿Cuántas notas están en espacios?
- ¿Cuántos FA hay?



Arrastra el nombre, las figuras y los silencios al lugar que les corresponde.

CORCHEA



NEGRA

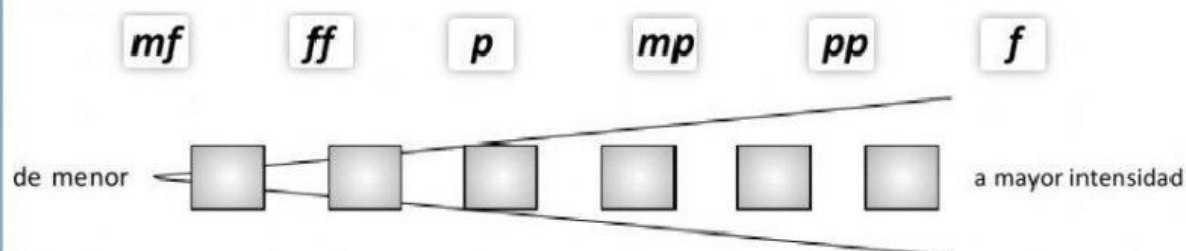


REDONDA



FIGURA	NOMBRE	SILENCIO
	BLANCA	

Ordena las siguientes expresiones musicales de menor intensidad (a la izquierda) a mayor intensidad (a la derecha):



Escribe el significado en español de estas expresiones de intensidad:

Piano Mezzoforte Fortissimo

Mezzopiano Forte Pianissimo

Calcula estas sumas

Two rows of musical math problems. Each problem shows a musical staff with a note or rest, a plus sign, and another note or rest. Below the staff is a box for the answer.

Row 1 problems (from left to right):

- Quarter note + Quarter rest
- Quarter note + Quarter rest
- Quarter note + Quarter rest
- Quarter note + Quarter rest
- Quarter note + Quarter rest
- Quarter note + Quarter rest
- Quarter note + Quarter rest
- Quarter note + Quarter rest

Row 2 problems (from left to right):

- Dotted quarter note + Quarter note
- Dotted quarter note + Quarter note
- Dotted quarter note + Quarter note
- Dotted quarter note + Quarter note
- Quarter note + Quarter note
- Quarter note + Quarter note
- Quarter note + Quarter note
- Quarter note + Quarter note

Une cada nombre con su velocidad.

• Vivace	66-76 Bpm
• Allegro	40-60 Bpm
• Andante	121-140 Bpm
• Lento	76-108 Bpm
• Presto	168-200 Bpm