

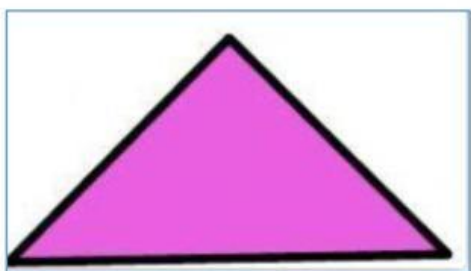
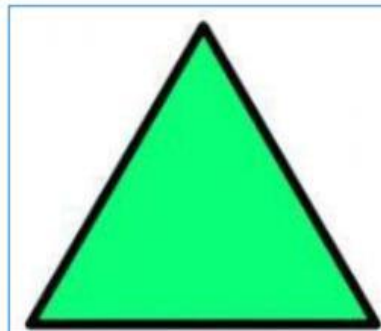
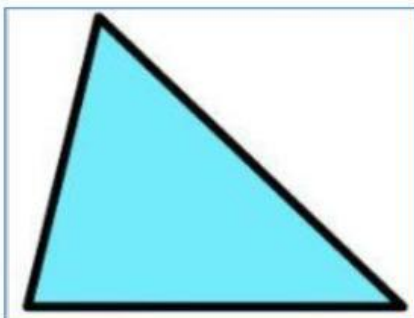



Nome: \_\_\_\_\_

## AVALIAÇÃO TRIÂNGULOS E ÂNGULOS

ARRASTE CADA TRIÂNGULO AO LUGAR CORRESPONDENTE:



<b>EQUILÁTERO</b> TEM OS TRÊS LADOS IGUAIS	<b>ISÓSCELES</b> TEM DOIS LADOS IGUAIS E UM DIFERENTE	<b>ESCALENO</b> TEM OS TRÊS LADOS DIFERENTES

RELACIONE ATRAVÉS DE LINHAS A INFORMAÇÃO CORRESPONDENTE À CLASSIFICAÇÃO DOS TRIÂNGULOS PELAS MEDIDAS DE SEUS ÂNGULOS:

TRIÂNGULO ACUTÂNGULO

TEM UM ÂNGULO RETO


TRIÂNGULO OBTUSÂNGULO

TEM UM ÂNGULO OBTUSO

TRIÂNGULO RETÂNGULO

TEM UM ÂNGULO AGUDO

ESCREVA O NOME CORRETO DE CADA TRIÂNGULO: EQUILÁTERO, ISOSCELES E ESCALENO






ESCOLHA A OPÇÃO CORRETA:

