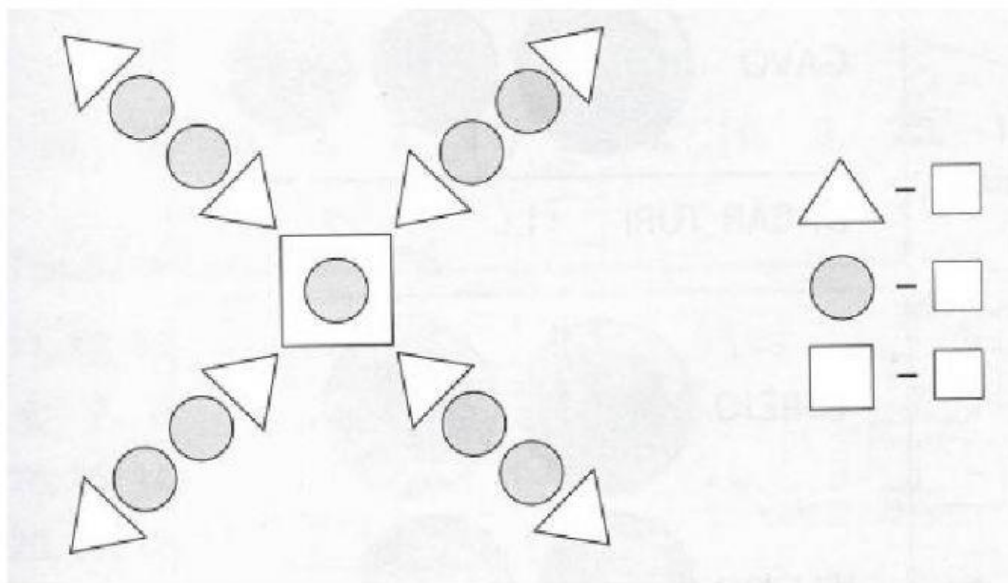


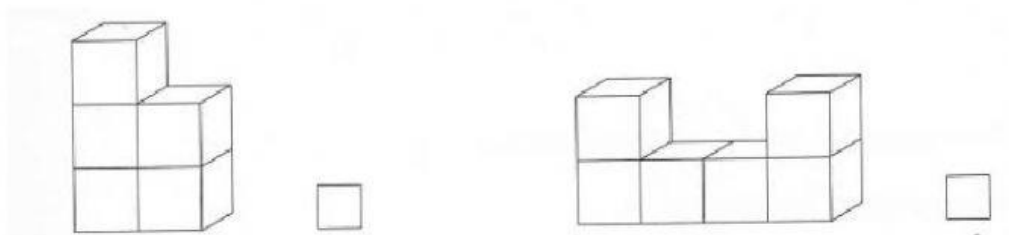
1. Впиши недостающие числа.

$$\begin{array}{ccccccc}
 -\frac{\square}{4} & -\frac{7}{\square} & -\frac{8}{\square} & -\frac{\square}{3} & -\frac{\square}{5} & -\frac{7}{\square} & -\frac{\square}{6} \\
 \frac{\quad}{3} & \frac{\quad}{2} & \frac{\quad}{4} & \frac{\quad}{4} & \frac{\quad}{2} & \frac{\quad}{1} & \frac{\quad}{3} \\
 \\
 -\frac{\square}{4} & -\frac{10}{\square} & -\frac{9}{\square} & & & &
 \end{array}$$

2. Сосчитай треугольники, круги и квадраты.



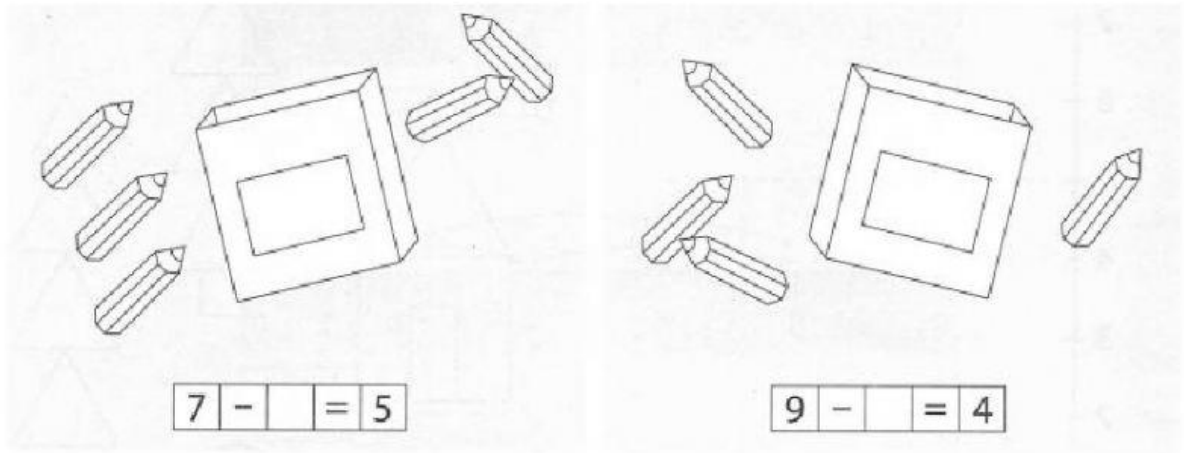
3. Сосчитай кубики в каждой фигуре.



4. Сравни. Поставь знаки <, >, =

7	8	2	0	10	10
4	4	6	9	9	10

5. Сколько карандашей в коробке?



6. Реши примеры.

$10 - 4 - 3 = \square \square$

$6 + 2 + 1 = \square \square$

$9 - 3 - 3 = \square \square$

$10 - 5 - 3 = \square \square$

$4 + 4 + 1 = \square \square$

$8 - 3 - 2 = \square \square$

7. Сосчитай и реши.

Было  .

Истратили 6 евро.

Осталось евро.