

# BELAJAR DAN BERBAGI BERSAMA MGMP MATEMATIKA



## LKPD ONLINE



Nama

Asal sekolah

Designed by: Andi Rachma Aris



## Soal Isian singkat

# CEMILAN DAN GRAFIK BATANG

Survei untuk lima Cemilan yang paling populer di antara siswa Kelas 7 dan datanya disajikan dalam grafik batang. Isilah dengan jawaban yang

1. Cemilan yang paling populer adalah
2. Cemilan yang paling tidak populer adalah
3. Cemilan dengan poin 100 adalah
4. Di antara kue dan pizza, camilan mana yang lebih populer



## Soal Kotak pilihan berupa daftar

Perhatikan gambar!

Jika tersedia bahan 2 kg kopi, 3 liter susu dan 12 liter air, maka maksimal banyak kopi nikmat yang dapat dibuat adalah  gelas

*Rahasia membuat secangkir kopi nikmat.*

Tuang 50 gram kopi dan 50 ml susu kental manis ke dalam cangkir. Larutkan dengan 150 ml air panas dengan suhu 87°C. Aduk hingga merata dan sajikan kopi



## Soal pilihan ganda

Sebuah foto berukuran 3 cm x 4 cm. Apabila foto diperbesar dan sisi terpanjang menjadi 12 cm, maka sisi terpendek menjadi ....

- A. 4 cm
- B. 6 cm
- C. 9 cm
- D. 10 cm





Soal Menempelkan / seret - Lepas

# TEBAK GAMBAR

Pasangkan nama di masing-masing gambar

Jamaluddin

Najamuddin

Ismail

Amir Desar



## Soal menjodohkan

# Segiempat dibawah laut

Silahkan tarik garis dari atas (jenis segi empat) ke bawah laut (gambar segi empat) sehingga menjadi jawaban yang benar

Persegi

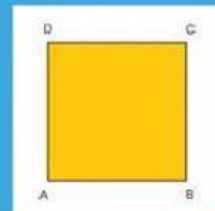
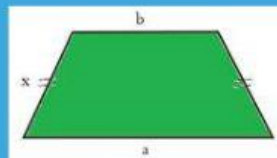
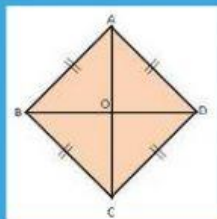
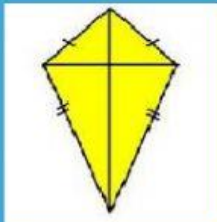

Trapezium

Jajar  
genjang

Persegi  
panjang

Belah  
ketupat

Layang-  
layang



## Soal kotak centang

Tentukan kondisi berikut yang manakah menunjukkan kondisi rugi? (kalian boleh memilih lebih dari 1 jawaban yang dianggap benar)

- ☐ Pemasukan Rp600.000,00 dan pengeluaran Rp620.000,00
- ☐ Pemasukan Rp520.000,00 dan pengeluaran Rp520.000,00
- ☐ Pemasukan Rp650.000,00 dan pengeluaran Rp630.000,00
- ☐ Pemasukan Rp700.000,00 dan pengeluaran Rp710.000,00
- ☐ Pemasukan Rp640.000,00 dan pengeluaran Rp630.000,00



# All About Diskon



Arti diskon 50%+20% adalah memberikan diskon 50% terhadap harga suatu barang kemudian menambahkan diskon 20% terhadap harga sesudah diskon pertama.

Jawaban

Pertanyaan

Ani berkunjung di toko B dan melihat baju dengan label harga Rp150.000,00. Uang yang harus dikeluarkan Ani untuk membeli baju tersebut adalah ....