

Lembar Kerja Peserta Didik

PEMUSATAN DATA (MODUS)

Nama :

Kelas :

No. :



INFORMASI E-LKPD



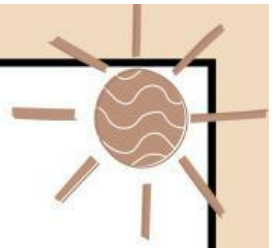
PETUNJUK PENGGUNAAN E-LKPD

1. Berdoa terlebih dahulu sebelum mengerjakan E-LKPD.
2. Isilah identitas diri pada halaman pertama E-LKPD.
3. Pahami materi Pemusatan Data (Modus) yang dijelaskan oleh guru untuk memudahkan dalam mengerjakan E-LKPD.
4. Baca dan isilah pertanyaan-pertanyaan yang ada pada E-LKPD.
5. Cek kembali jawaban Anda dengan benar.

TUJUAN PEMBELAJARAN

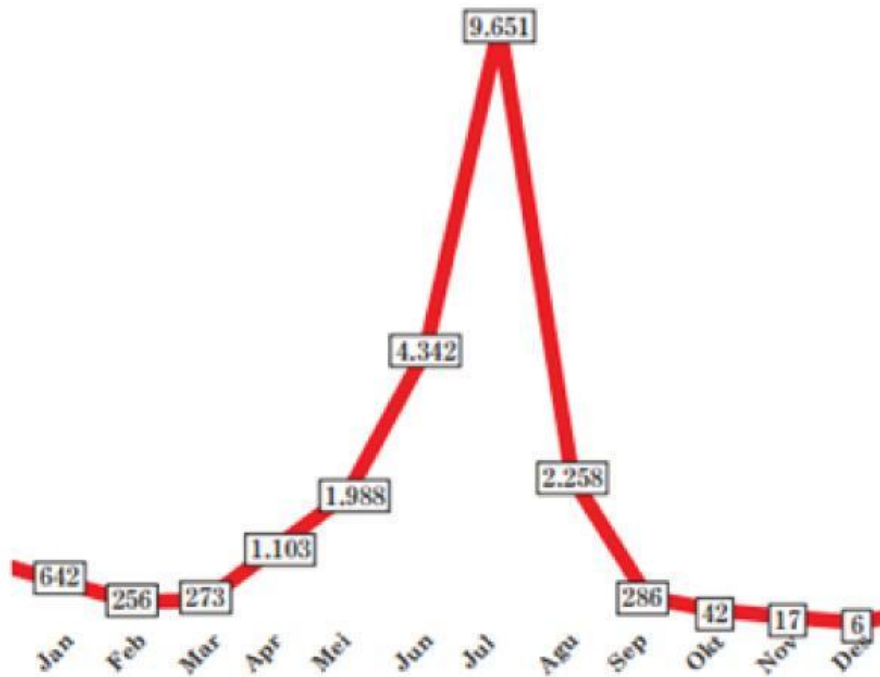
- Peserta didik dapat menjelaskan pengertian dari modus melalui tanya jawab secara tepat.
- Peserta didik dapat menentukan ukuran pemusatan data (modus) melalui penugasan dan tanya jawab secara tepat.
- Peserta didik dapat menyelesaikan masalah sehari-hari yang berkaitan dengan ukuran pemusatan data (modus) melalui penugasan dan tanya jawab secara tepat.





FASE 1 STIMULATION

Coba perhatikan data kasus positif Covid-19 di salah satu provinsi di Indonesia pada gambar di bawah ini!



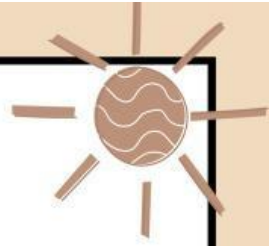
Gambar 6.3 Kumulatif Kasus Covid19 tahun 2021



FASE 2 PROBLEM STATEMENT

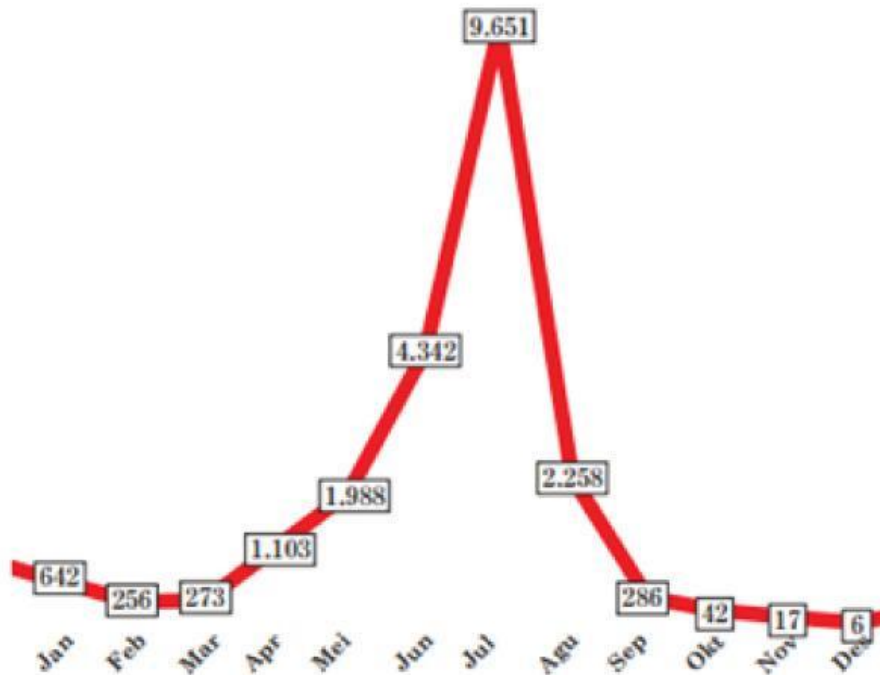
- 1 Tuliskan semua data yang ada pada diagram garis di atas!
- 2 Kasus Covid-19 paling sedikit terjadi pada bulan apa?
- 3 Kasus Covid-19 paling banyak terjadi pada bulan apa?





FASE 3 DATA COLLECTING

Coba perhatikan data kasus positif Covid-19 di salah satu provinsi di Indonesia pada gambar di bawah ini!

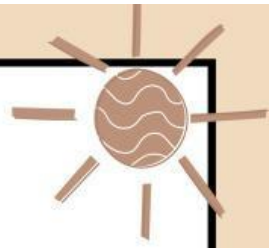


Gambar 6.3 Kumulatif Kasus Covid19 tahun 2021

1 Tuliskan semua data yang ada pada diagram garis di atas!

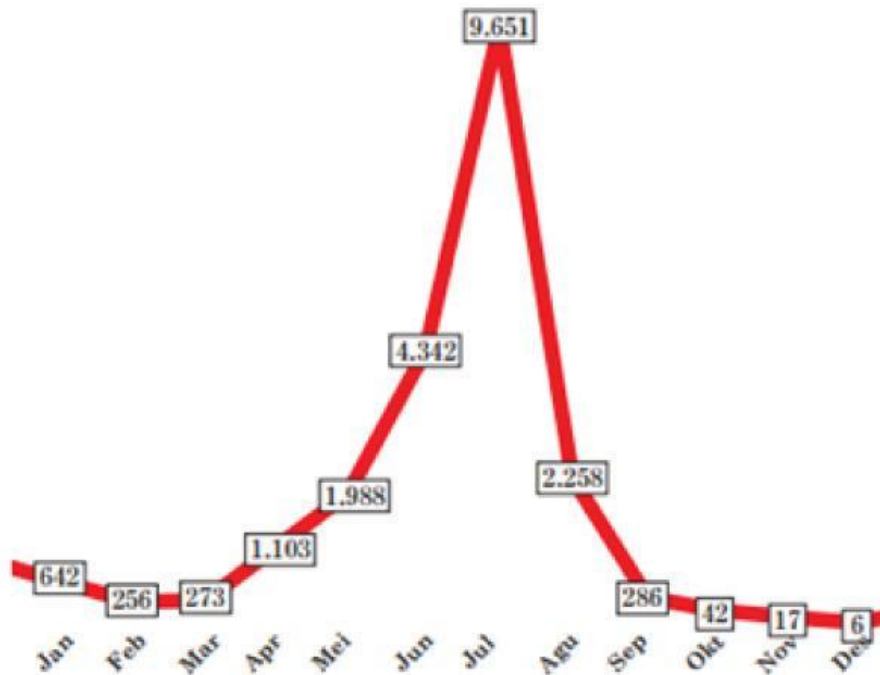
Jawaban :





FASE 4 DATA PROCESSING

Coba perhatikan data kasus positif Covid-19 di salah satu provinsi di Indonesia pada gambar di bawah ini!

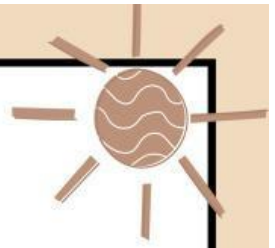


Gambar 6.3 Kumulatif Kasus Covid19 tahun 2021

2 Kasus Covid-19 paling sedikit terjadi pada bulan apa?

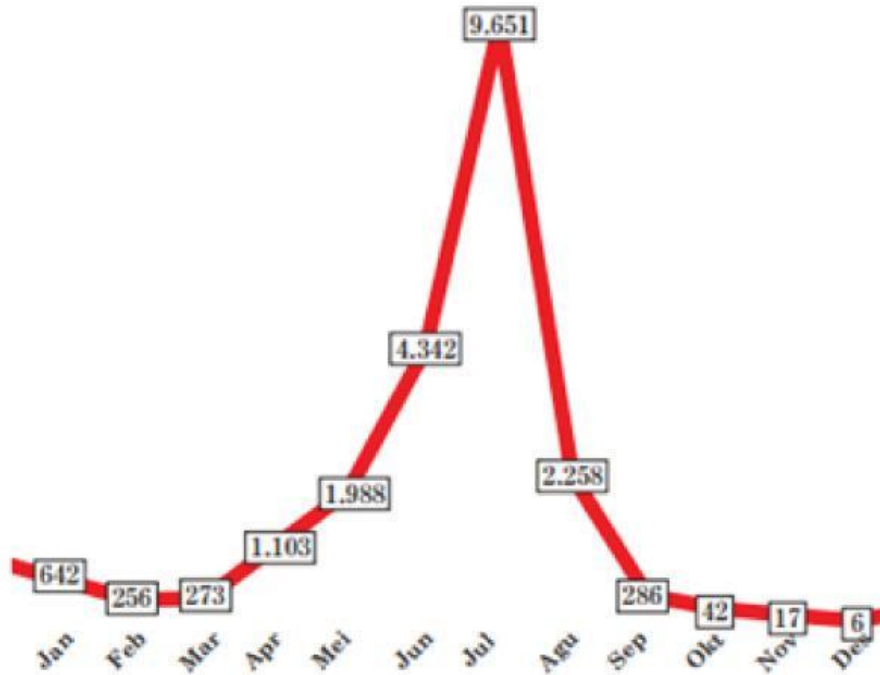
3 Kasus Covid-19 paling banyak terjadi pada bulan apa?





FASE 5 VERIFICATION

Coba perhatikan data kasus positif Covid-19 di salah satu provinsi di Indonesia pada gambar di bawah ini!

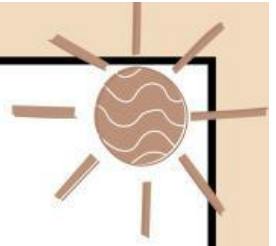


Gambar 6.3 Kumulatif Kasus Covid19 tahun 2021

Data yang sering muncul (modus) pada diagram garis di atas terjadi pada bulan apa?

Apa yang akan terjadi jika bulan Juli tidak dimasukkan ke dalam perhitungan modus?





FASE 6 GENERALIZATION

Apa yang bisa kamu simpulkan setelah menyelesaikan persoalan di atas yang berkaitan dengan permasalahan pemusatan data (modus)?

Kesimpulan :

Good Job!

