

LOS PUNTOS CARDINALES

NOMBRE: -----

FECHA:-----

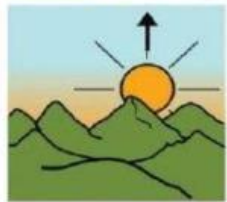
A. LEÉ CADA DEFINICIÓN.

B. MIRÁ LAS IMÁGENES Y ÚNELAS CON LA DEFINICIÓN QUE CORRESPONDA.




EL **ESTE** ES EL PUNTO CARDINAL DONDE
CADA MAÑANA SALE EL SOL.

EL **OESTE** ES EL PUNTO CARDINAL OPUESTO AL
ESTE POR DONDE EL SOL SE OCULTA.



EL **NORTE** ES EL PUNTO CARDINAL QUE
SEÑALA EL **POLO NORTE** DE LA TIERRA.



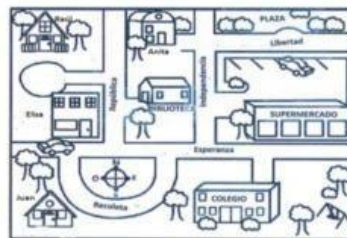
EL **SUR** ES EL PUNTO CARDINAL OPUESTO
AL NORTE INDICA EN QUE DIRECCIÓN
ESTÁ EL **POLO SUR** DE LA TIERRA.

C. SELECCIONÁ EL NOMBRE CORRECTA DE ESTE INSTRUMENTO DE ORIENTACIÓN

D. SELECCIONÁ EL NOMBRE DE CADA PUNTO CARDINAL DONDE CORRESPONDE:



E. ARRASTRÁ Y COLOCÁ EL NOMBRE EN CADA REPRESENTACIÓN



PLANO

GLOBO TERRÁQUEO

MAPA



¡SIGUE ASÍ!