


Lembar Kerja Peserta Didik

BANGUN DATAR



Nama :

Kelas :

PETUNJUK MENERJAKAN SOAL

- 1. Berdoalah sebelum dan sesudah mengerjakan soal**
- 2. Tulis nama dan kelas pada tempat yang disediakan**
- 3. Bacalah setiap soal dengan teliti**
- 4. Jawablah soal tersebut secara individu**
- 5. Ikuti petunjuk yang tertera pada soal**
- 6. Tanyakan kepada guru jika ada yang belum jelas**

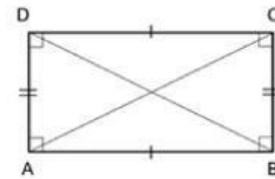
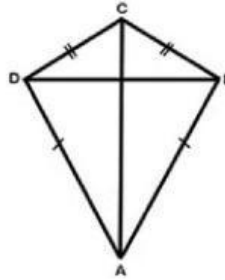
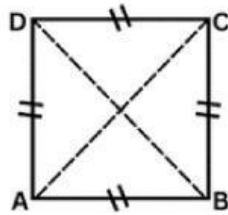
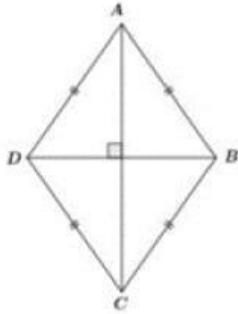


SOAL PILIHAN GANDA



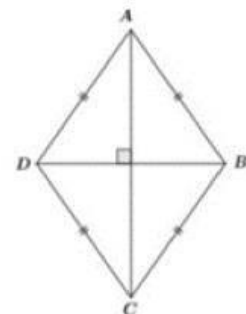
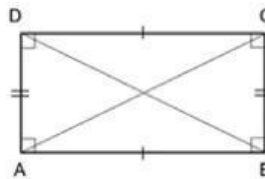
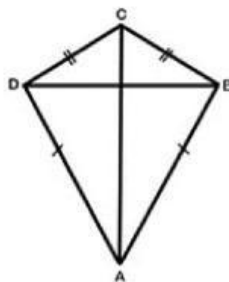
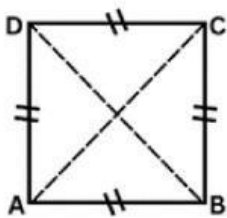
1

Di bawah ini yang merupakan gambar dari persegi adalah ...



2

Di bawah ini yang merupakan gambar dari persegi panjang adalah ...



SOAL ISIAN SINGKAT

- 1** Bangun datar segiempat yang memiliki 2 sumbu simetri dengan rumus kelilingnya $2p + 2l$ adalah



- 2** Bangun datar segiempat yang memiliki 4 sumbu simetri dengan rumus kelilingnya $4s$ adalah

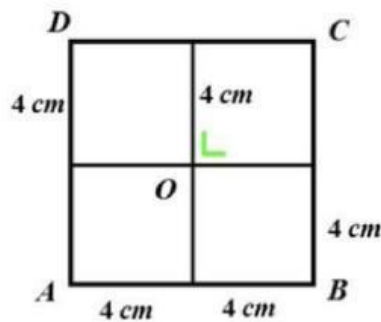


- 3** Sebutkan persamaan persegi dan persegi panjang



SOAL ESSAY

- 1** Berikut salah satu bentuk gambar yang ditemukan oleh Adel. Sebuah persegi dibagi menjadi empat bagian dengan keliling bagiannya adalah 16 cm. Maka tentukanlah luas dari persegi tersebut!



- 2** Ayah Luthfi memiliki sebidang tanah berbentuk persegi panjang di samping rumah. Panjang tanah 50 m dan lebarnya 30 m. Tentukan luas tanah Ayah Luthfi dalam satuan cm^2 !

