



EJERCICIO LA RESTA

Observa el video y contesta.

LA RESTA
 $6-3=3$

$10-5=5$

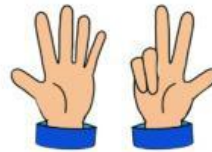
$\begin{array}{r} 10 \\ -3 \\ \hline 7 \end{array}$

MENOS

PROFESORA NORMA URBINA

1. Une con líneas las restas y sus resultados.

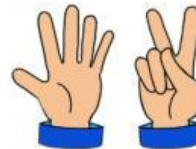
$$10-5=$$



$$10-2=$$



$$6-3=$$



$$8-1=$$



2. Resuelve las siguientes restas.

$$\begin{array}{r} 10 \\ - 5 \\ \hline \end{array}$$

$$\begin{array}{r} 6 \\ - 4 \\ \hline \end{array}$$

$$\begin{array}{r} 9 \\ - 3 \\ \hline \end{array}$$

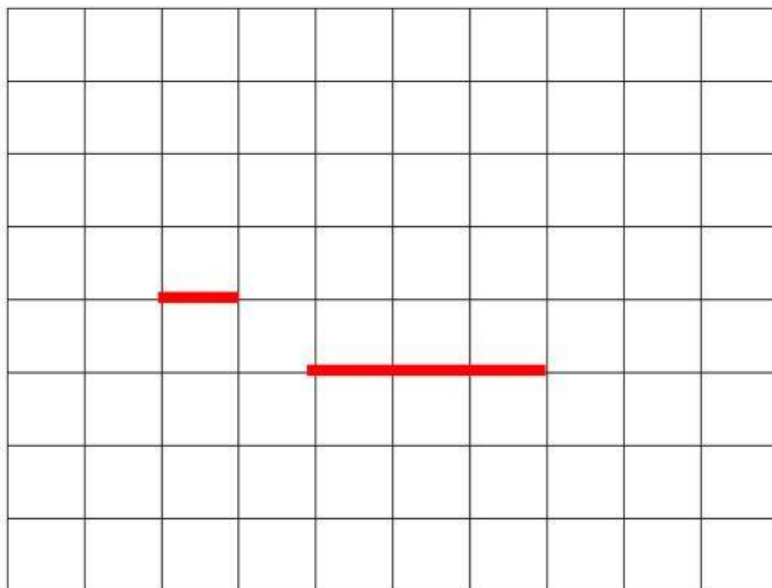
3. Elige los globos que se tienen que quitar según la resta.

$$10 - 6 = 4$$



4. Escribe la resta de acuerdo al problema

Ayer compramos unos dulces que costaron 8 pesos. Mi mamá pagó con una moneda de 10 pesos. ¿Cuánto cambio le dieron?



Tenía 8 canicas y perdí 6. ¿Cuántas canicas me quedaron?

