

**Практична робота 12**

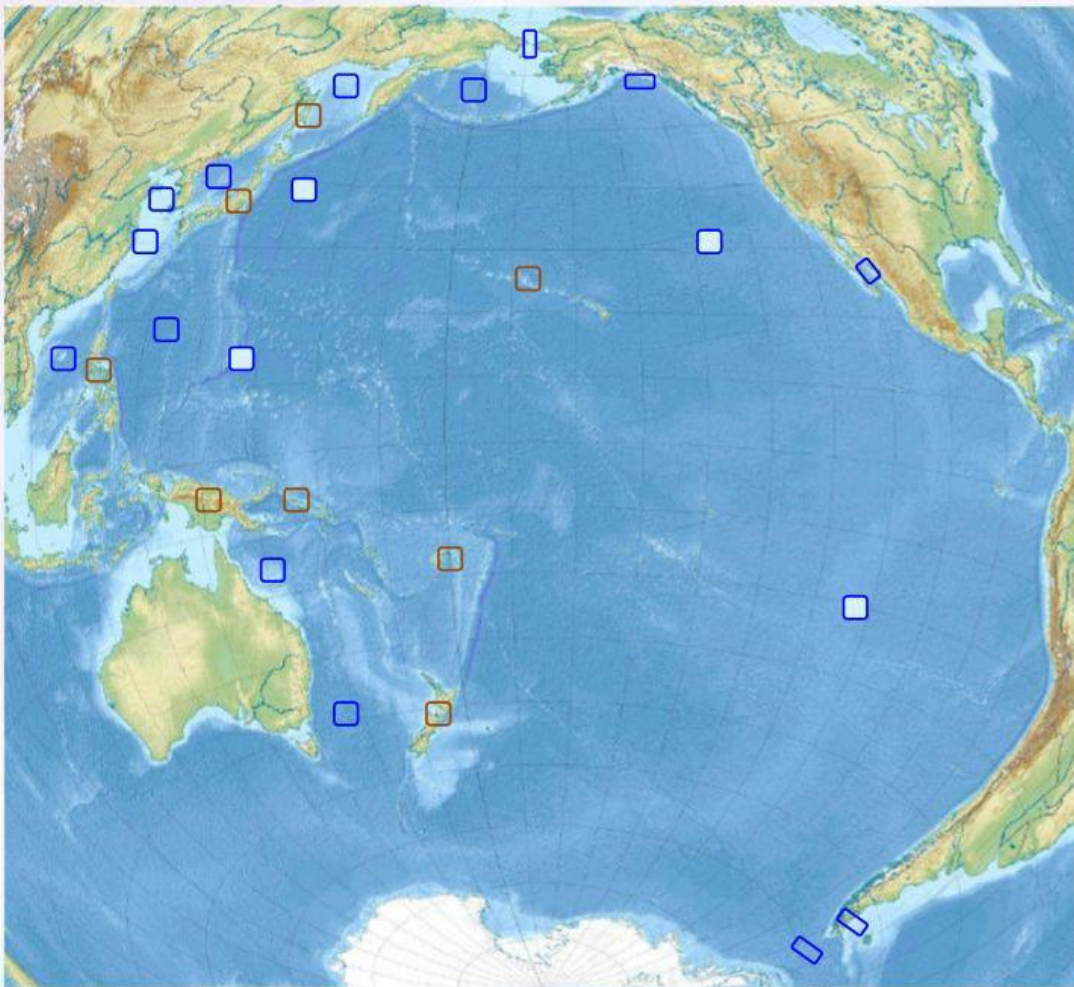
Карта 1

Карта 2

**Позначення географічних об'єктів та течій Тихого океану на контурній карті**

**Завдання 1. Позначити на карті відповідними цифрами географічні об'єкти Тихого океану**

Острови <input type="checkbox"/>	1	Сахалін	2	Філіппінські	3	Нова Зеландія	4	Соломонові
	5	Японські	6	Нова Гвінея	7	Гавайські	8	Фіджі



<input type="checkbox"/>	Моря,
9	Філіппінське
10	Південнокитайське
11	Берингове
12	Охотське
13	Тасманове
14	Жовте
15	Східнокитайське
16	Коралове
26	Японське
<input type="checkbox"/>	Затоки, протоки
18	Каліфорнійська
19	Аляска
23	Берингова
24	Магелланова
25	Дрейка

Рельєф дна <input type="checkbox"/>			
20	21	22	17
Східнотихоокеанське підняття	Північно-західна улоговина	Північно-східна улоговина	Маріанський жолоб

**Завдання 2: а) Перемістіть на карту цифри, відповідні назвам течій Тихого океану**

1 – Аляскінська

2 – Східноавстралійська

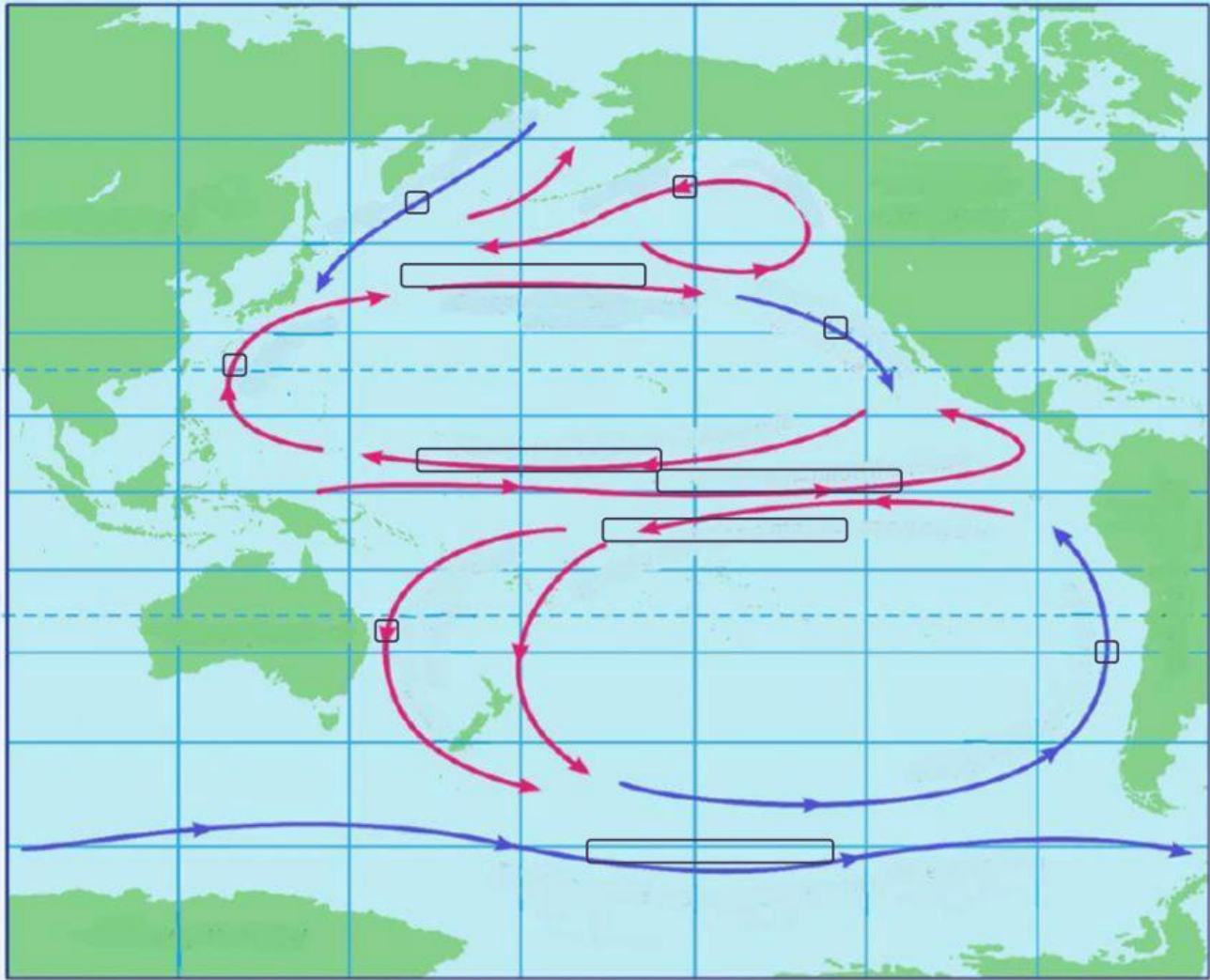
3 – Каліфорнійська

4 – Перуанська

5 – Куросіо

6 – Курильська





б) Перемістіть на карту назви течій та протитечії Тихого океану

Північна Пасатна    Західних вітрів    Північнотихоокеанська    Південна Пасатна    Міжпасатна

3. Виконайте завдання:

1). Водами Тихого океану омиваються півострови:

Аляска                      Індостан                      Аравійський                      Корея  
 Каліфорнія                      Камчатка                      Сомалі                      Юкатан

2). Протока, що сполучає Тихий океан з Північним Льодовитим

Магелланова                      Гібралтарська                      Дрейка                      Берингова

3). В якому кліматичному поясі не лежить Тихий океан?

екваторіальному                      арктичному                      помірному                      тропічному

4). Як називають сукупність островів у центральній і південно-західній частині Тихого океану? (написати з великої літери)

5). Яке походження мають острови Нова Гвінея і Нова Зеландія?

коралове                      материкове                      вулканічне

6). Які острови мають назву атол?

коралові                      материкові                      вулканічні

7) Из переліку виберіть теплі течії Тихого океану:

Куросіо

Каліфорнійська

Аляскинська

Перуанська

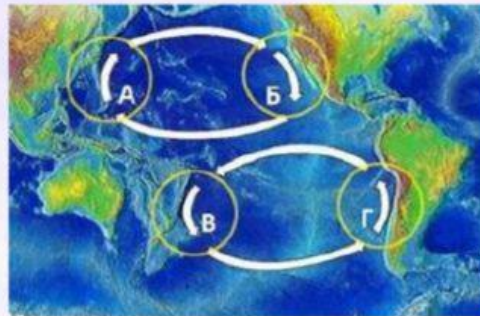
Південна Пасатна

Західних вітрів

8) Установіть відповідність між течіями Тихого океану та їх назвами

Каліфорнійська

Перуанська



Куросіо

Східноавстралійська

9) Якою океанічною течією можна здійснити навколосвітню подорож?


Перуанська

Південна Пасатна

Західних вітрів

Гольфстрім

Північнотихоокеанська



10) В яких широтах найвища солоність води

екваторіальних

тропічних

помірних

арктичних

11) Оберіть острови розташовані в Тихому океані

Гавайські

Куба

Тонга

Ісландія

Пасхи

12) Великий бар'єрний риф розташований біля берегів:

Євразії

Північної Америки

Австралії

Південної Америки

**Натисніть**

FINISH!

Введіть Ваше повне ім'я  
(Прізвище та ім'я)

Enter your full name: \*

Клас, (Наприклад 6-А)

Group/level \*

Географія

School subject: \*

Надіслати

SEND

Close