


Mata Pelajaran : **SOSIOLAGI**
Kelas : **XII (dua belas)**
Nama Murid : _____
Nama PKBM : _____



A. Berilah tanda silang (X) pada salah satu jawaban A, B, C, D dan E pada jawaban yang paling tepat!

- Kemiskinan menjadi masalah utama di Indonesia yang belum terselesaikan, oleh karena itu para ahli sosiologi dipercaya untuk mencari tahu penyebab kemiskinan tersebut, sehingga nantinya akan dibentuk kebijakan untuk mengatasi kemiskinan. Hal ini membuktikan sosiologi diperlukan untuk
A. pembangunan karakter masyarakat
B. pelaksanaan kebijakan nasional
C. peningkatan kapasitas bangsa
D. pengembangan sosial
E. penelitian masyarakat
- Salah satu masalah sosial yang terjadi di masyarakat adalah kemiskinan, yang berakibat pada peningkatan pengangguran dan kriminalitas. Untuk mengatasi permasalahan tersebut perlu dikaji berbagai faktor penyebab terjadinya kemiskinan. Fungsi sosiologi adalah memberikan sumbangan dalam bentuk ...
A. Perencanaan
B. jasa konsultan
C. ketersediaan data
D. Kegiatan Distribusi
E. tenaga kerja produktif
-  Nilai sosial utama dalam gambar yang terbangun dalam situasi tersebut adalah nilai
A. kebenaran
B. kebaikan
C. keagamaan
D. kebendaan
E. kesopanan
- Perhatikan beberapa pernyataan berikut!
(1) Pejabat tinggi negara melakukan korupsi karena menerima gratifikasi
(2) Banyak pengendara sepeda motor mengendarai di atas batas kecepatan
(3) Pelajar melakukan tawuran antarsekolah dengan merusak fasilitas sekolah
(4) Sebagian kecil masyarakat membuang sampah tidak pada tempatnya
(5) Banyak pelajar tidak rapi dalam mengenakan seragam sekolah
Dari contoh di atas yang termasuk perilaku menyimpang primer adalah
A. (1), (2), dan (3) B. (1), (2), dan (4) C. (1), (3), dan (5) D. (2), (4), dan (5) E. (3), (4), dan (5)
- Setiap warga diharapkan patuh pada aturan yang berlaku dalam masyarakat. Dari ilustrasi di atas, fungsi norma sebagai
A. pedoman pengendalian sosial
B. kriteria penilaian sikap individu
C. pedoman bagi sikap individu
D. pedoman bagi perilaku masyarakat
E. cara masyarakat menjatuhkan sanksi
- Perhatikan pernyataan berikut :
(1) Ayah mengajak adik pergi memancing
(2) Calon kepala daerah yang tidak terpilih mengajukan keberatan atas dugaan kecurangan proses Pilkada
(3) Babak pinal pertandingan penca silat mempertemukan Iwan dengan dadan
(4) Deri dan Dodi kakak beradik berlomba untuk menjadi juara lomba lari
(5) Susi membantu Irma menyelesaikan tugas sekolah
Dari pernyataan tersebut, yang termasuk interaksi disosiatif adalah
A. (1), (2) dan (3) B. (2), (3) dan (4) C. (1), (2) dan (4) D. (2), (3) dan (5) E. (3), (4) dan (5)
- Kepatuhan Ibu Rahmat untuk selalu minum obat sesuai anjuran yang diberikan oleh dokter Ivan adalah contoh interaksi sosial antara dokter dengan pasien. Faktor yang mendorong terjadinya interaksi mereka adalah
A. Motivasi B. sugesti C. imitasi D. simpati E. identifikasi
- Pada saat orientasi peserta didik baru, sekolah memberikan penjelasan tentang tata tertib yang harus dipatuhi oleh para siswa selama menempuh pendidikan di sekolah. Oleh karenanya setiap siswa berusaha berperilaku sesuai tata tertib sekolah. Faktor pembentuk keteraturan tersebut adalah
A. ketertiban B. keteraturan C. sosialisasi D. keajegan E. kesadaran
- Dalam acara penggalangan dana untuk bantuan bencana alam, banyak terkumpul sumbangan yang diberikan para undangan sesuai kemampuan masing-masing. Suasana dalam acara tersebut menunjukkan bentuk interaksi
A. akomodatif B. disosiatif C. integratif D. asimilatif E. asosiatif
- Penduduk di Perumahan Indah Permai di kota A terdiri dari berbagai macam suku, agama, dan jenis pekerjaan. Mereka dapat hidup berdampingan, penuh toleransi, saling menghargai, dan saling bergotong royong dalam berbagai kegiatan. Struktur sosial pada contoh tersebut termasuk bentuk
A. konsolidasi sosial D. deferensiasi sosial
B. interaksi sosial E. interseksi sosial
C. kelompok sosial
- Iwan seorang remaja baik, akhir-akhir ini iwan banyak bergaul dengan temannya di genk motor, perilaku iwan banyak berubah mengikuti perilaku teman-temannya. Sosialisasi yang dialami oleh iwan termasuk jenis sosialisasi
A. Sekunder B. persuasif C. Otoriter D. Partisipatoris E. primer
- Terdapat orang tua yang dulunya sebagai pemain basket dengan postur tubuh yang tinggi. Anaknya pun sekarang menjadi pemain basket terkenal, setelah melalui latihan yang rutin dan bersungguh-sungguh. Faktor yang memengaruhi kepribadian anak adalah

- A. lingkungan fisik
- B. lingkungan budaya
- C. lingkungan sekolah

- D. teman bermain
- E. warisan biologis

13. Saat penyelenggaraan Pilkada sering terjadi konflik antara kelompok pendukung calon pemimpin daerah. Pro-kontra di antara mereka dapat menimbulkan banyak keresahan, kerugian, dan kerusakan dalam masyarakat. Dalam tinjauan sosiologis, faktor penyebab terjadinya konflik tersebut adalah
- A. kualitas calon pemimpin
 - B. banyaknya jumlah partai
 - C. rendahnya pendidikan politik
 - D. benturan kepentingan politik
 - E. kekayaan calon peserta
14. Bagi pengendara sepeda motor diwajibkan membawa SIM dan STNK serta harus memakai helm, apabila ada yang melanggar harus di tilang. Contoh perilaku tersebut merupakan penerapan tingkat norma
- A. folkways
 - B. custom
 - C. mores
 - D. usage
 - E. laws
15. Masyarakat suku Baduy memiliki kearifan lokal "pikukuh karuhun". Dalam "pikukuh karuhun" masyarakat dilarang menebang pohon dan mengambil hasil hutan secara sembarangan. Ilustrasi tersebut menggambarkan bahwa dalam masing-masing masyarakat memiliki karakter dan ciri
- A. ciri fisik
 - B. ciri budaya
 - C. ciri sosial
 - D. ciri bahasa
 - E. ciri adat-istiadat

16. Perhatikan bagan stratifikasi sosial berikut!



Keterangan :

- 1. Gubernur
- 2. Bupati/ Walikota
- 3. Camat

Berdasarkan bagan tersebut maka kriteria pelapisan sosial termasuk

- A. kriteria sosial
- B. kriteria politik
- C. kriteria pekerjaan
- D. kriteria ekonomi
- E. kriteria profesi

17. Perhatikan pernyataan berikut!

- (1) Kelompok A tidak mau bergabung dengan kelompok C karena memiliki perbedaan pandangan
- (2) Denada selalu menyempatkan diri ikut dalam kegiatan klub Dance Cantika walaupun dia sibuk
- (3) Partai politik X bersedia untuk berkoalisi dengan partai Y yang memiliki banyak pendukung
- (4) Bram memilih tidak ikut bergabung dengan klub sekolah barunya karena masih ingin berlatih di klub lamanya
- (5) Untuk memperluas pergaulannya Ryan menjadi anggota berbagai macam klub olahraga yang ada

Yang termasuk kelompok in group ditunjukkan nomor

- A. (1), (2), dan (3)
 - B. (1), (2), dan (4)
 - C. (1), (3), dan (5)
 - D. (2), (4), dan (5)
 - E. (3), (4), dan (5)
18. Setelah bekerja selama tiga tahun Denia telah dapat menjalankan tugasnya sebagai pegawai yang baik di salah satu bank swasta. Ia sangat menghormati atasannya serta ramah terhadap rekan kerja dan para nasabah. Tahap sosialisasi yang terjadi pada contoh tersebut berada pada
- A. play stage
 - B. game stage
 - C. preparatory stage
 - D. significant other
 - E. generalized other
19. Masyarakat Kampung Baru terdiri dari beberapa kelompok yang berbeda suku bangsa, ras dan agama. Walaupun berbeda, mereka selalu bergotong royong untuk membangun lingkungan melalui kegiatan bersih kampung dan siskamling. Faktor pendorong terwujudnya integrasi sosial tersebut adalah
- A. kesamaan ras, suku bangsa dan agama
 - B. kesamaan tingkat sosial ekonomi
 - C. kesamaan tempat tinggal
 - D. nasionalisme yang tinggi
 - E. pengikat persatuan warga

- 20.



Keterangan :

- Kakek : Penjaga sekolah
- Nenek : Ibu rumah tangga
- Ayah : Guru
- Ibu : Ibu rumah tangga
- Anak : Kepala sekolah

Berdasarkan Bagan di atas menunjukkan bentuk mobilitas sosial dalam keluarga, yaitu

- A. intra generasi naik
- B. intra generasi turun
- C. antar generasi naik
- D. antar generasi turun
- E. mobilitas campuran

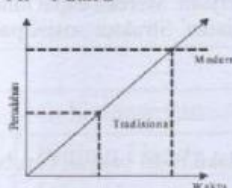
21. Berikut pernyataan di bawah ini yang merupakan ciri-ciri kelompok paguyuban :

- 1) Lebih didasarkan pada kenyataan sosial
- 2) Ikatan perasaan bersifat mendalam
- 3) Hubungan sosial bersifat informal
- 4) Memperhitungkan nilai guna

Berdasarkan pernyataan di atas yang merupakan ciri-ciri kelompok paguyuban adalah

- A. 1 dan 2
- B. 1 dan 3
- C. 2 dan 3
- D. 2 dan 4
- E. 1 dan 4

- 22.



Perhatikan perubahan sosial di samping ini!

Gambar perubahan di samping menjelaskan tentang bentuk perubahan sosial yang berpola

- A. linier
- B. siklus
- C. evolusi
- D. revolusi
- E. multilinear

23. Cermati pernyataan berikut:

- 1. Terlalu sering menonton tayangan sinetron di televisi, remaja menjadi bergaya hidup konsumtif
- 2. Seseorang memaknai ajaran agama tidak secara menyeluruh sehingga tumbuh menjadi ekstremis

3. Buruh pabrik suka bolos kerja karena supervisornya selalu tidak mengawasi
 4. Di masyarakat terdapat aliran suatu agama yang diikuti oleh sebagian warga, meski oleh pemerintah sudah dinyatakan sebagai aliran sesat
 5. Sekelompok pelajar melakukan tawuran dengan kelompok pelajar lain di lingkungan sekolah karena sekolah tidak memiliki aturan yang tegas tentang tawuran.
- Pasangkanlah pernyataan yang menurut anda benar
- A. (1), (2), dan (3) B. (1), (2), dan (4) C. (1), (3), dan (5) D. (1), (4), dan (5) E. (3), (4), dan (5)
24. Adanya kekhawatiran kelangkaan bahan bakar minyak dunia di masa datang mendorong masyarakat untuk melakukan terobosan baru dengan menciptakan kendaraan bermotor yang menggunakan energi alternatif, seperti mobil bertenaga surya. Faktor penyebab perubahan pada perilaku masyarakat tersebut adalah
 - A. pengaruh kebudayaan asing
 - B. adanya penemuan teknologi baru
 - C. menurunnya daya beli masyarakat
 - D. pertumbuhan jumlah penduduk
 - E. ketidakseimbangan jalan dan jumlah kendaraan
 25. Lia Suku Jawa beragama Islam bersekolah di SMA Merah Putih, Lina suku Sunda beragama Islam bersekolah di SMA Merah Putih. Dari deskripsi tersebut terdapat interseksi antara
 - A. agama dan suku bangsa
 - B. suku bangsa dan lembaga pendidikan
 - C. agama dan lembaga pendidikan
 - D. lembaga pendidikan dan suku bangsa
 - E. Gender dan suku bangsa
 26. Konflik bermuansa suku, ras dan antargolongan (SARA) masih sering terjadi di daerah tertentu di Indonesia. Dari contoh konflik di atas merupakan contoh konflik
 - A. Vertical
 - B. Horizontal
 - C. Diagonal
 - D. Konflik kepentingan
 - E. Konflik agama
 27. Ciri-ciri kelompok sosial ditujukan pada
 - A. memiliki kesadaran sebagai bagian dari kelompok
 - B. memiliki profesi yang sama
 - C. berideologi politik yang sama
 - D. memiliki norma yang sama
 - E. memiliki hobi dan kepentingan yang homogen.
 28. Beberapa kegiatan sosial:
 - (1) Memenuhi kebutuhan sosial keluarga
 - (2) Menciptakan kehangatan dalam keluarga
 - (3) Menanamkan nilai-nilai sosial pada anak
 - (4) Membentuk kepribadian anak
 - (5) Memberikan keteladanan perilaku kepada anak


Dari contoh di samping yang merupakan fungsi sosialisasi keluarga adalah

 - A. (1), (2), dan (3)
 - B. (1), (2), dan (4)
 - C. (1), (3), dan (5)
 - D. (2), (4), dan (5)
 - E. (3), (4), dan (5)
 29. Salah satu ciri umum dari lembaga sosial yaitu
 - A. Mempunyai tujuan tertentu.
 - B. Mendukung kelangsungan hidup masyarakat (fungsi positif).
 - C. Bisa juga berfungsi sebagai lembaga yang merugikan kelangsungan hidup masyarakat (fungsi negatif).
 - D. Sebagai cara bertindak untuk mengikat masyarakat
 - E. Bisa juga berfungsi sebagai lembaga yang menguntungkan
 30. Teori cultural lag yang dikemukakan oleh William F. Ogburn, ditandai dengan
 - A. Masyarakat sama-sama mementingkan materi dan non materi
 - B. Adanya sistem pelapisan dalam masyarakat
 - C. Petani beralih ke sektor industri modern di kota-kota
 - D. Timbulnya industri-industri modern
 - E. Sikap mental masyarakat belum siap memajukan teknologi
 31. Dalam menentukan topik penelitian ada beberapa hal yang harus diperhatikan diantaranya
 - A. Topik atau judul yang dipilih haruslah topik yang bisa diteliti oleh peneliti
 - B. Merumuskan pernyataan masalah
 - C. Menggunakan bahasa yang bisa dipahami
 - D. Merupakan penghematan nyata
 - E. Pencarian data secara tertulis
 32. Berusaha untuk menggambarkan situasi atau kejadian dan data yang dikumpulkan semata-mata, merupakan sifat dari penelitian
 - A. Deskriptif
 - B. Fungsional
 - C. Analitis
 - D. Verifikatif
 - E. Develomental
 33. Perhatikan pernyataan berikut ini!
 - (1) Dapat mencatat secara langsung pada waktu kejadian
 - (2) Dapat memperoleh data dari subyek secara langsung
 - (3) Diperlukan waktu yang cukup lama untuk memperoleh data penelitian
 - (4) Dapat berkomunikasi langsung dengan responden
 - (5) Tidak bisa dilakukan untuk fenomena yang berlangsung lama

Dari pernyataan tersebut yang merupakan kelebihan teknik observasi adalah

 - A. (1), (2), dan (3)
 - B. (1), (2), dan (4)
 - C. (1), (3), dan (5)
 - D. (2), (4), dan (5)
 - E. (3), (4), dan (5)
 34. Median dari data 3, 4, 5, 6, 7, 8 adalah
 - A. 5,5
 - B. 5
 - C. 6
 - D. 6,5
 - E. 6,6
 35. Eko melakukan penelitian mengenai pengembangan sistem informasi wisata bagi kehidupan masyarakat disekitar pesisir pantai Parangtritis Yogyakarta. Penelitian yang dilakukan Eko mempunyai kegunaan yaitu untuk ...
 - A. melakukan ilmu pengetahuan baru
 - B. mengembangkan ilmu pengetahuan
 - C. menjelaskan fenomena antar kebudayaan masyarakat
 - D. menjadi sumber informasi penting bagi rencana program pemerintah
 - E. menjadi alat pemecahan lapangan

36. Kepala daerah Kabupaten X terpilih kembali dalam pilkada, meskipun selama musim kampanye ia tidak melakukan pencitraan diri yang berlebihan. Ia hanya melaksanakan tugas pelayanan selama 5 tahun menjabat dengan sebaik-baiknya. Jika contoh tersebut diteliti dengan metode studi kasus, maka rumusan masalah yang sesuai adalah
- Apakah kepala daerah dapat terpilih untuk kedua kalinya?
 - Bagaimana cara menarik hati rakyat agar mau memilihnya?
 - Apa yang membuat masyarakat tertarik dengan kepala daerahnya?
 - Strategi apa yang dilakukan kepala daerah agar dapat dipilih kembali?
 - Bagaimana cara kampanye yang baik untuk menarik suara pemilih?
37. Sekelompok siswa SMA/MA melakukan pengamatan dan wawancara dengan para supir angkutan kota guna memperoleh data mengenai tingkat pendidikan, jumlah anggota keluarga yang menjadi langganannya, lama bekerja dalam sehari, pendapatan kotor, jumlah uang yang harus disetorkan kepada perusahaan, dan lain-lain. Dilihat dari cara memperolehnya, data tersebut termasuk jenis data
- Sekunder
 - Kualitatif
 - Primer
 - Nominal
 - Kuantitatif
38. Peneliti melakukan penelitian mengenai keberhasilan program keluarga berencana (KB) diseluruh Indonesia. Oleh karena keadaan setiap populasi itu berbeda, maka peneliti harus membuat sampel dari seluruh populasi sehingga hasilnya mencerminkan keberhasilan KB di seluruh Indonesia. Maka teknik sampel yang digunakan adalah ...
- Sampel porposi
 - Sampel acak
 - Sampel bertingkat
 - Sampel bertujuan
 - Sampel wilayah
39. Seorang peneliti melakukan penelitian tentang tingkat kepuasan masyarakat terhadap kinerja bupati, berdasarkan hasil penelitian ternyata sebagian besar masyarakat sudah cukup puas dengan kinerja bupati, sementara sebagian kecilnya menyatakan tidak puas. Berdasarkan ilustrasi tersebut, maka jenis penelitian yang dilakukan adalah
- Deskriptif
 - Kuantitatif
 - Eksperimen
 - Kualitatif
 - Eksplanatori



- Perhatikan Jumlah Penyalahgunaan Narkoba tersebut. Dari grafik di samping dapat diperoleh informasi bahwa
- siswa wanita lebih banyak penyalahgunaan narkoba
 - seimbang jumlah penyalahgunaan narkoba wanita antara laki-laki
 - siswa laki-laki lebih banyak penyalahgunaan narkoba
 - Jumlah penyalahgunaan narkoba lebih banyak wanita
 - jumlah laki-laki penyalahgunaan narkoba semakin sedikit

B. URAIAN

41. Kasus penyalahgunaan narkoba di Indonesia pada saat ini sudah pada tahap mengkhawatirkan, tidak hanya kaum remaja, tetapi anak-anak seusia SD pun sudah mulai jadi sasaran Bandar narkoba untuk menggunakannya. Hal ini seharusnya dapat dicegah dengan adanya tindakan pengendalian sosial. Jelaskan 2 lembaga pengendalian sosial yang perannya dianggap paling penting dalam menangani kasus tersebut. !
42. Perselisihan (konflik) dapat terjadi dalam masyarakat. Konflik antar individu, individu dengan kelompok ataupun antar kelompok dalam masyarakat. Pada waktu ini konflik yang sering terjadi adalah konflik antar kelompok dalam masyarakat. Seperti konflik antar desa, konflik antar kampung yang tidak pernah berhenti dan berkepanjangan. Seperti yang terjadi di Jakarta konflik antara kampung yang satu dengan kampung yang lain yang terus menerus tanpa ada penyelesaian. Hal ini terjadi karena kemungkinan permasalahan yang terjadi antara ke dua kampung itu tidak diselesaikan dengan tuntas hingga ke akarnya. Salah satu pemecahan masalah konflik tersebut adalah dengan cara adjudikasi atau penyelesaian konflik melalui pengadilan. Jelaskan cara untuk menyelesaikan konflik dengan cara adjudikasi tersebut !
43. Kemajemukan bangsa Indonesia merupakan realita yang tidak dapat dihindari, oleh karena itu diperlukan adanya upaya yang dapat mengikat kemajemukan tersebut agar tetap menjadi kekuatan yang mendorong terjadinya integrasi nasional. Uraikan 3 upaya yang dapat dilakukan bangsa Indonesia dalam menjaga kemajemukan dalam bingkai NKRI ditinjau dari sudut sosiologis!
44. Ada ungkapan yang sekarang ini menjadi trend dalam masyarakat yaitu "mendekatkan yang jauh dan menjauhkan yang dekat" Ungkapan ini ada karena maraknya penggunaan media sosial seperti WA, Line, Facebook, Twitter dll. Media sosial mempunyai manfaat yang besar bagi masyarakat salah satu nya dalam berkomunikasi, hanya saja penggunaan media sosial ini cenderung kurang bijaksana sehingga justru lebih membawa ke hal hal yang kurang bermanfaat bahkan lebih jauhnya membahayakan bagi penggunaanya. Sebutkan Dampak negative dari kurang bijaksananya masyarakat dalam menggunakan media sosial tersebut !
45. Sikap intoleransi adalah sikap yang bertentangan dengan sikap toleran, terutama jika dikaitkan dengan kehidupan beragama. Sikap intoleransi dapat membahayakan integrasi bangsa karena hubungan antar pemeluk agama dapat terganggu. Mengganggu keyakinan orang lain, menjelek-jelekan agama lain bahkan menistakan agama lain adalah bentuk dari intoleransi. Bagaimana Sikap kita dalam menghadapi gejala intoleransi yang sekarang ini mulai muncul di Indonesia? Sebutkan bagaimana upaya untuk menjaga toleransi antar umat beragama di Indonesia !

PEROLEHAN NILAI				Diperiksa Tgl. : Oleh : (.....)
Keterangan		Angka	Dengan Huruf	
I	Pilihan Ganda			
II	Isian / Uraian			
Jumlah				
Nilai Akhir				