







1. Complete os espaços selecionando o nome do sólido que se assemelha a cada uma das imagens seguintes.

		
<input type="text"/>	<input type="text"/>	<input type="text"/>
		
<input type="text"/>	<input type="text"/>	<input type="text"/>

Prisma triangular

Paralelepípedo

Cilindro

Esfera

Cone

Pirâmide  
quadrangular