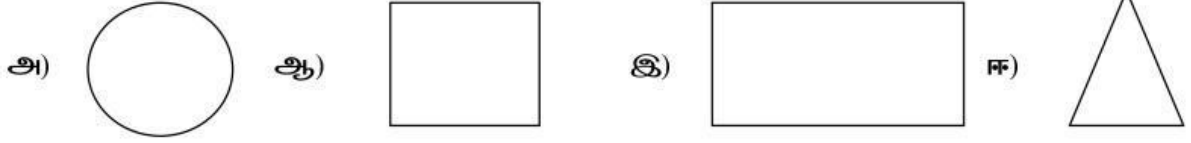


DISTRICT EDUCATIONAL OFFICE (ELEMENTARY),
TIRUVALLUR EDUCATIONAL DISTRICT.
MATHS WORKSHEET 2

ஆ) சரியான விடையை தேர்ந்தெடுத்து எழுதுக.

1. நான்கு பக்கங்களும் சமமாக உள்ள வடிவம் எது?



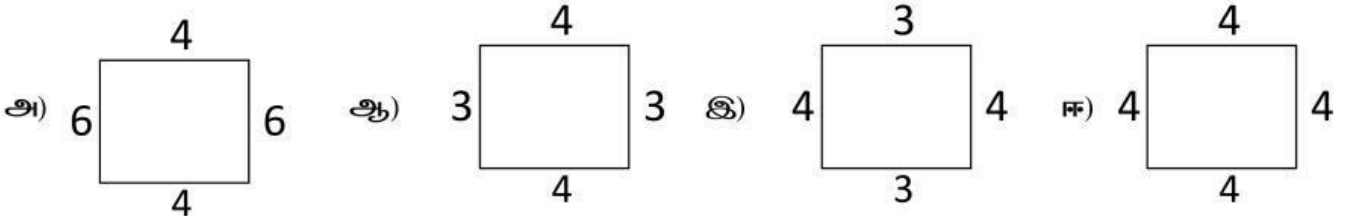
2. வளைவாக உள்ள வடிவம் எது?




3. எதிர் எதிர் பக்கங்கள் சமமாக உள்ள வடிவம் எது?



4.  விடுபட்ட பக்கங்களை கண்டுபிடி?



5.  இதன் சுற்றளவு என்ன?

- அ) 16 cm ஆ) 22 cm இ) 20 cm ஈ) 12 cm