

# ***LKPD EKONOMI***

## ***HARGA KESEIMBANGAN PASAR***



NAMA :

KELAS :

### **PETUNJUK**

1. Tuliskan identitas anda
2. Simaklah video pembelajaran
3. Pahami materi ppt yang disediakan
4. Klik Link materi yang disediakan

### **TUJUAN PEMBELAJARAN**

1. Memahami konsep keseimbangan pasar dan pemodelannya dalam bentuk tabel dan kurva
2. Menganalisis data hasil permintaan dan penawaran dalam menentukan proses terbentuknya harga keseimbangan



## Materi : Harga Keseimbangan Pasar

1. Simaklah video pembelajaran berikut



2. Simaklah materi PPt berikut



3. Klik link materi harga keseimbangan pasar

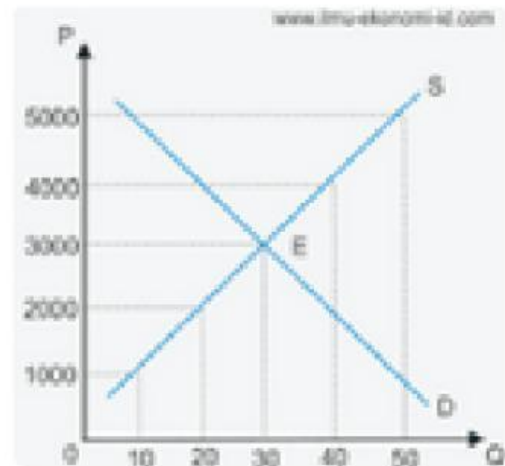


# EVALUASI

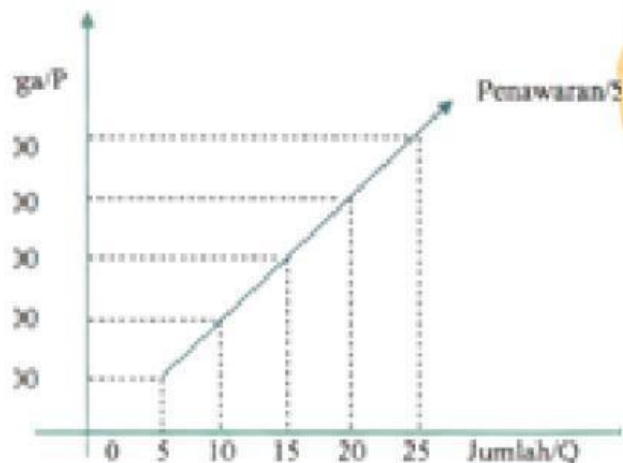


JOIN : Hubungkan kotak sebelah kiri dan kanan, sehingga membentuk jawaban yang benar

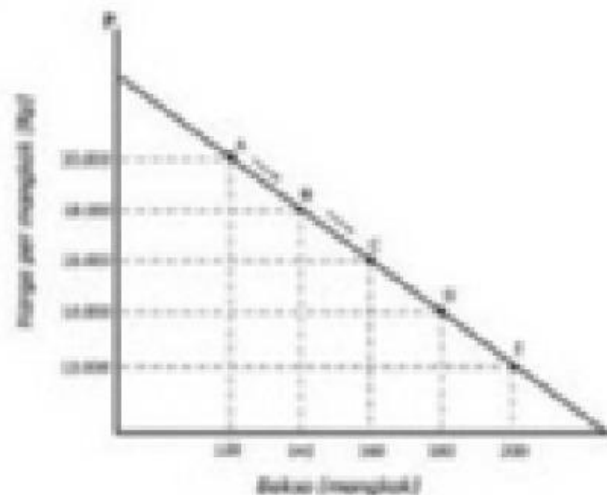
**Gambar yang menunjukkan kurva permintaan**



**Gambar yang menunjukkan kurva penawaran**



**Gambar yang menunjukkan kurva permintaan dan kurva penawaran**







## **TEKSFIELD**

**Isilah bagian yang kosong dari pertanyaan di bawah ini**

1. Jelaskan apa yang dimaksud dengan keseimbangan pasar adalah

2. Apa yang terjadi jika harga pasar berada di atas harga keseimbangan adalah

3. Sebutkan faktor-faktor yang mempengaruhi keseimbangan pasar adalah

4. Mengapa penting bagi produsen dan konsumen untuk memahami konsep keseimbangan pasar adalah

5. Bagaimana dampaknya jika harga pasar berada di bawah harga keseimbangan adalah

## Single choice

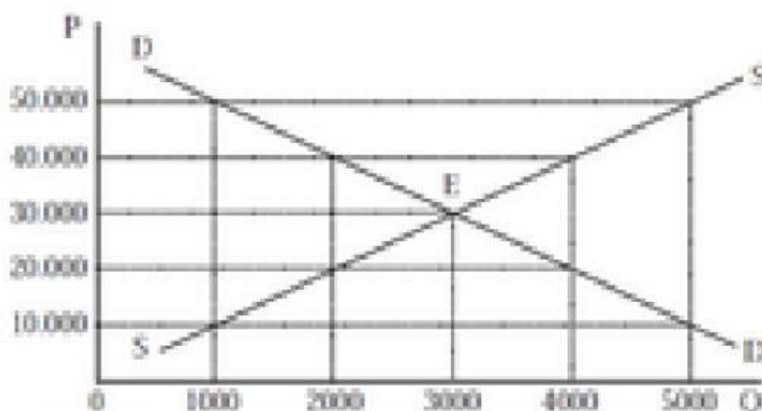
Pilihlah jawaban yang paling benar

1. Keseimbangan pasar (equilibrium) dapat terjadi apabila ....

2. Titik Equilibrium (Keseimbangan) pada kurva keseimbangan dapat terjadi karena .....

3. Ketika terjadi kesepakatan harga antara penjual dan pembeli maka pada saat itu pasar berfungsi sebagai...

4. Perhatikan kurva keseimbangan pasar berikut. Titik keseimbangan terjadi pada saat ....



## ***CHECKBOX***

**Silakan centang pada pernyataan yang benar**

☐

Ketika harga pasar lebih tinggi dari harga keseimbangan, permintaan melebihi penawaran, permintaan sama dengan penawaran atau penawaran melebihi permintaan

☐

keseimbangan pasar dipengaruhi oleh perubahan dalam permintaan dan penawaran.

keseimbangan pasar tetap tidak berubah, keseimbangan pasar tetap bergeser sesuai perubahan permintaan, dan penawaran, dan keseimbangan pasar hanya dipengaruhi oleh perubahan dalam permintaan

☐

ketika harga pasar lebih rendah dari harga keseimbangan maka terjadi surplus produsen dan permintaan melebihi penawaran

☐



Penyebab pergeseran kurva permintaan atau penawaran adalah perubahan pada kuantitas barang yang ditawarkan

## ***Select***

**Pilihlah jawaban yang benar dengan klik pada gambar**

Perhatikan gambar tokoh dibawah. Tokoh ini adalah salah satu tokoh penting dalam dunia ekonomi. yang lahir pada 18 April 1772 ini dinilai sangat berpengaruh dalam perekonomian Inggris pada abad ke-19. Dalam gagasan dan teorinya, menyatakan bahwa sebuah negara harus memiliki keunggulan komparatif.

Siapakah tokoh yang dimaksud ?



## Drag & Drop

Silakan geser jawaban diposisi yang benar sehingga menjadi sebuah pernyataan yang benar

### Soal

### Jawaban

1. Jumlah barang atau jasa yang diminta oleh pembeli pada berbagai kemungkinan tingkat harga pada waktu tertentu disebut ....



Permintaan

2. Salah satu swalayan Alfamidi di Kab. Buol sedang mengadakan diskon besar-besaran menyebabkan warga sekitar berbondong-bondong berbelanja ke swalayan tersebut  
Berdasarkan pernyataan tersebut yang menjadi faktor yang mempengaruhi meningkatnya permintaan adalah ....



Harga barang

Perhatikan tabel berikut.  
Manakah kurva keseimbangan yang sesuai dengan data pada tabel tersebut

Harga (P)	Jumlah permintaan ( $Q_d$ )	Jumlah penawaran ( $Q_s$ )
11.000	80	40
12.000	60	60
13.000	40	80

