


Ética, naturaleza y sociedades



INSTRUCCIONES.

- ☺ Lee con mucha atención cada pregunta y responde correctamente.
- ☺ Si alguna se te dificultad puedes dejarla hasta el final.

GEOGRAFIA

1. Relaciona correctamente cada columna según su definición.

Representa la información del mapa mediante figuras, signos líneas, colores o puntos.

Símbolo que sirve para señalar los puntos cardinales en el mapa.

Te ayuda a identificar cuál es el tema o contenido.

Son líneas imaginarias (paralelos y meridianos) sobre la superficie de la Tierra que te permiten localizar cualquier punto.

Sirve para conocer cuánto se redujo las dimensiones reales del terreno en el mapa.

Se sitúa en la parte inferior izquierda. Indica la institución en donde se obtuvo la información para elaborar el mapa o el autor.

Rosa de los vientos.

Escala numérica.

Título.

Simbología.

Fuente.

Coordenadas geográficas.

2. Escribe dentro del recuadro el nombre de cada elemento del mapa.



3. Completa el texto con la opción correcta.

_____ Son representaciones de porciones de la superficie terrestre, elaborados sobre un plano, generalmente en una hoja de papel.

_____ Es un modelo esférico que representa de forma global la Tierra.

Los puntos en los que el eje toca la esfera terrestres se llaman _____ y marcan los puntos cardinales, norte o sur.



Evaluación segundo trimestre

_____ son líneas imaginarias horizontales que rodean completamente la Tierra, formando círculos, la divide en dos hemisferios: norte y sur.

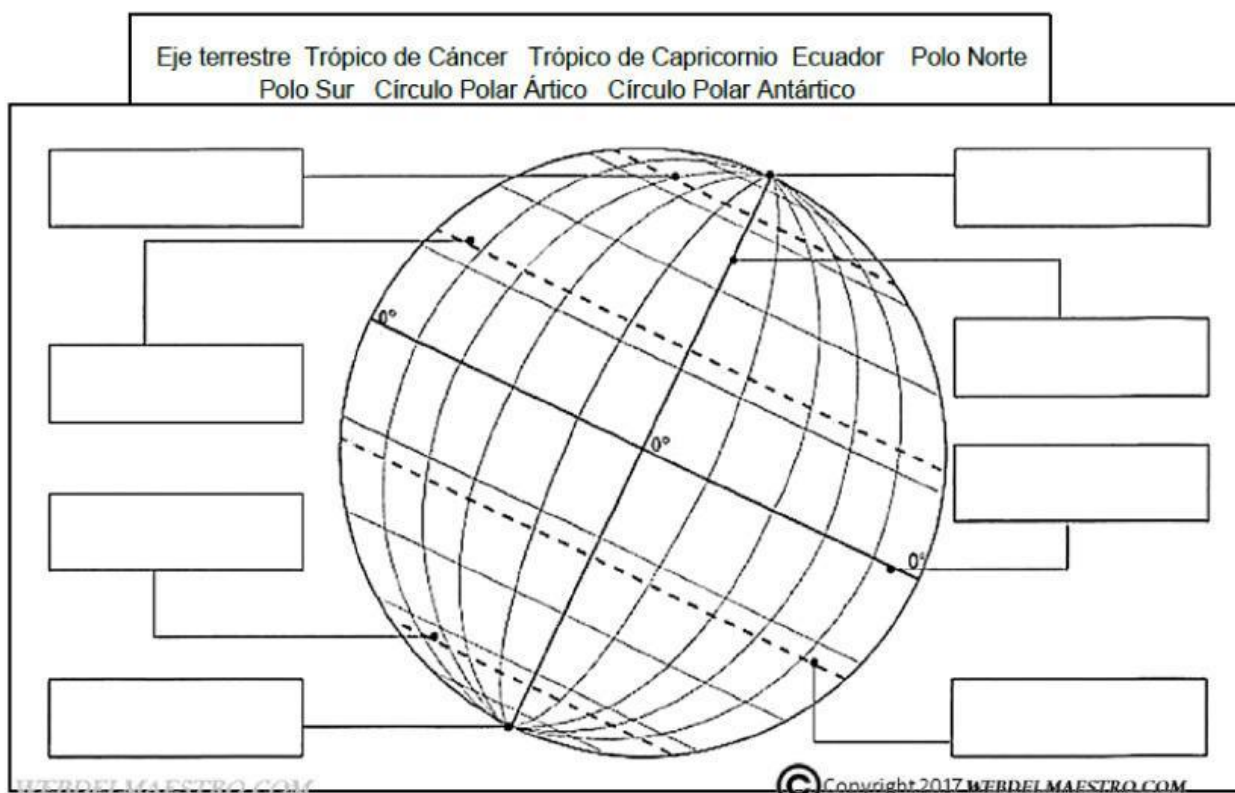
_____ son línea trazadas de polo norte al polo sur y forman semicírculos, dividen la Tierra en los hemisferios: este y oeste.

_____ se establecen mediante el cruce de paralelos y meridianos.

_____ es la distancia medida en grados, minutos y segundos con respecto al Ecuador. Su valor va de 0° hasta 90° grados norte y sur.

_____ se mide con respecto al meridiano de Greenwich, hacia el este y el oeste, su valor va de 0° a 180° .

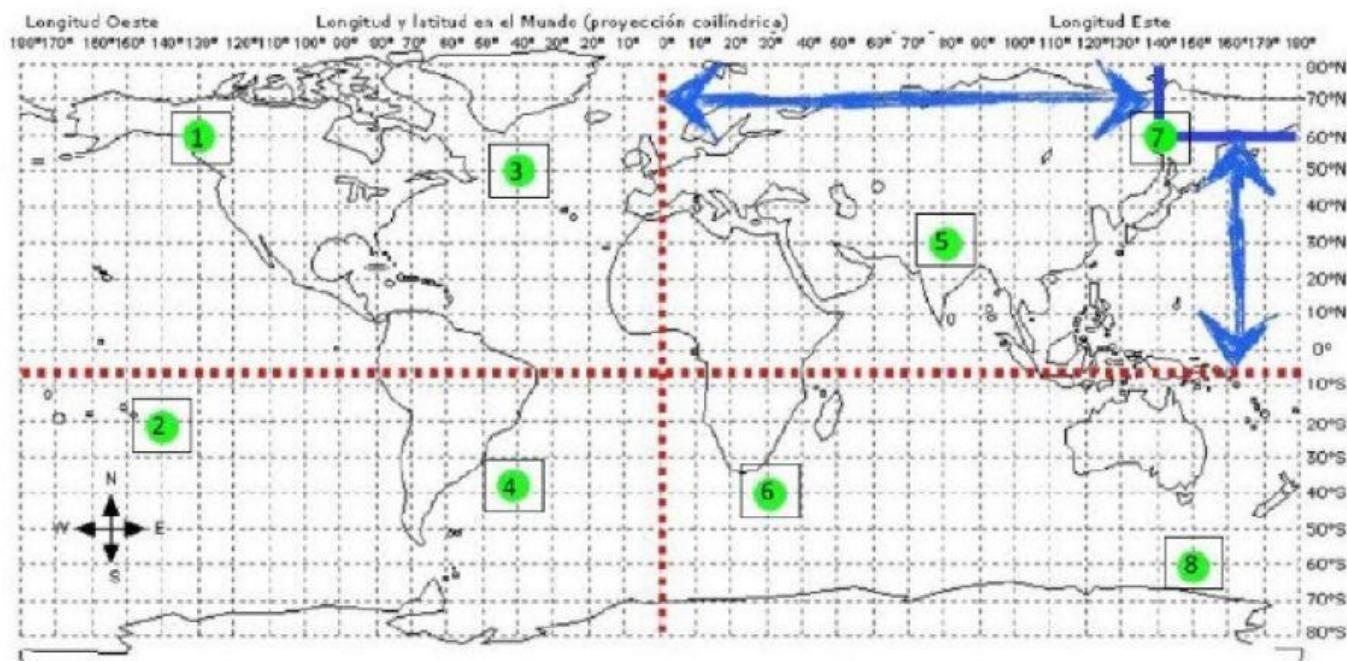
4. Escribe dentro de cada recuadro el nombre de la línea imaginaria, cuida tu escritura.





Evaluación segundo trimestre

5. Escribe dentro de cada recuadro el número que corresponda según las coordenadas geográficas.



	50°N 40°O		40°S 30°E
	60°S 150°E		30°N 80°E
	60°N 130°O		20°S 140°O
	60°N 140°E		40°S 40°O

HISTORIA

1. Menciona los tres símbolos patrios _____ y _____.

2. Nombre de la primera bandera que de México.
_____.



3. Menciona por lo menos tres banderas que hayan existido antes de la que tenemos actualmente.



4. Fecha de la celebración del día de la bandera.

5. Fecha de la celebración de la constitución de mexicana.
_____.

6. Nombre del personaje que promulgó la constitución mexicana del 1917. _____.

7. Fecha de la celebración del inicio de la Independencia de México.
_____.

8. Nombre del personaje que inició la lucha por la independencia de México. _____



Evaluación segundo trimestre

9. Durante el inicio de la independencia de México se formaron dos ejércitos en guerra, estos fueron:
- a) Monárquico y liberal.
 - b) El ejército Trigarante y el realista.
 - c) El insurgente y el realista.
10. Selecciona a los personajes que intervinieron en la guerra de la Independencia.

