

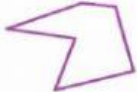











Tema: Líneas rectas y curvas

Actividad 1: Escribe el nombre de cada línea según la clasificación.

		<input data-bbox="853 613 1193 667" type="text"/>
		<input data-bbox="850 730 1190 786" type="text"/>
		<input data-bbox="853 864 1193 920" type="text"/>
		<input data-bbox="853 999 1193 1055" type="text"/>
		<input data-bbox="850 1122 1190 1178" type="text"/>
		<input data-bbox="847 1245 1187 1301" type="text"/>

Actividad 2: Observa y contesta.

Observa el paisaje que nos rodea e identifica las líneas rectas, curvas y poligonales.



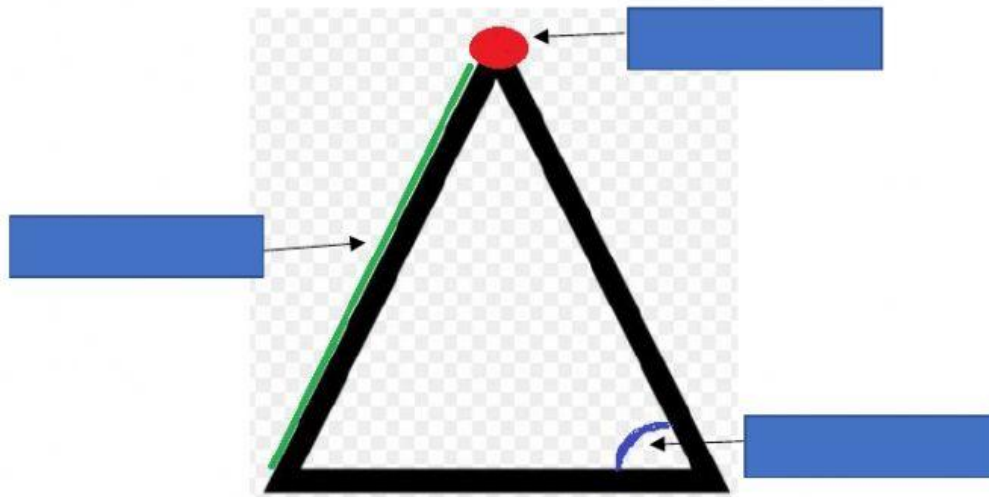
El arcoíris tiene una línea

El camino tiene una línea

La puerta tiene una línea

Tema: Lados, vértices y ángulos

Actividad 1: Escribe el nombre de cada elemento de la figura geométrica.



Actividad 2: Escribe la cantidad de lados, vértices y ángulos que tienen las siguientes imágenes.



Lados	<input type="text"/>
Vértices	<input type="text"/>
Ángulos	<input type="text"/>



Lados	<input type="text"/>
Vértices	<input type="text"/>
Ángulos	<input type="text"/>