

Centro Educacional Casimiro de Abreu

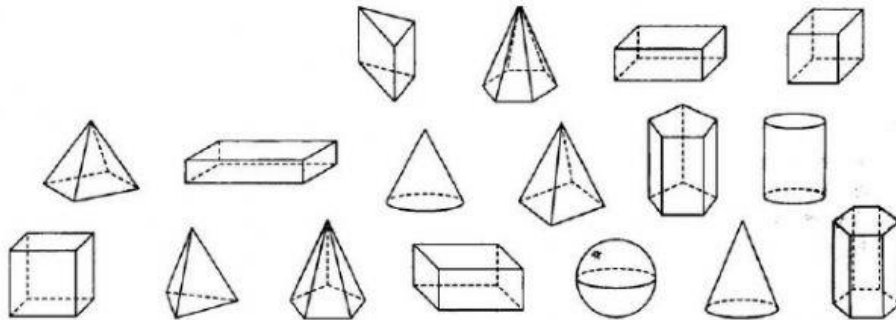
Diretora:.....
 Professora:.....
 Aluno^a:.....
 Série: 5º ano Turma:..... Turno:..... 1º Bimestre
 Data:.....



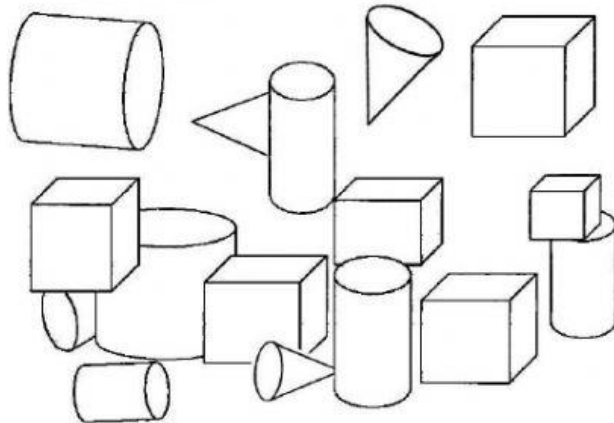
NOTA

Teste Avaliativo de Matemática

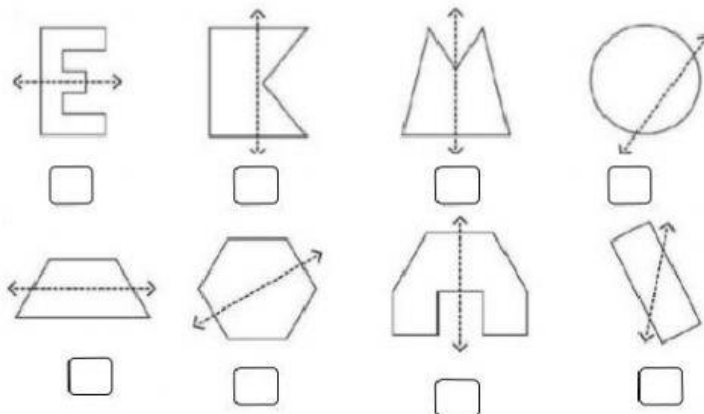
1. Marque um x de vermelho nos poliedros e circule de azul os corpos redondos. (2.0)



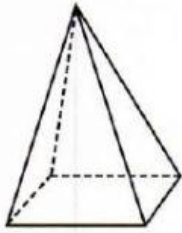
2. Pinte os cones de azul, os cubos de vermelho e os cilindros de verde. (2.0)



3. Assinale com X as figuras onde está indicado o eixo de simetria. (1.5)



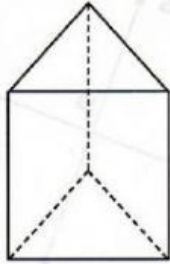
4. Observe os poliedros e responda o que se pede. (2,0)



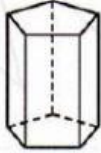
Nome: _____
 Quantas faces? _____
 Quantas arestas? _____
 Quantos vértices? _____




Nome: _____
 Quantas faces? _____
 Quantas arestas? _____
 Quantos vértices? _____



Nome: _____
 Quantas faces? _____
 Quantas arestas? _____
 Quantos vértices? _____



Nome: _____
 Quantas faces? _____
 Quantas arestas? _____
 Quantos vértices? _____



Nome: _____
 Quantas faces? _____
 Quantas arestas? _____
 Quantos vértices? _____

5. Registe os séculos a que pertencem os anos. (1,0)

a) 500 _____ b) 1890 _____ c) 1983 _____

d) 1955 _____ e) 1718 _____ f) 2020 _____

6. Escreva os anos que começam e terminam cada século. (1,0)

Século	Começa	Termina
XXI		
XVIII		
XV		
X		

7. Complete: (0,5)

a) Eu nasci no ano de _____ do século _____.