

Tarea semanal N° 3

1-¿Cuál es el mayor número que se puede formar con estas tarjetas?



Es el

2-¿Cuál de estos números es el cuarenta y un mil cuatrocientos cuatro?

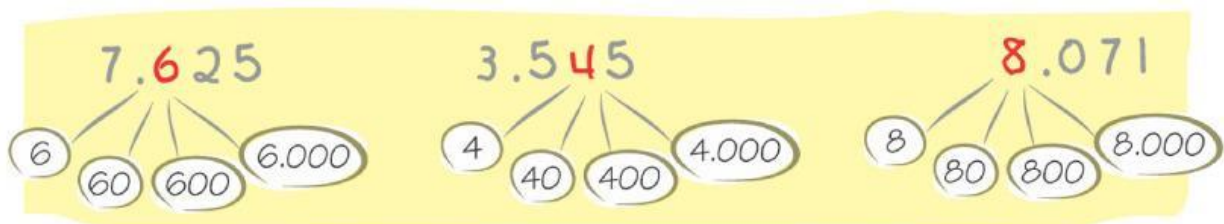
41.440

41.404

41.040

41.044

3-Indicá el valor posicional de la cifra destacada



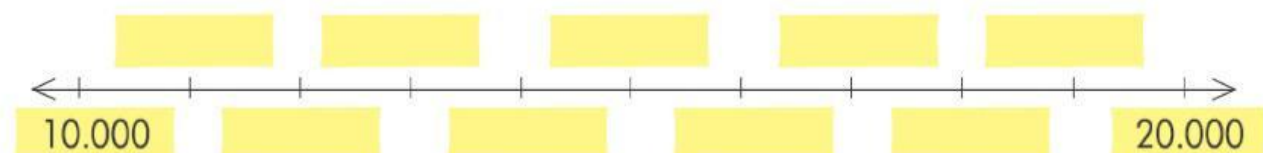
4-Completá cada serie

a. 52.803 > 52.703 > > > >

b. 17.300 > 16.300 > > > >

c. 11.597 > 11.497 > > > >


5-Completá las serie de mil en mil



6-Escribí el anterior y el posterior

	24.386	
	96.154	
	17.165	
	69.590	
	22.298	

7- Escribí con números



8-Escribí con letras

