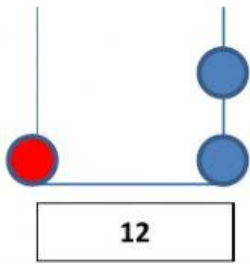
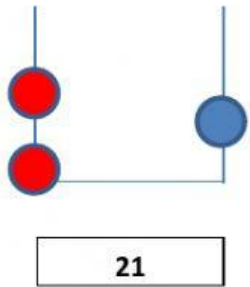
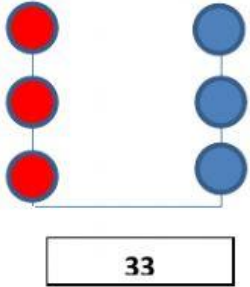
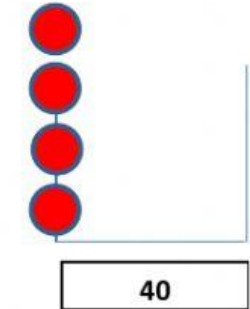
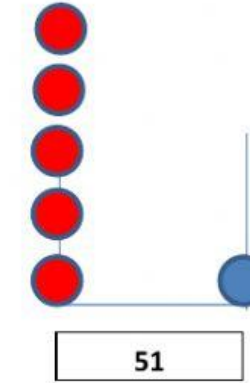


COMPLETA EL ABACO CON LAS DECENAS Y UNIDADES CORRESPONDIENTES. DESPUÉS ESCRIBE EN EL RECUADRO. FIJATE EN EL EJEMPLO.

 <p>12</p>	<p><u>EL NÚMERO 12 TIENE:</u></p> <p>1 DECENA Y 2 UNIDADES.</p>
 <p>21</p>	<p><u>EL NÚMERO 21 TIENE:</u></p>
 <p>33</p>	<p><u>EL NÚMERO 33 TIENE:</u></p>
 <p>40</p>	<p><u>EL NÚMERO 40 TIENE:</u></p>
 <p>51</p>	<p><u>EL NÚMERO 51 TIENE:</u></p>

UNE CON FLECHAS Y FIJATE PORQUE PUEDE HABER NÚMEROS REPETIDOS.

25

CUATRO DECENAS Y TRES UNIDADES

43

DOS DECENAS Y 5 UNIDADES

67

9 DECENAS Y 9 UNIDADES

99

6 DECENAS Y 7 UNIDADES

51

CINCO DECENAS Y 1 UNIDAD

99

DOS DECENAS Y 4 UNIDADES

24

