



**SUMATIF TENGAH SEMESTER (STS) KELAS 7 DAN 8**  
**SMP KATOLIK "ST. YUSTINUS DE YACOBIS"**  
**TAHUN AJARAN 2023 – 2024**



**NAMA LENGKAP** :

**KELAS** :

**NOMOR UJIAN** :

**MAPEL** : **ILMU PENGETAHUAN SOSIAL (IPS)**

- Perubahan jumlah penduduk yang terjadi terus menerus setiap tahunnya disebut ....
  - Komposisi penduduk
  - Dinamika penduduk
  - Piramida penduduk
  - Struktur penduduk
- Pertumbuhan penduduk dipengaruhi oleh keseimbangan dinamis antara faktor-faktor yang menambah jumlah penduduk dengan faktor-faktor yang mengurangi jumlah penduduk. Salah satunya adalah perpindahan penduduk dari daerah yang padat ke daerah yang jarang penduduknya yang disebut ....
  - Imigrasi
  - Emigrasi
  - Urbanisasi
  - Transmigrasi
- Salah satu tipe piramida penduduk memperlihatkan turunya tingkat kesuburan dan kematian, meningkatnya harapan hidup, dan perlambatan pertumbuhan penduduk. Piramida penduduk yang dimaksud adalah tipe piramida ....
  - granat
  - stasioner
  - ekspansif
  - konstruktif
- Jumlah penduduk Indonesia yang terbanyak berada di Pulau ....
  - Bali
  - Jawa
  - Sumatra
  - Kalimantan
- Boris Bokir sebelumnya adalah siswa kelas VIII SMP di salah satu kota metropolitan. Baru-baru ini ia pindah ke sekolah di kota kecamatan. Ia pindah ke sekolah tersebut karena kedua orang tuanya ingin membangun usaha pertanian di daerah setempat. Perpindahan yang dilakukan Boris Bokir termasuk mobilitas sosial ....
  - horizontal
  - antargenerasi
  - vertikal ke atas
  - vertikal ke bawah



**SUMATIF TENGAH SEMESTER (STS) KELAS 7 DAN 8**  
**SMP KATOLIK "ST. YUSTINUS DE YACOBIS"**  
**TAHUN AJARAN 2023 – 2024**



6. Perhatikan pernyataan-pernyataan berikut.

- 1) Tingkat kelahiran rendah.
- 2) Tingkat kematian rendah.
- 3) Piramida berbentuk granat.
- 4) Pertumbuhan penduduk mendekati nol atau lambat.
- 5) Jumlah penduduk pada setiap kelompok umur hampir sama.

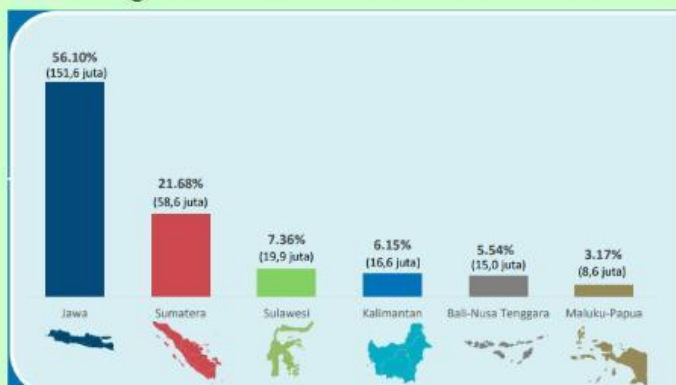
Pernyataan-pernyataan tersebut sesuai dengan ciri-ciri dari salah satu tipe piramida penduduk, yaitu tipe ....

- |                |                |
|----------------|----------------|
| A. Konstruktif | C. Ekspansif   |
| B. Stasioner   | D. Eksplanatif |

7. Pernyataan berikut yang tepat mengenai mobilitas sosial horizontal adalah ....

- A. Pak Avatar Aang adalah guru Matematika di salah satu SMA di Jakarta. Bulan lalu, ia harus pindah ke kota Medan. Di Medan, ia mengajar Matematika di salah satu SMA.
- B. Pak Boruto adalah seorang penjahit sepatu keliling. Oleh karena keuletannya, ia berhasil mengembangkan usaha sepatunya dan memperkerjakan 15 orang karyawan.
- C. Ibu Charlotte adalah walikota di salah satu kota. Namun karena tersandung korupsi, ia dicopot dari jabatannya dan seluruh kekayaannya disita negara.
- D. Ibu Dojou adalah pengusaha makanan dan minuman. Namun ia tidak lagi mengembangkan usaha makanannya. Ia fokus mengembangkan usaha minuman karena lebih menguntungkan.

8. Perhatikan grafik berikut.



- A. Jumlah penduduk di Pulau Kalimantan merupakan yang paling kecil dibandingkan pulau lainnya.
- B. Jumlah penduduk di wilayah Sumatra menjadi yang tertinggi kedua setelah Pulau Jawa dan Bali.
- C. Jumlah penduduk di Pulau Sulawesi masih lebih tinggi dibandingkan di Pulau Kalimantan.
- D. Wilayah Papua dan Maluku memiliki jumlah penduduk terkecil kedua setelah Pulau Sulawesi.

Pernyataan berikut yang tepat untuk menjelaskan persebaran Penduduk Indonesia berdasarkan grafik tersebut adalah ....



**SUMATIF TENGAH SEMESTER (STS) KELAS 7 DAN 8**  
**SMP KATOLIK "ST. YUSTINUS DE YACOBIS"**  
**TAHUN AJARAN 2023 – 2024**



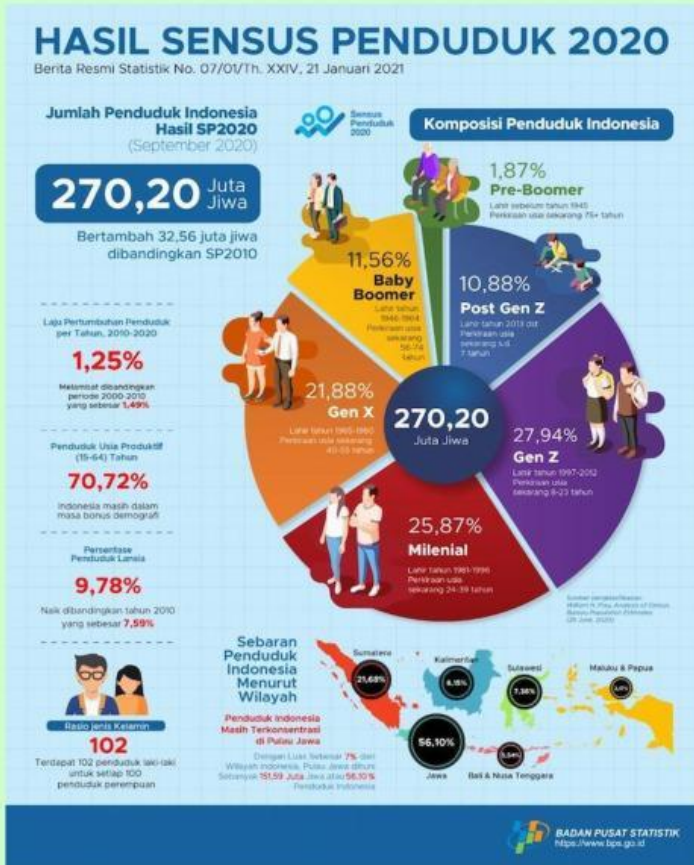
9. Seorang tukang kebun memiliki tiga orang anak. Anak pertama bekerja sebagai petugas administrasi di kelurahan, anak kedua bekerja sebagai guru di salah satu sekolah, dan anak ketiga menjabat sebagai dekan di suatu universitas. Ilustri tersebut merupakan contoh bentuk mobilitas sosial ....
- A. Antargenerasi turun  
B. Intragenerasi naik  
C. vertikal ke bawah  
D. horizontal
10. Dinamika penduduk sangat berkaitan dengan proses mobilitas sosial. Mobilitas sosial adalah gerak perpindahan dari satu kelas sosial ke kelas sosial lainnya. Berikut yang termasuk faktor pendorong mobilitas sosial adalah ....
- A. Pengaruh sosialisasi kelas  
B. Keadaan ekonomi  
C. Diskriminasi rasial  
D. Kemiskinan
11. Jumlah penduduk terus berubah setiap tahunnya. Fenomena ini disebut ....
- A. Pertumbuhan penduduk  
B. Dinamika penduduk  
C. piramida penduduk  
D. kualitas penduduk
12. Dalam melihat pertumbuhan penduduk, terdapat faktor-faktor yang memengaruhinya. Berikut ini yang *bukan* merupakan faktor yang memengaruhi pertumbuhan penduduk adalah ....
- A. Kelahiran  
B. Kematian  
C. keragaman budaya  
D. perpindahan penduduk
13. Komposisi penduduk menurut usia dan jenis kelamin pada periode tertentu dapat ditampilkan dengan grafik khusus yang disebut ....
- A. Piramida penduduk  
B. Dinamika penduduk  
C. komposisi penduduk  
D. pertumbuhan penduduk
14. Perhatikan teks berikut.
- Negara Api merupakan negara berkembang. Komposisi penduduk yang berusia di bawah 15 cukup tinggi. Hal tersebut karena angka kelahiran di Negara Api lebih besar daripada angka kematian.
- Berdasarkan teks tersebut, piramida penduduk yang menggambarkan komposisi Negara A termasuk piramida tipe ....
- A. ekspansif  
B. stasioner  
C. ruralisasi  
D. konstruktif
15. Kota Wano Kuni memiliki penduduk yang cukup padat. Pada tahun 2021, terdapat 760 bayi yang lahir dan jumlah penduduk yang meninggal 430 jiwa. Sementara itu, penduduk yang pindah bekerja ke luar negeri berjumlah 78 jiwa dan penduduk yang kembali dari luar negeri sebanyak 157 jiwa. Jumlah pertumbuhan penduduk Kota Wano Kuni tahun 2021 adalah ....
- A. 309 jiwa  
B. 409 jiwa  
C. 509 jiwa  
D. 609 jiwa



**SUMATIF TENGAH SEMESTER (STS) KELAS 7 DAN 8**  
**SMP KATOLIK "ST. YUSTINUS DE YACOBIS"**  
**TAHUN AJARAN 2023 – 2024**



Perhatikan infografis berikut.



16. Berdasarkan infografis di samping persentase luas wilayah Pulau Jawa adalah ... dari total keseluruhan luas wilayah Indonesia.  
A. 56,10 %      C. 7 %  
B. 9,78 %      D. 11,56 %
17. Berdasarkan infografis di samping ini, hitunglah berapa persen jumlah usia produktif komposisi penduduk Indonesia dari kelompok Generasi Z ....  
A. 18 %      C. 4,97 %  
B. 5,97 %      D. 6,97 %
18. Berdasarkan keterangan dalam infografis tersebut hitunglah persentase nilai perlambatan laju pertumbuhan penduduk antara SP 2000-2010 dengan SP 2010-2020 ....  
A. 0,21 %      C. 0,23 %  
B. 0,22 %      D. 0,24 %
19. Sumber data infografis di samping ini diambil atau dikutip dari ....  
A. Berita resmi      C. Sensus  
B. BPS      D. Post Gen Z

Perhatikan gambar berikut ini.



20. Pada piramida penduduk Kabupaten Sidoarjo berdasarkan hasil Sensus Penduduk Tahun 2020 tersebut manakah pernyataan yang benar dan tepat ....  
A. Jumlah penduduk kelompok usia produktif laki-laki lebih tinggi dibandingkan perempuan  
B. Jumlah penduduk kelompok usia produktif laki-laki sama dengan perempuan  
C. Jumlah penduduk kelompok usia produktif perempuan lebih tinggi dibandingkan laki-laki  
D. Jumlah penduduk kelompok usia produktif laki-laki tidak lebih tinggi dibandingkan perempuan



**SUMATIF TENGAH SEMESTER (STS) KELAS 7 DAN 8**  
**SMP KATOLIK "ST. YUSTINUS DE YACOBIS"**  
**TAHUN AJARAN 2023 – 2024**

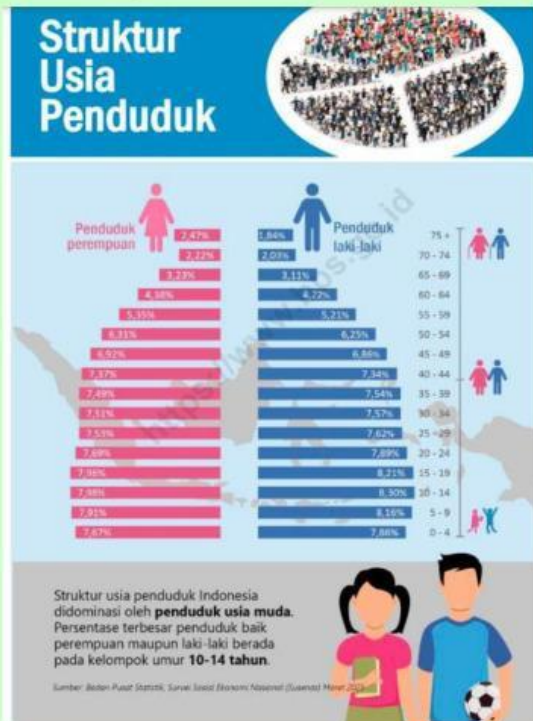


Perhatikan gambar berikut.



21. Berdasarkan gambar persentase penduduk Indonesia tahun 2023, manakah pernyataan berikut yang benar dan tepat ....
- A. Jumlah persentase penduduk perempuan di perkotaan tidak lebih tinggi dari jumlah persentase penduduk perempuan di pedesaan.
  - B. Jumlah persentase penduduk laki-laki di pedesaan lebih rendah dari jumlah persentase penduduk laki-laki di perkotaan.
  - C. Jumlah persentase penduduk perempuan di pedesaan lebih rendah dari jumlah persentase penduduk laki-laki di pedesaan.
  - D. Jumlah persentase penduduk laki-laki di perkotaan lebih tinggi dari jumlah persentase penduduk perempuan di perkotaan.

Perhatikan gambar berikut.



22. Berdasarkan gambar struktur usia penduduk Indonesia pada tahun 2023 yang dikutip dari badan Pusat Statistik (BPS) di samping, tipe piramida yang cocok menggambarkan hal tersebut adalah ....
- A. ekspansif
  - B. stasioner
  - C. konstruktif
  - D. deduktif
23. Berdasarkan gambar persentase penduduk Indonesia tahun 2023, manakah pernyataan berikut yang benar dan tepat ....
- A. Persentase terbesar penduduk baik perempuan maupun laki-laki berada pada kelompok umur 15-19 tahun
  - B. Persentase terkecil penduduk laki-laki berada pada kelompok umur 70-74 tahun
  - C. Persentase terbesar penduduk perempuan berada pada kelompok umur 10-14 tahun
  - D. Persentase terbesar penduduk laki-laki berada pada kelompok umur 15-19 tahun



**SUMATIF TENGAH SEMESTER (STS) KELAS 7 DAN 8**  
**SMP KATOLIK "ST. YUSTINUS DE YACOBIS"**  
**TAHUN AJARAN 2023 – 2024**



Perhatikan gambar berikut.



24. Berdasarkan gambar persentase penduduk usia produktif Indonesia tahun 2023, manakah pernyataan berikut yang benar dan tepat ....
- A. Jumlah persentase usia produktif penduduk perempuan Indonesia lebih tinggi dari jumlah persentase usia produktif penduduk laki-laki
  - B. 7,45 % adalah jumlah persentase penduduk belum produktif
  - C. Persentase usia belum produktif penduduk laki-laki Indonesia lebih rendah dari persentase usia belum produktif penduduk perempuan
  - D. 4 dari 10 penduduk Indonesia merupakan penduduk usia non produktif



SUMATIF TENGAH SEMESTER (STS) KELAS 7 DAN 8  
SMP KATOLIK "ST. YUSTINUS DE YACOBIS"  
TAHUN AJARAN 2023 – 2024



Drag and drop!

<p>25</p> <p>Salah satu faktor penghambat mobilitas sosial</p>	<p>26</p> <p>Perpindahan penduduk kembali ke negara asalnya</p>	<p>27</p> <p>Piramida berbentuk guci terbalik menggambarkan bonus demografis</p>
<p>28</p> <p>Perpindahan penduduk dari kota ke desa</p>	<p>29</p> <p>Generasi yang lahir 1997-2012. Perkiraan usia saat ini 8-23 tahun</p>	<p>30</p> <p>Salah satu saluran mobilitas sosial</p>
<p>Gen Z</p>	<p>Ruralisasi</p>	<p>Kemiskinan</p>
<p>Perkawinan</p>	<p>Konstruktif</p>	<p>Remigrasi</p>