



1. Suma

a)  dieces unos

2 6

+ 6

---

<input type="text"/>	<input type="text"/>
----------------------	----------------------

c)  dieces unos

7

+ 2 5

---

<input type="text"/>	<input type="text"/>
----------------------	----------------------

e)  dieces unos

1 8

+ 5

---

<input type="text"/>	<input type="text"/>
----------------------	----------------------

g)  dieces unos

6

+ 1 4

---

<input type="text"/>	<input type="text"/>
----------------------	----------------------

b)  dieces unos

2

+ 3 9

---

<input type="text"/>	<input type="text"/>
----------------------	----------------------

d)  dieces unos

2 4

+ 9

---

<input type="text"/>	<input type="text"/>
----------------------	----------------------

f)  dieces unos

1

+ 1 9

---

<input type="text"/>	<input type="text"/>
----------------------	----------------------

h)  dieces unos

2 5


+ 9

---


<input type="text"/>	<input type="text"/>
----------------------	----------------------



2. Suma


a)  dieces      unos

	1	3
+	1	8
<hr/>		
	<input type="text"/>	<input type="text"/>


b)  dieces      unos

	1	3
+	1	9
<hr/>		
	<input type="text"/>	<input type="text"/>




c)  dieces      unos


	1	3
+	1	7
<hr/>		
	<input type="text"/>	<input type="text"/>

d)  dieces      unos


	1	9
+		4
<hr/>		
	<input type="text"/>	<input type="text"/>

e)  dieces      unos


	1	7
+	1	7
<hr/>		
	<input type="text"/>	<input type="text"/>

f)  dieces      unos

		2
+	2	9
<hr/>		
	<input type="text"/>	<input type="text"/>

g)  dieces      unos

	1	2
+	1	8
<hr/>		
	<input type="text"/>	<input type="text"/>

h)  dieces      unos

	1	4
+	1	7
<hr/>		
	<input type="text"/>	<input type="text"/>

