

Jawablah pertanyaan di bawah ini dengan tepat !

1



Gambar di samping menunjukkan cuaca

2



Gambar di samping menunjukkan kegiatan yang dilakukan saat cuaca

3

Radit memakai topi saat cuaca

4

Reboisasi atau menanam pohon dilakukan saat musim hujan untuk mencegah terjadinya

5



Gambar di samping cocok digunakan saat cuaca



CARILAH 5 KATA

YANG BERHUBUNGAN
DENGAN KEBERAGAMAN

C	S	B	G	I	C	D	O	V	E	R	R
L	R	L	L	N	H	S	O	G	A	U	E
P	U	O	C	D	L	U	B	R	A	T	O
A	R	C	A	O	O	N	K	E	T	I	G
P	P	A	K	N	L	D	B	E	R	C	P
A	C	I	K	E	C	A	K	N	D	K	O
T	R	P	M	S	T	H	U	G	S	E	N
R	B	A	R	I	C	K	M	O	R	C	O
I	D	R	I	A	S	E	E	L	S	E	R
C	I	A	F	R	A	I	N	B	O	W	O
K	R	D	T	C	F	O	V	C	R	K	G
D	A	Y	A	K	A	M	R	O	C	K	O

INDONESIA

KECAK


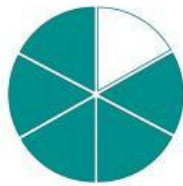
DAYAK

REOG PONOROGO

SUNDA

Tentukan tanda pembandingan untuk soal nomer 1 dan 2!

1




$$\frac{1}{8}$$

$$\frac{1}{4}$$

2

$$\frac{3}{5}$$



$$\frac{2}{5}$$

3

$$\frac{4}{10}$$



$$\frac{5}{10}$$




4

$$\frac{9}{12}$$





$$\frac{3}{12}$$



5

Ibu membawa melon untuk bekal di jalan. Melon dipotong menjadi 8 bagian. Dayu makan $\frac{2}{8}$ bagian melon. ayah makan $\frac{3}{8}$ bagian melon. Berapa jumlah melon yang telah dimakan ayah dan Dayu?



Berilah tanda silang (x) huruf a, b, atau c pada jawaban yang benar



1 Dita menyanyikan lagu tentang cuaca. Lagu yang seharusnya dinyanyikan Dita adalah...

- a. balonku b. Naik Delman c. Tik tik Bunyi hujan
- 

2 Panjang pendek dan tinggi rendahnya nada disebut...

- a. Tempo b. Irama c. Lirik



3 Kumpulan titik yang berangkai disebut...

- a. Warna b. Garis c. Bidang
- 

4 Jarum digunakan untuk ...

- a. menjahit b. Memotong c. Menggunting

5



Poter di atas memberikan informasi tentang....

- a. Manfaat membaca
b. Melestarikan Lingkungan
c. Iklan makanan
- 