

LKPD

LEMBAR KERJA PESERTA DIDIK

Pancaindra (Indera Pembau)

Fase B/Kelas IV



Disusun oleh : Luqna Ikhtiara Fadianti

Nama :

No :

Pentunjuk Pengerjaan!

- Berdoalah terlebih dahulu sebelum memulai
- Isi identitas yang sudah disediakan
- Kerjakan LKPD dengan teliti dan tepat

Simak terlebih dahulu video pembelajaran berikut sebagai penguatan!





Setelah menonton video pembelajaran!

Berikut silahkan kerjakan soal pilihan ganda berikut ini dengan klik jawaban a, b, c, dan d dengan teliti dan tepat!

1. Perhatikan fungsi hidung di bawah ini!

- 1) Penvaring udara dan mencium bau
- 2) Pemberi rasa pada makanan
- 3) Pembersih saluran pernapasan
- 4) Merasakan berbagai makanan

Dari pernyataan di atas cara untuk memelihara dan menjaga kesehatan lidah yang kurang tepat ditunjukkan pada nomor

- a. 1
- b. 2
- c. 3
- d. 4


2. Perhatikan bagian-bagian hidung di bawah ini!

- 1) Bulu hidung
- 2) Conchae
- 3) Nasal Vestibule
- 4) Septum hidung

Dari bagian-bagian hidung di atas yang terdapat dua lubang pada hidung yang dipisahkan oleh nomor

- a. 1
- b. 2
- c. 3
- d. 4

3. Perhatikan bagian-bagian hidung di bawah ini!

- 1) Tulang rawan hidung
 - 2) Lubang Hidung
 - 3) Saluran hidung
- 

4) Selaput Lendir

Dari bagian-bagian hidung di atas yang strukturnya kuat yang termasuk elastis pembentuk bagian ujung hidung ditunjukkan pada nomor

- a. 1
- b. 2
- c. 3
- d. 4

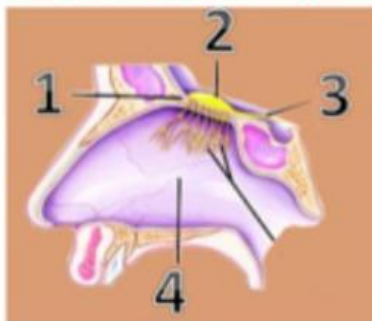
4. Perhatikan bagian-bagian hidung di bawah ini!

- 1) Tulang rawan hidung
- 2) Lubang Hidung
- 3) Saluran hidung
- 4) Selaput Lendir

Dari bagian-bagian hidung di atas yang berperan untuk membuahkan mukus (ingus) supaya hidung bisa terlindung dari berbagai macam kotoran dan bakteri ditunjukkan pada nomor

- a. 1
- b. 2
- c. 3
- d. 4

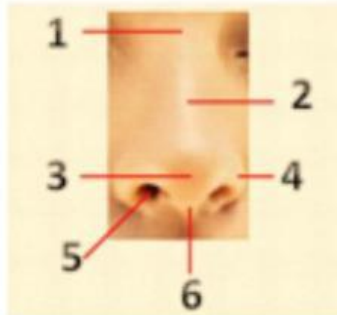
5. Perhatikan gambar di bawah ini!



Dari gambar bagian-bagian hidung di atas yang menunjukkan saraf pembau ke otak terdapat pada nomor

- a. 1
- b. 2
- c. 3
- d. 4

6. Perhatikan gambar di bawah ini!



Dari gambar di atas yang menunjukkan rangkai hidung, puncak hidung, dan sayap hidung terdapat pada nomor....

- a. 1, 2, 3
 - b. 1, 3, 4
 - c. 1, 3, 5
 - d. 1, 4, 6
7. Perhatikan bagian-bagian hidung di bawah ini!


- 1) Saraf Olfaktori
- 2) Saraf Okulomotor
- 3) Saraf Abdusen
- 4) Saraf Trigemini

Dari bagian-bagian hidung di atas saraf yang menerima rangsang yang berupa bau atau bahan yang terhirup bersama bersama udara kemudian mengirim informasi bau itu dalam bentuk impuls ditunjukkan pada nomor

- a. 1
 - b. 2
 - c. 3
 - d. 4
8. Perhatikan bagian sinus yang dimiliki manusia di bawah ini!

- 1) Sinus maksilaris
- 2) Sinus frontalis
- 3) Sinus etmoidalis
- 4) Sinus etmoidalis

Dari bagian sinus yang dimiliki manusia, sinus yang terletak diantara mata ditunjukkan pada nomor

- 
- a. 1
b. 2
c. 3
d. 4
9. Tiara mengalami gangguan pada indera pembauanya, kondisi yang dialami Tiara yaitu hilang atau menurunnya penciumannya disebabkan adanya gangguan pada saluran hidungnya. Kondisi yang dialami Tiara adalah gangguan pada indera pembau yaitu
- a. Glositis
b. Salesma
c. Anosmia
d. Polip
10. Abdi mengalami gangguan pada indera pembauanya, kondisi yang dialami Abdi yaitu batuk, pilek, sakit leher dan kadang-kadang panas. Kondisi yang dialami Abdi adalah gangguan pada indera pembau yaitu
- a. Glositis
b. Salesma
c. Anosmia
d. Influenza

SELAMAT MENGERJAKAN!!