



LKPD

Lembar Kerja Peserta Didik

TEMA : BANGUN RUANG

Kelas 5 Geometri



Disusun Oleh : Diki Hamdani



TUJUAN PEMBELAJARAN

Melalui lembar kerja ini kalian dapat:

1. Mengklasifikasikan bangun ruang yang sudah dipelajari
2. Menganalisis berapa banyak setiap sisi, rusuk dan titik sudut setiap bangun ruang

PETUNJUK Pengerjaan

1. Peserta didik menyiapkan alat tulis
2. Peserta didik menuliskan nama dan kelas pada tempat yang sudah disediakan
3. Peserta didik mengerjakan permasalahan yang sudah disajikan secara individu
3. Tanyakan kepada guru jika ada yang kurang dimengerti



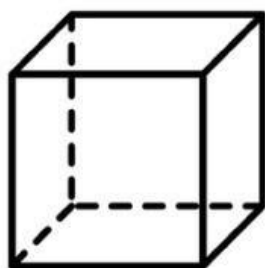
Nama : _____

Kelas : _____

Bangun Ruang

Hitunglah banyak rusuk, sisi, dan titik sudut bangun ruang berikut!

1.

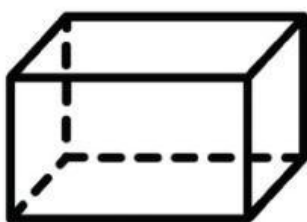


Banyak Sisi :

Banyak Rusuk :

Banyak Titik Sudut :

2.



Banyak Sisi :

Banyak Rusuk :

Banyak Titik Sudut :

3.




Banyak Sisi :

Banyak Rusuk :

Banyak Titik Sudut :

4.



Banyak Sisi :

Banyak Rusuk :

Banyak Titik Sudut :

5.



Banyak Sisi :

Banyak Rusuk :

Banyak Titik Sudut :