



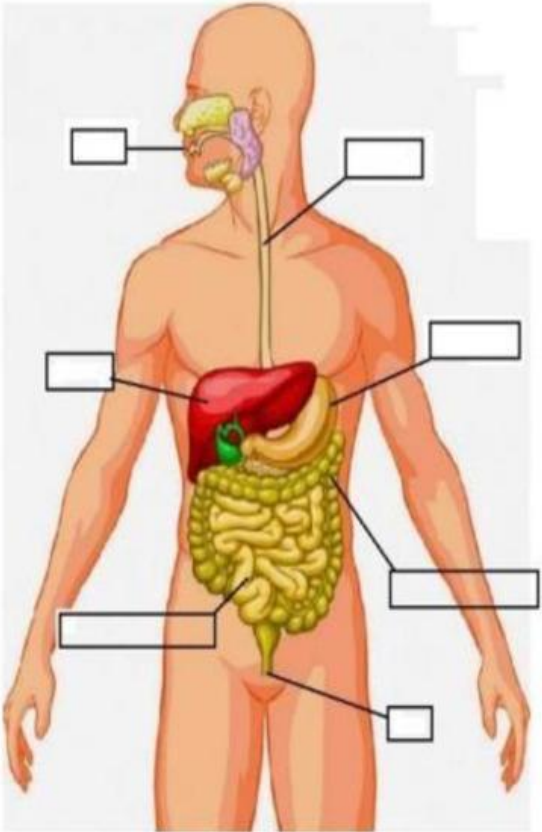
INSTITUCIÓN EDUCATIVA FISCAL
"JOAQUÍN SÁNCHEZ DE ORELLANA"

Manuel Burbano 1117 Y Joaquín Sánchez Telf. 2390-144
Puenbo - Ecuador

AÑO LECTIVO:
2023-2024

EVALUACIÓN DEL SEGUNDO TRIMESTRE

NOMBRE DEL ESTUDIANTE:					
GRADO:	Quinto	PARALELO:	A,B,C	JORNADA:	Vespertina
ASIGNATURA:	Ciencias Naturales		FECHA:		
DOCENTE:			CALIFICACIÓN:		

Nº	Planteamiento
1	<p>SUBRAYE LOS SISTEMAS DE NUESTRO CUERPO. (1P)</p> <p>a) Aparato reproductor- cabeza- sistema nervioso</p> <p>b) Aparato circulatorio- glándulas salivales- aparato digestivo</p> <p>c) Aparato respiratorio- aparato digestivo, aparato circulatorio- aparato reproductor- sistema muscular y óseo</p>
2	<p>COLOQUE CORRECTAMENTE LOS ÓRGANOS DEL SISTEMA DIGESTIVO. (7P)</p> <div><div><p>BOCA</p><p>ESÓFAGO</p><p>INTESTINO DELGADO</p><p>HÍGADO</p><p>ESTÓMAGO</p><p>INTESTINO GRUESO</p><p>ANO</p></div></div>

3

SUBRAYA LO CORRECTO (1P)

EL RECORRIDO DE LOS ALIMENTO:

a) Boca- esófago- estomago- intestino delgado- intestino grueso

b) Cabeza- páncreas – vesícula biliar

c) Faringe- tráquea- tubo digestivo

4

ENCIERRE EL LITERAL CORRECTO (1P)

¿CUÁLES SON LAS FUNCIONES DEL APARATO DIGESTIVO?

a) Bombear sangre a los pulmones

b) Transporte- secreción- absorción

c) Estómago, corazón aurículas

5

UNA CON LÍNEAS LA RESPUESTA CORRECTA: (4P)

Beneficios de la actividad física en la pubertad

Consecuencias del sedentarismo

Menos estrés

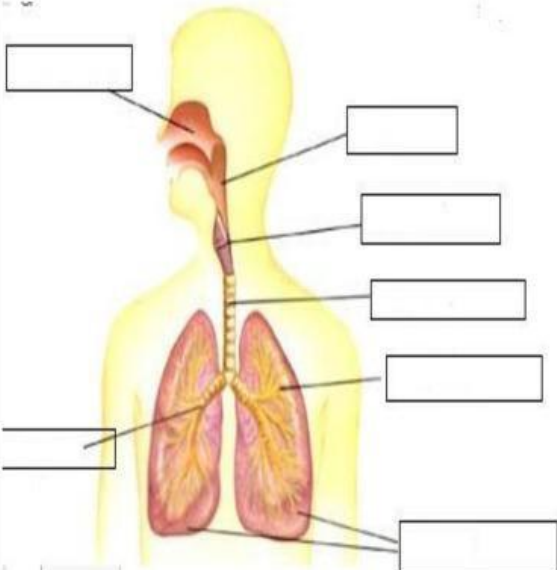
Aumento del colesterol

Sueño reparador

Problemas de cuello y espalda

6

COLOQUE CORRECTAMENTE LOS ÓRGANOS DEL SISTEMA RESPIRATORIO. (7P)



Fosas nasales

pulmones


laringe

faringe

tráquea

bronquios

alveolos pulmonares



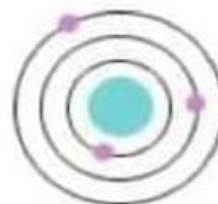
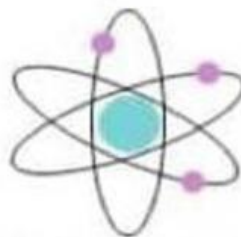
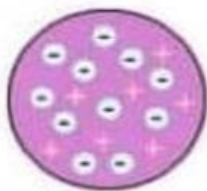
LIVEWORKSHEETS

7 SUBRAYA LO CORRECTO (1P)

¿QUE ES LA MATERIA?

- a) Es lo que está solo en nuestro cuerpo.
- b) Es la energía eléctrica y eólica.
- c) Está formada por diminutas partículas llamadas átomos.

8 UNIR CON LINEAS SEGUN CORRESPONDA (4P)



RUTERFOR

DALTON

BOHR

THOMSON

TOTAL 26 PUNTOS