

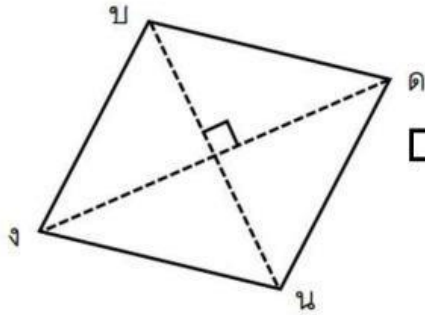


# ทดสอบความรู้

## เรื่อง พื้นที่ของรูปสามเหลี่ยม และรูปสี่เหลี่ยม

ให้นักเรียนเติมพื้นที่ของรูปสามเหลี่ยมและรูปสี่เหลี่ยมที่กำหนดให้

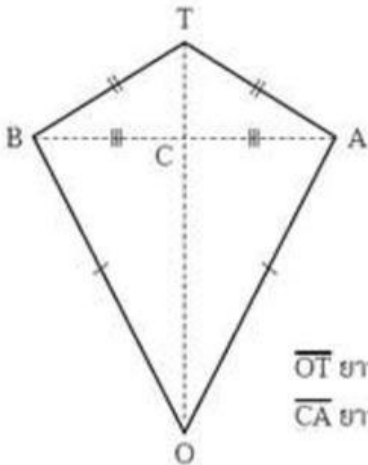
1.



งบคน มีพื้นที่ .....ตารางวา

$\overline{ปน}$  ยาว 12 ว  
 $\overline{ดง}$  ยาว 9 ว

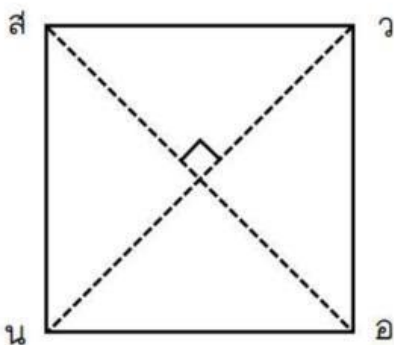
2.



BOAT มีพื้นที่..... ตารางเซนติเมตร

$\overline{OT}$  ยาว 6 ซม.  
 $\overline{CA}$  ยาว 2.3 ซม.

3.



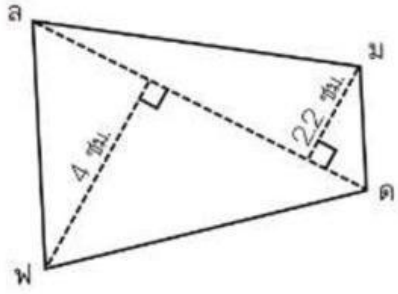
สวอน มีพื้นที่.....ตารางเซนติเมตร

$\overline{สอ}$  และ  $\overline{วน}$  ยาว 4 เซนติเมตร





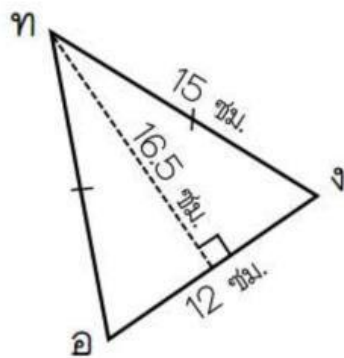
4.



ลัด ยาว 7 เซนติเมตร

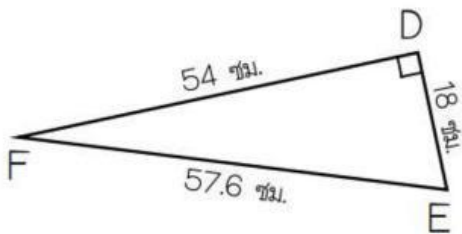
□ดพลม มีพื้นที่ ..... ตารางเซนติเมตร

5.



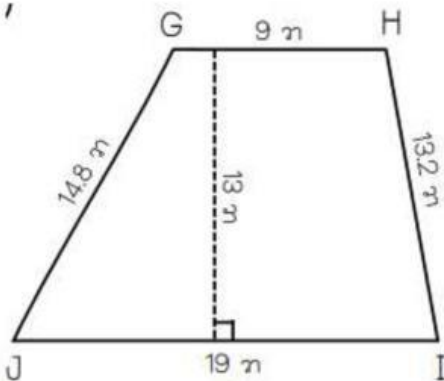
△ทอง มีพื้นที่ ..... ตารางเซนติเมตร

6.



△DEF มีพื้นที่ ..... ตารางเซนติเมตร

7.

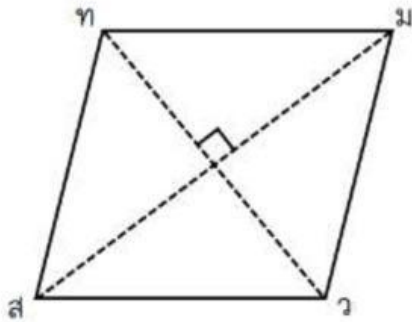


□GHU มีพื้นที่ ..... ตารางวา





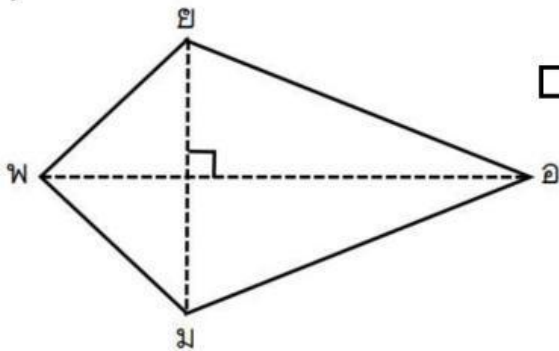
8.



$\overline{ทว}$  ยาว 14 เมตร  
 $\overline{สม}$  ยาว 18 เมตร

ทมวส มีพื้นที่ ..... ตารางเมตร

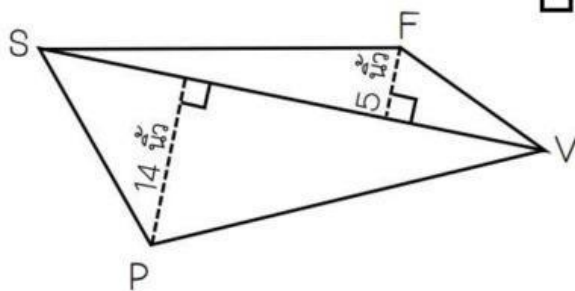
9.



$\overline{ยม}$  ยาว 5 นิ้ว  
 $\overline{พอ}$  ยาว 9 นิ้ว

พยอม มีพื้นที่ ..... ตารางนิ้ว

10.



$\overline{SV}$  ยาว 38 นิ้ว

FVPS มีพื้นที่ ..... ตารางนิ้ว

