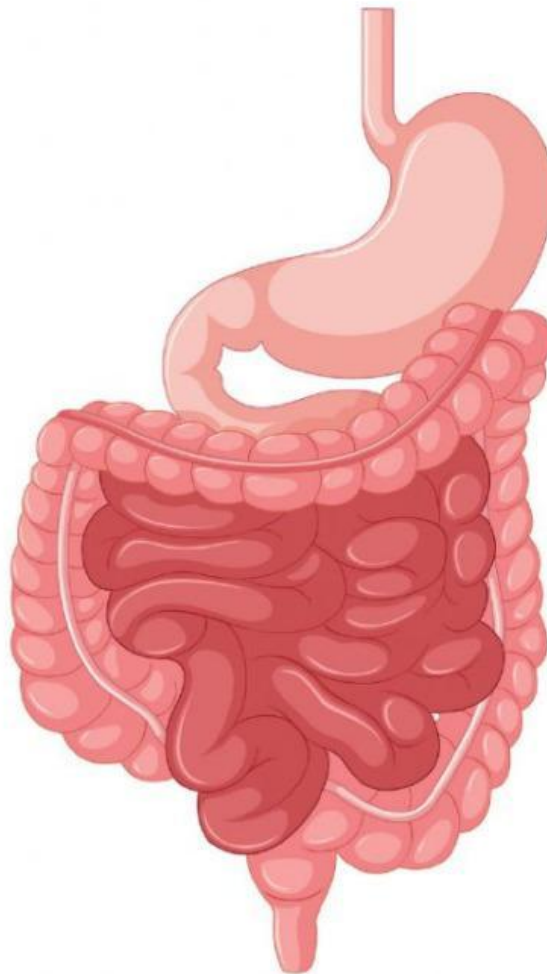


Lembar Kerja Peserta Didik (LKPD)

SISTEM PENCERNAAN



Nama: _____ Kelas: _____

Kegiatan 1

ORGAN PENCERNAAN

Tujuan:

Melalui kegiatan mengamati video, siswa diharapkan dapat memasang nama dan gambar organ pencernaan setidaknya 4 pasangan dengan tepat.

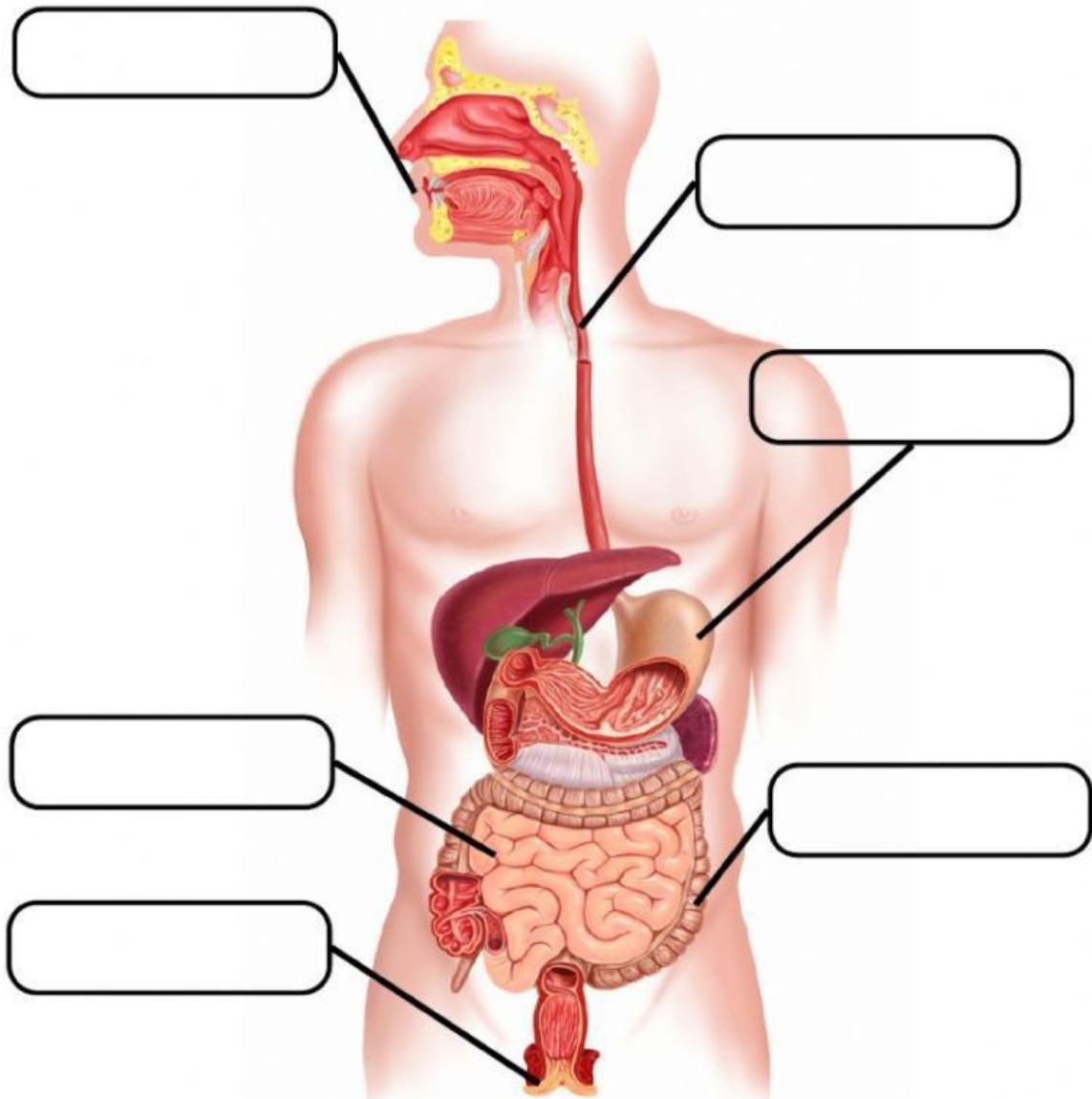
Petunjuk pengerjaan:

1. Klik video pembelajaran yang disediakan di kotak di bawah ini!
2. Amati dan cermati informasi dari video tersebut untuk mengerjakan **Kegiatan 1** dan **Kegiatan 2**.
3. Kemudian, pasang nama dan gambar organ pencernaan yang sesuai pada gambar dengan meletakkan nama organ di kotak gambar yang sesuai.

VIDEO PEMBELAJARAN



Pasangkan nama organ dan gambar organ pencernaan yang sesuai!



Lambung

Kerongkongan

Usus Dua Belas Jari

Mulut

Usus halus

Anus

Kegiatan 2

FUNGSI ORGAN PENCERNAAN


Tujuan:

Melalui kegiatan mengamati video, siswa diharapkan dapat menentukan fungsi organ pencernaan yang sesuai setidaknya 3 organ dengan tepat.

Petunjuk pengerjaan:

1. Amati dan cermati informasi dari video sebelumnya. Video dapat dilihat juga di bawah ini.
2. Kemudian, tentukan nama organ yang sesuai dengan pernyataan fungsi organ pada soal dengan klik kotak jawaban kemudian pilih nama organ yang sesuai!

VIDEO PEMBELAJARAN



Pilihlah nama organ yang sesuai dengan fungsi organ pencernaannya!

Fungsi organ

Nama organ

Tempat masuknya makanan.

Menghubungkan rongga mulut dengan lambung.

Penyerapan nutrisi makanan.

Tempat proses pencernaan makanan secara kimiawi.

Lubang tempat keluarnya feses dari dalam tubuh.

Penyerapan air, vitamin, dan mineral dari sisa makanan yang telah diserap oleh usus halus.

Kegiatan 3

Membuat Argumentasi dan Kesimpulan

Menurut pendapat kelompok kalian, bagaimanakah urutan proses pencernaan manusia yang benar? Tuliskan hasilnya dibawah ini.