

GRADO CUARTO
PON A PRUEBA TUS SABERES

1. Completa la siguiente oración

Unicelulares

Nutrición

Reproducción

Relación

Microscopio

Célula

La _____ es la unidad más pequeña que tienen todos los seres vivos.

La célula realiza 3 funciones importantes de _____,
_____, _____

2. Que instrumento se necesita para observar la célula?

3. ¿Qué nombre reciben los seres formados por una célula?

2. Observa la siguiente imagen y une según corresponda

Membrana Celular

Núcleo

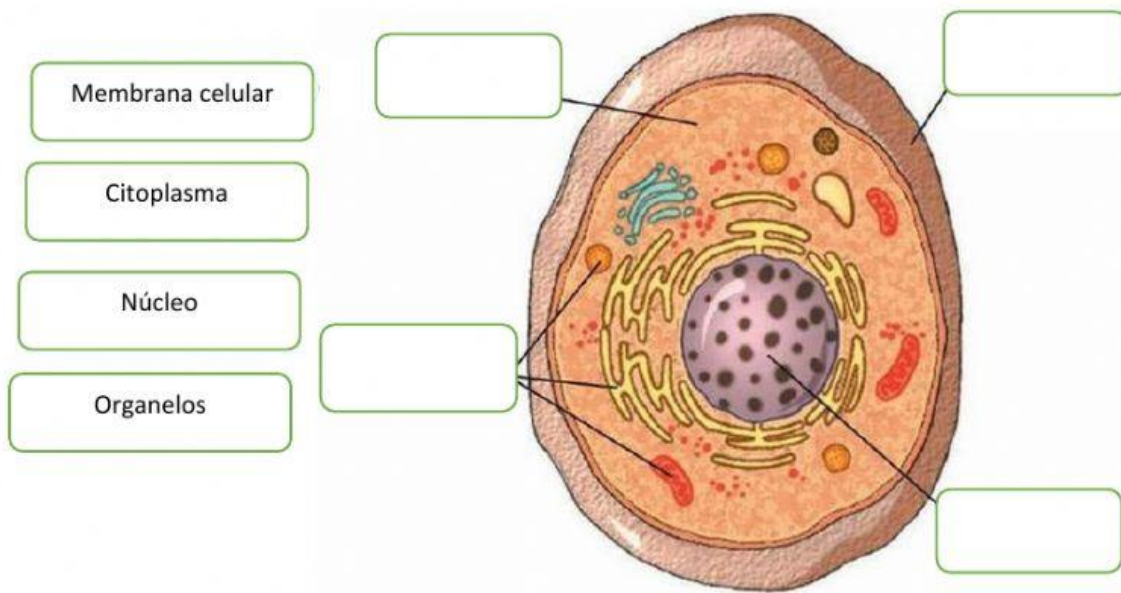
Citoplasma

Líquido gelatinoso que rodea al núcleo, contiene los organelos y le da soporte a la célula

Capa que envuelve la célula, su función es protegerla, seleccionar los nutrientes que entran y salen de ella

Tiene forma esférica y se encarga de dirigir las funciones de la célula y se de algunos procesos importantes como la nutrición.

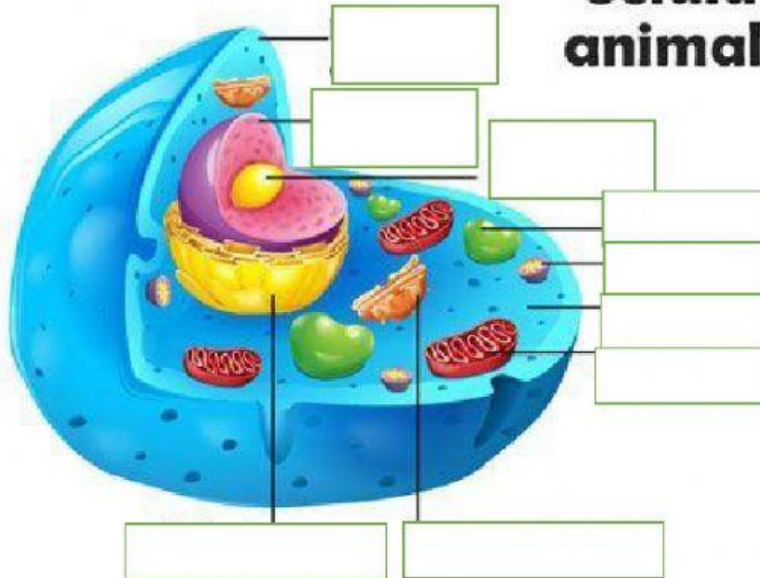
3. Completa



La célula es

Procariota
Eucariota
Unicelular
Pluricelular

Célula animal



Membrana Celular

Núcleo

Nucléolo

Retículo Endoplasmático

Lisosomas

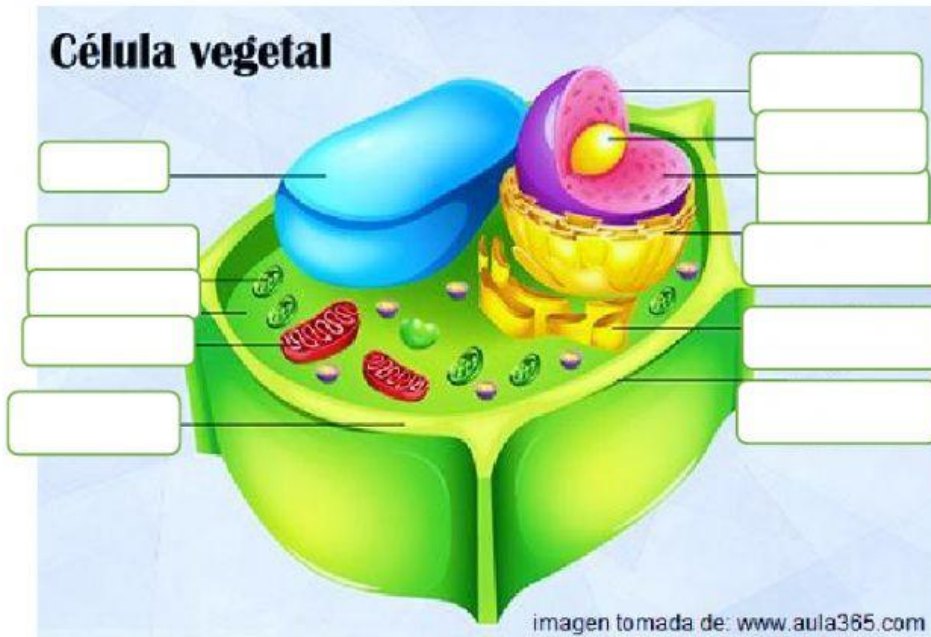
Mitocondria

Vacuola

Aparato de Golgi

Citoplasma

Célula vegetal



Nucléolo

Membrana Celular

Núcleo

Retículo Endoplasmático

Pared Celular

Cubierta Nuclear

Mitocondria

Vacuola

Cloroplastos

Aparato de Golgi

Citoplasma

imagen tomada de: www.aula365.com

5 Lee atentamente y ubica según corresponda

Célula Animal	Célula Vegetal

No posee Pared Celular

No posee Cloroplastos

Pared Celular

Vacuola Pequeña

Vacuola Grande

Cloroplastos