
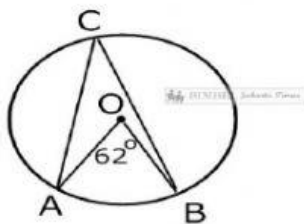


LKPD
LINGKARAN



Kerjakan soal di bawah ini!

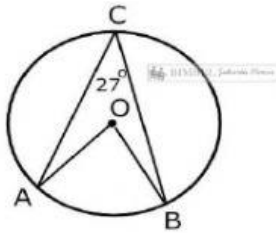
1. Perhatikan gambar berikut !



Besar $\angle ACB$ adalah ...

- A. 27°
- B. 31°
- C. 118°
- D. 124°

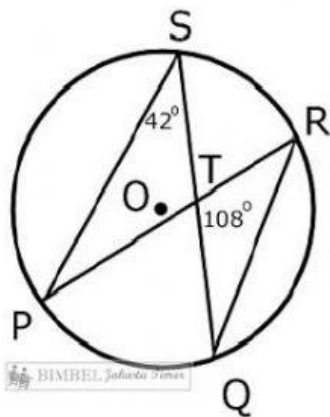
2. Perhatikan gambar berikut !



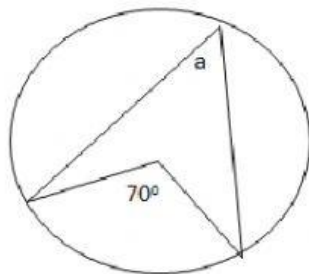
Besar $\angle AOB$ adalahh ...

- A. 54°
- B. 63°
- C. 117°
- D. 153°

3. Perhatikan gambar berikut



Besar $\angle SQR$ adalah



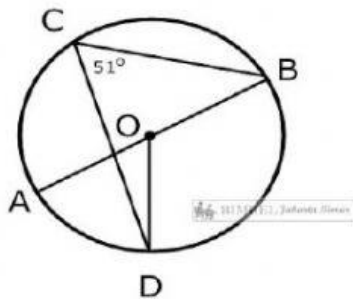
Sudut a dinamakan

4. Buatlah garis ke jawaban yang benar

Suatu kue berbentuk lingkaran padat dengan jari-jari 14 cm. Kue tersebut dibagi 6 bagian berbentuk juring yang sama bentuk. Ukuran sudut pusat masing-masing potongan adalah ...

78°

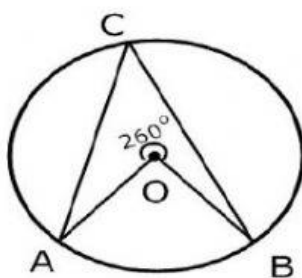
Perhatikan gambar di bawah ini!



Jika AB adalah diameter lingkaran, maka besar $\angle AOD$ adalah... °

50°

Perhatikan gambar di bawah ini!



Jika besara sudut refleksi $\angle AOB = 260^\circ$, maka besar $\angle ACB$

60°

5. Tariklah jawaban yang sesuai dengan gambar besar sudut pusat $\angle AOB$

Besar $\angle AOB$

Pilihan Jawaban

