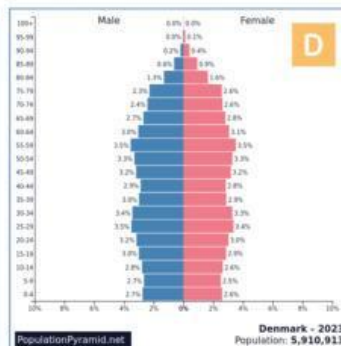
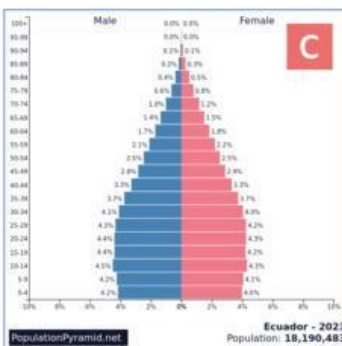
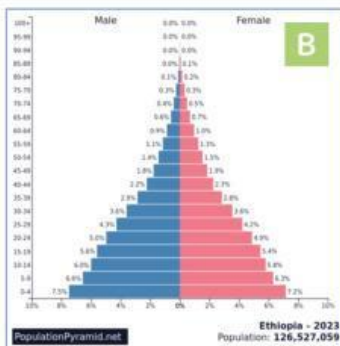
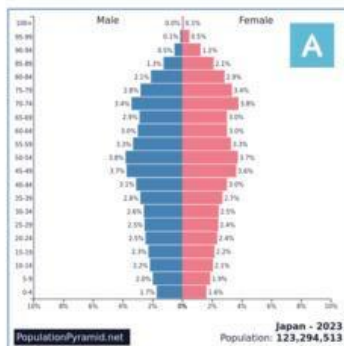


Unidade 3- População e Povoamento

ESTRUTURA ETÁRIA



Observa as pirâmides etárias que representam diferentes estruturas etárias no Mundo.



Fonte: PopulationPyramid.net



Associa a pirâmide etária (coluna 1) ao respetivo tipo de estrutura etária (coluna 2).

Coluna 1

Pirâmide Etária A

Pirâmide Etária B

Pirâmide Etária C

Pirâmide Etária D

Coluna 2

Estrutura etária estacionária ou de população adulta

Estrutura etária rejuvenescente

Estrutura etária crescente ou de população jovem

Estrutura etária decrescente ou de população idosa



Seleciona as seis opções que se relacionam com as características da estrutura etária representada na pirâmide etária B.

Predomínio de população adulta

Crescimento demográfico negativo

Taxa de natalidade elevada

Topo estreito e base larga

Elevada esperança média de vida

Predomínio de população jovem

Taxa de natalidade reduzida

Crescimento demográfico baixo

Típica de países desenvolvidos

Reduzida esperança média de vida

Topo largo e base estreita

Crescimento demográfico positivo

Predomínio de população idosa

Rejuvenescimento da população

Típica de países em desenvolvimento



Assinala os principais desafios de uma estrutura etária idêntica à representada pela pirâmide etária A.

Aumento do trabalho infantil e abandono escolar.

Carências alimentares, subnutrição e fome.

Encerramento de escolas.

Despesas com a saúde e serviços de geriatria.

Redução do dinamismo económico.

Elevado desemprego nos jovens.

Sobrecarga com pensões e reformas.

Crescimento de bairros de lata e degradados.

Nome: _____



Turma: _____ N.º: _____



Data: ____/____/____



Bom Trabalho!