



# EL RITMO

Completa las siguientes equivalencias con la figura que corresponda:



$\text{c} + \text{c} = \square$      $\text{e} + \text{e} = \square$      $\text{f} + \text{f} = \square$      $\text{e} + \text{f} = \square$   
 $\text{f} + \text{e} = \square$      $\text{e} + \text{e} = \square$      $\text{e} = \square$      $\text{f} + \text{e} = \square$



Pon las líneas divisorias:

Completa los compases con las figuras que sean necesarias: I

Rellena los compases con los silencios que sean necesarios: