

Año: Lectivo 2023 -2024
Ing. Karen Calonge Montaña

Evaluación Supletorio – Computación

10^{mo} año básico

Paralelo: "B"

Apellidos y Nombre: _____ Fecha: _____

1. Uno con líneas los siguientes formatos de fuente con su respectivo nombre (1 pt)

N

Cursiva

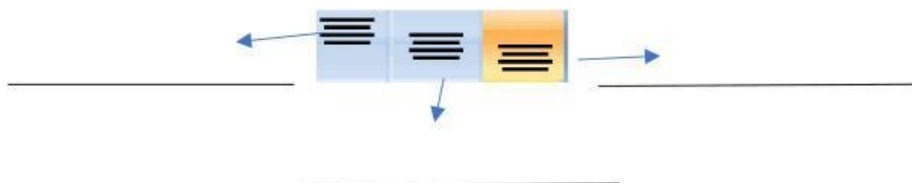
K

subrayado

S

Negrita

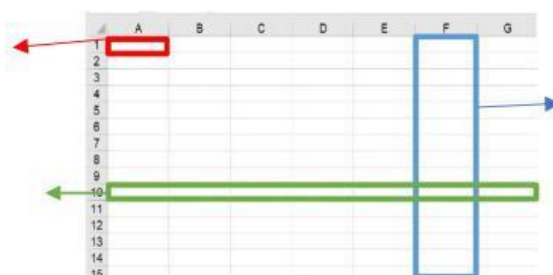
2. Escribo los nombres a los siguientes botones de alineación de Excel. (2 pts.)



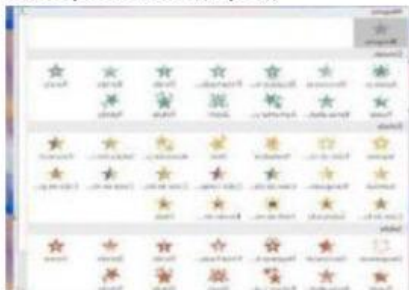
3. Marco con una X la respuesta correcta ¿Qué es Excel? (1 pt)

- a) Un Documento de texto
- b) Una Hoja de calculo
- c) Un Procesador de texto
- d) Libro de calculo

4. En la siguiente imagen reconozco las partes de una tabla de Excel y escribo sus nombres (2 pt)



5. Observo las imágenes y selecciono el nombre correcto del Menú entre las opciones. (2pts)



- a) INSERTAR
b) DISEÑO
c) ANIMACION



- a) TRANSICION
b) VISTA
c) REVISAR



- a) INICIO
b) INSERTAR
c) DISEÑO

6. Observo los iconos de las siguientes herramientas y selecciono el nombre de cada uno. (2pts)



- a) párrafo
b) color de fuente
c) dibujo



- a) numeración
b) portapapeles
c) fuente



- a) párrafo
b) fuente
c) copiar



- a) párrafo
b) diapositivas
c) fuente

ELABORADO POR: DOCENTE	REVISADO POR: COORDINACIÓN PEDAGÓGICA	APROBADO POR: DIRECTOR
Ing. Karen Calonge M.	Lic. Luis Costabalo	Lic. Jessica Cevallos Chila
Firma:	Firma:	Firma:
Fecha:	Fecha:	Fecha: