



Los seres vivos cambian

Nombre:

Grado:

Fecha:

- 1 Enumera del 1 al 4 los cambios que ocurren en el ciclo de vida del siguiente ser vivo.



- 2 Numera la secuencia y responde las preguntas.

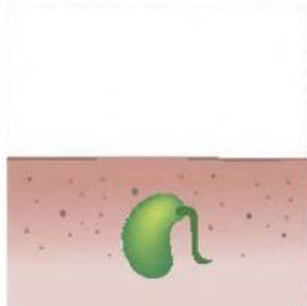


- * ¿Quién logro una mayor altura?


- * Escribe tres cambios que haya tenido cada ser vivo.

3 Relaciona cada etapa con el número de la imagen correspondiente.

- ☐ La planta sigue creciendo y del tallo nacen más hojas.
- ☐ De la semilla surgen la raíz y unas pequeñas hojas.
- ☐ La semilla que esta en el suelo húmedo y comienza a germinar.
- ☐ Luego aparece el tallo que crece hacia arriba.



1



2



3



4

4 Ordena el ciclo de vida de un pez. Para ello, numera de 1 a 4, según corresponda.



* El pez adulto pone cientos de huevos en la arena del fondo del río.



* Al mes, los huevos se abren y nacen los alevinos.



* A los dos meses el alevino tienen la forma de un pez joven, con las aletas y la cola bien desarrolladas.



* Después de un tiempo, el pez es adulto y puede reproducirse.

5 Dibuja flechas en la dirección correcta para completar el ciclo de vida de la rana.



Huevos



Ranita



Renacuajo



Rana adulta