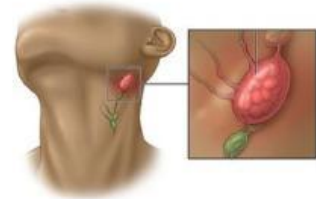
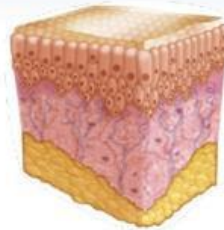
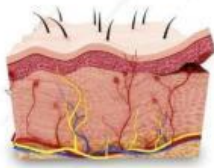


Bio Activity (Science & Technology)

1. Perhatikan gambar struktur organ di bawah ini!



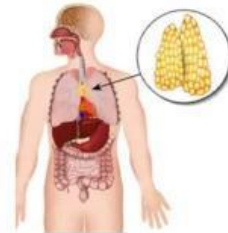
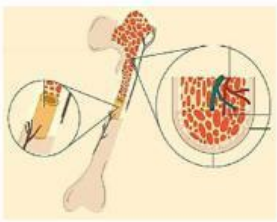
Struktur organ di atas adalah organ yang berperan dalam sistem pertahanan tubuh, tetapi tidak semua organ yang dapat menghasilkan antibodi. Tentukan organ yang dapat menghasilkan antibodi dan organ yang tidak menghasilkan antibodi dengan melengkapi tabel berikut ini!

a. Struktur organ yang menghasilkan antibodi

Nama & Gambar	Letak	Komposisi	Fungsi

Materi Sistem Pertahanan Tubuh

Nama & Gambar	Letak	Komposisi	Fungsi



b. Struktur organ yang tidak menghasilkan antibodi

Nama & Gambar	Letak	Komposisi	Fungsi

Materi Sistem Pertahanan Tubuh

Nama & Gambar	Letak	Komposisi	Fungsi