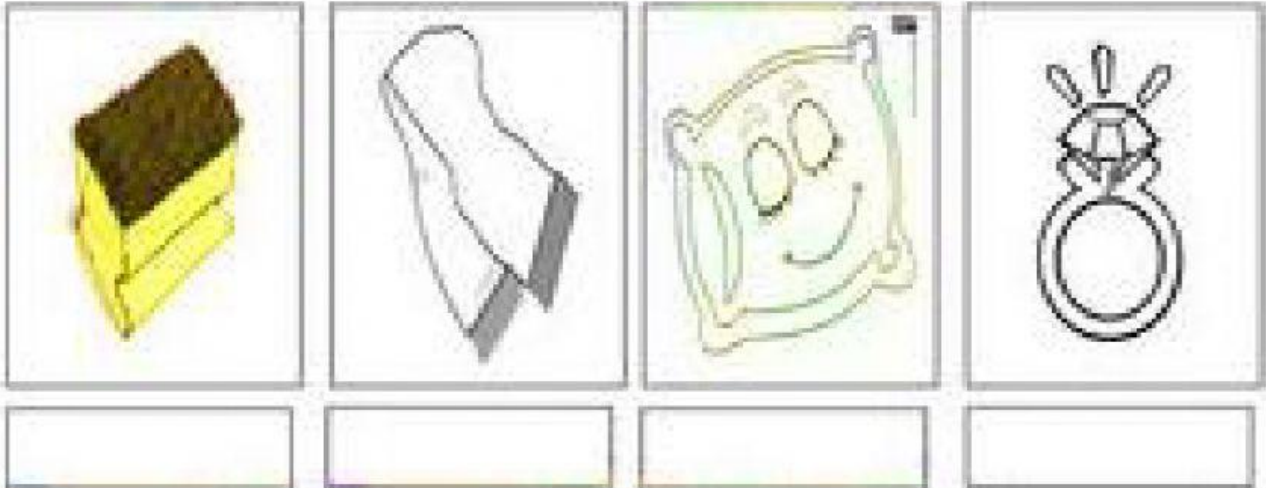
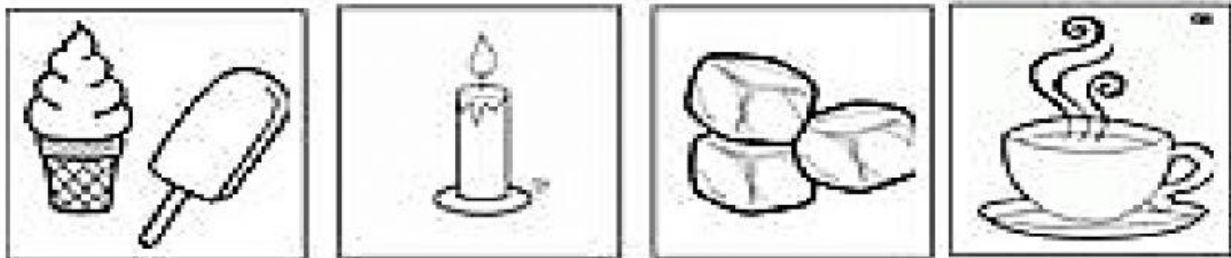
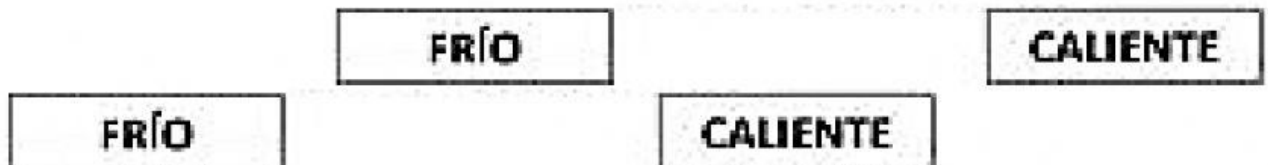


# TEMA: EL SENTIDO DEL TACTO

1. Lee y selecciona la respuesta correcta
  - A. El órgano del sentido del tacto es la \_\_\_\_\_.
  - B. Con el sentido del tacto podemos percibir la \_\_\_\_\_ y la temperatura.
2. Observa las imágenes y escribe la textura que representan



3. Une cada grafico a la temperatura que le corresponde



4. Selecciona la respuesta correcta

1. El órgano del sentido del tacto es:
  - a. **LAS MANOS**
  - b. **LA PIEL**
  - c. **LOS PIES**
  
2. Gracias al tacto podemos percibir
  - a. **LOS SABORES Y LAS TEXTURAS**
  - b. **LA TEMPERATURA, LAS TEXTURAS Y EL DOLOR**
  - c. **LAS TEXTURAS, LOS COLORES Y LOS SABORES**

5. Selecciona la opción correcta de acuerdo a la imagen



SUAVE

ÁSPERO



SUAVE

ÁSPERO



SUAVE

ÁSPERO



SUAVE

ÁSPERO