



Unidad Educativa "Rincón del Saber"

Educamos para el futuro



Asignatura: **Computación**

Responsable: Lic. Sylvia Gómez

Lección Primer Parcial - Segundo Quimestre .

1. Observa las herramientas y **escribe** en el recuadro el nombre de cada una. (2Puntos)


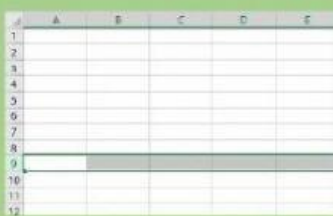
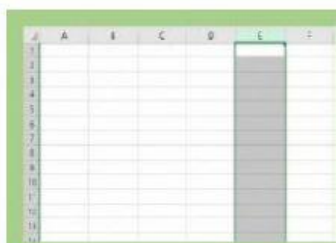


2. Selecciona el nombre correcto de cada celda, observa el ejemplo. (3Puntos)

**Ejemplo
B6**

	A	B	C	D	E	F
1						
2						
3						
4						
5						
6						
7						
8						
9						
10						
11						
12						
13						

3. Observa las imágenes y **escribe** dentro del recuadro cual pertenece a Fila, Columna y Celda (3Puntos)



4. **Selecciona la Fórmula** correcta para resolver la suma y la resta de las siguientes imágenes. (2Puntos)

SUMA					RESTA				
	A	B	C	D		A	B	C	D
1					1				
2					2				
3					3				
4			126		4			234	
5			78		5			123	
6					6				
7					7				
					8				



- 5.