


BANGUN RUANG MATEMATIKA

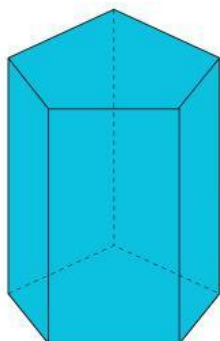
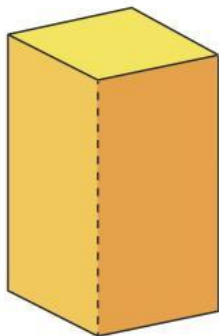
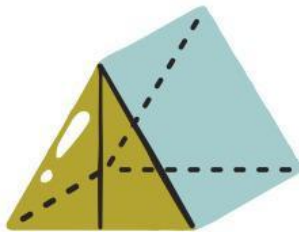
kelas 5




Made Sumiartini


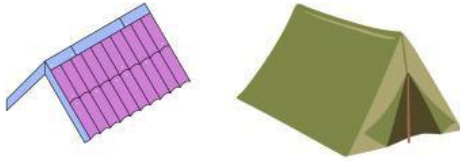
Nama:

Beri nama bangun ruang di bawah ini sesuai dengan pilihan yang di sediakan!


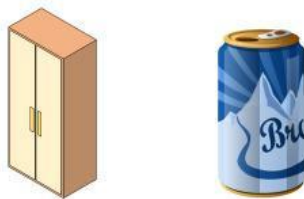


Berikan  pada kolom yang disediakan jika gambar sesuai dengan keterangan

PRISMA SEGI TIGA



PRISMA SEGI EMPAT



TABUNG



Tariklah garis sesuai sifat-sifat bangun ruuang di bawah ini!

Memiliki 5 sisi
Memiliki 9 rusuk
Memiliki 8 titik sudut

PRISMA SEGI LIMA

Memiliki 2 rusuk.
Memiliki 3 bidang
Tidak memiliki titik sudut.

PRISMA SEGI EMPAT

Memiliki 7 sisi
Memiliki 15 rusuk
Memiliki 10 titik sudut

PRISMA SEGI TIGA

Memiliki 5 sisi
Memiliki 9 rusuk
Memiliki 6 titik sudut

TABUNG