

LEMBAR KERJA PESERTA DIDIK (LKPD)

Mata Pelajaran : Matematika
Kelas : V (Lima)
Materi Pokok : Sifat-sifat bangun ruang

Petunjuk kegiatan :

1. Berdoalah sebelum mengerjakan
2. Bacalah petunjuk pada setiap kegiatan
3. Setelah mengakhiri LKPD, tulis nama, nomor absen dan kelas
4. Apabila belum paham, tanyakan kepada guru
5. Sebelum mengerjakan LKPD, simak video di bawah ini



Selamat Mengerjakan



Kegiatan 1

Beri nama bangun ruang di bawah ini sesuai dengan pilihan yang disediakan!

PRISMA
SEGI TIGA

BALOK

LIMAS
SEGITIGA

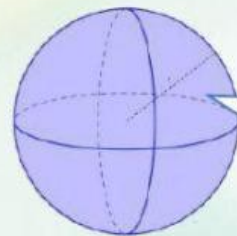
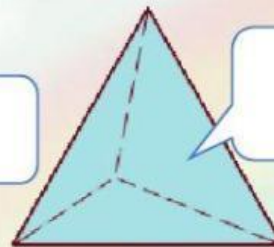
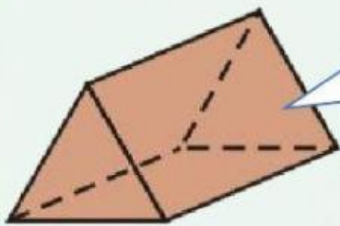
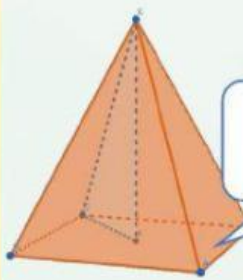
TABUNG

BOLA

KUBUS

KERUCUT

LIMAS SEGI
EMPAT



LEMBAR KERJA PESERTA DIDIK (LKPD)

Kegiatan 2

Tariklah garis sesuai dengan sifat-sifat bangun ruang di bawah ini!

Memiliki 6 rusuk, 3 sisi berbentuk segitiga, dan 4 titik sudut.	BALOK
Memiliki 12 rusuk, 6 sisi berbentuk persegi dan 3 pasang bidang sejajarnya sama dan sebangun.	LIMAS SEGI EMPAT
Memiliki 2 sisi, yaitu sisi alas berbentuk lingkaran dan selimut, memiliki 1 rusuk dan tidak memiliki titik sudut, tetapi memiliki titik puncak.	KUBUS
Memiliki 3 sisi berbentuk persegi dan 2 sisi berbentuk segitiga, serta tidak memiliki diagonal ruang.	KERUCUT
Memiliki 12 rusuk, 6 sisi berbentuk persegi panjang, dan memiliki 3 pasang bidang sejajar.	LIMAS SEGITIGA
Memiliki 3 sisi yaitu 2 sisi berbentuk lingkaran dan 1 sisi lengkung, memiliki 2 rusuk dan tidak memiliki titik sudut.	TABUNG
Memiliki 5 sisi yang terdiri atas 4 sisi berbentuk segitiga, satu sisi berbentuk persegipanjang dan tidak memiliki diagonal ruang.	PRISMA SEGI TIGA



LEMBAR KERJA PESERTA DIDIK (LKPD)

Kegiatan 3

Kelompokkan gambar di bawah ini dengan bangun ruang yang sesuai!



<p style="text-align: center;">Kubus</p> <p>1. 2.</p>	<p style="text-align: center;">Balok</p> <p>1. 2.</p>
<p style="text-align: center;">Prisma Segi Tiga</p> <p>1. 2.</p>	<p style="text-align: center;">Kerucut</p> <p>1. 2.</p>
<p style="text-align: center;">Tabung</p> <p>1. 2.</p>	<p style="text-align: center;">Bola</p> <p>1. 2.</p>

