

PERKAITAN ANTARA SISTEM DALAM TUBUH MANUSIA

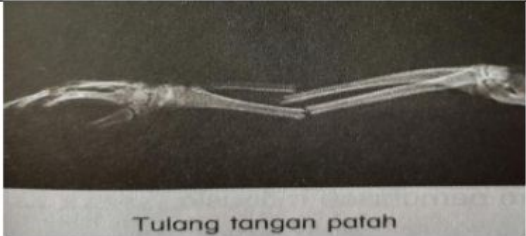

1. Berikan tiga contoh sistem dalam tubuh manusia

i. _____

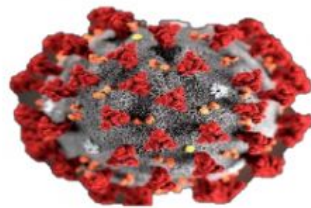
ii. _____

iii. _____

2. Nyatakan system yang terlibat dalam setiap situasi berikut.

Situasi	Sistem yang terlibat
 <p>Tulang tangan patah</p>	i. _____ ii. _____
 <p>Penyakit COVID-19</p>	i. _____ ii. _____

3. Rajah menunjukkan sejenis virus yang menyebabkan penyakit di seluruh dunia iaitu COVID-19. Virus ini menyerang system pernafasan manusia. Nyatakan dua Langkah yang boleh diambil untuk mengelakkan dijangkiti penyakit ini dan seterusnya membantu memerangi penularan penyakit ini.



i. _____

ii. _____