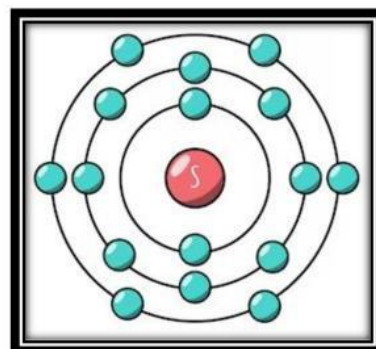


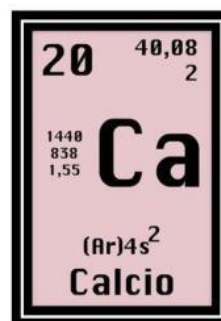
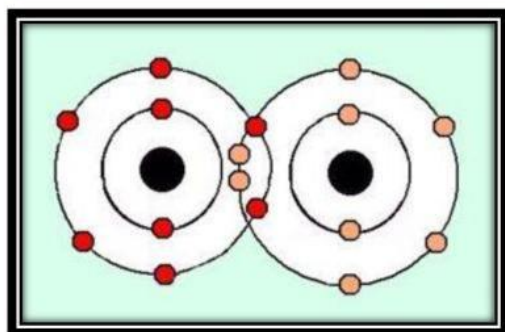
ALUMNO:

GRUPO:

Arrastra la palabra al dibujo correspondiente.

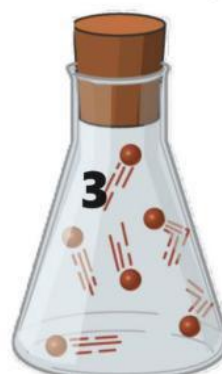
TABLA PERIÓDICA DE LOS ELEMENTOS



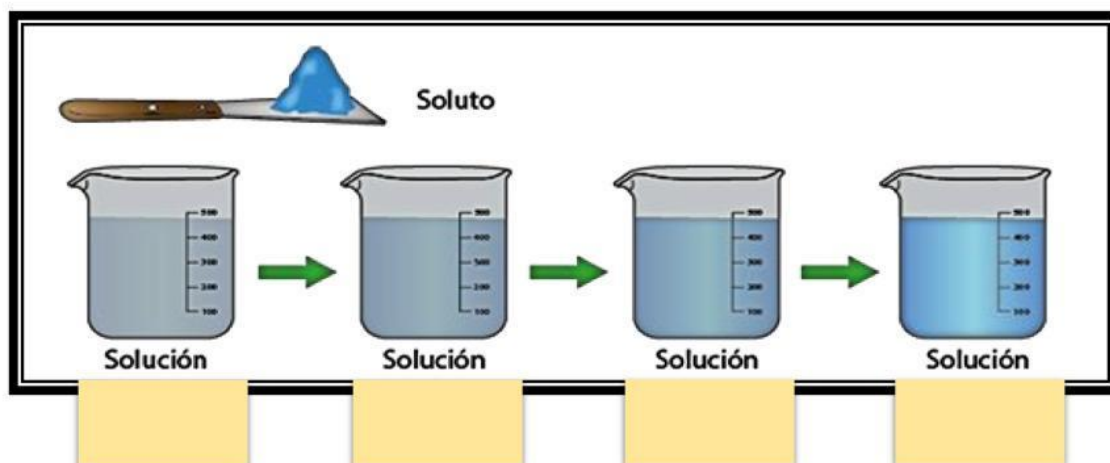





En la siguiente imagen señala si se trata del modelo corpuscular de líquido, gas o sólido.



En la siguiente imagen elige el número 1 a la solución saturada, el 2 a la solución diluida, el 3 a la solución concentrada y el 4 a la sobresaturada.



Elige si la imagen corresponde a un elemento, compuesto o mezcla.

