


ÁNGULOS Y



1. Relaciona cada polígono con su nombre:




TRIÁNGULO



PENTÁGONO




HEXÁGONO




CUADRADO


2. Relaciona cada ángulo con su nombre.



OBTUSO



AGUDO



RECTO

3. ¿Cuál es el perímetro de un triángulo de 5 cm de lado?

Perímetro = + + = cm

